

الْحِسَابُ الذِّهْنِيُّ :

① 3 قَطْعِ نَقْدِيَّةٍ مِنْ فِئَةِ 200 مِي = $\boxed{\dots\dots\dots}$ مِي

② 3 قَطْعِ نَقْدِيَّةٍ مِنْ فِئَةِ 200 مِي + 3 قَطْعِ نَقْدِيَّةٍ

مِنْ فِئَةِ 50 مِي = $\boxed{\dots\dots}$ مِي

③ عَدَدٌ مَحْضُورٌ بَيْنَ 650 وَ 652 ← $\boxed{\dots}$

④ عَدَدٌ يَأْتِي مَبَاشَرَةً بَعْدَ 509 ← $\boxed{\dots\dots}$

⑤ أَكْبَرُ عَدَدٍ يَتَكُونُ مِنْ ثَلَاثَةِ أَرْقَائِمٍ وَرَقَمِ

مِائَاتِهِ 5 ← $\boxed{\dots}$

⑥ اكْمَلِ الْفُرَاقَ بِالْعَدَدِ الْمُنَاسِبِ =

$\boxed{\dots\dots} = 350 + 500$ || $700 = \boxed{\dots} + 650$

$\boxed{\dots\dots} = 450 + 450$ || $800 = \boxed{\dots} - 900$

⑦ أَرْتَبْ تَصَاعُدِيًّا = 770 - 707 - 700 - 721 =

⑧ أَرْتَبْ تَنَازُلِيًّا = 450 - 400 - 421 - 499 =

أَلْحَسَابُ الذَّهْنِي:

1. أَمَلَا الْفَرَاغَ بِالْعَدَدِ الْمُنَاسِبِ:

$$\boxed{\quad} = 8 + 40$$

$$\boxed{\quad} = 6 + 30$$

$$50 = \boxed{\quad} + 45$$

$$38 = \boxed{\quad} + 28$$

2. الْفَارِقُ بَيْنَ 40 وَ 60 هُوَ $\boxed{\quad}$

3. الْفَارِقُ بَيْنَ 20 وَ 40 هُوَ $\boxed{\quad}$

الْوَضْعِيَّةُ ④: كَرِيمُ بْنُ مَعْتَدٍ

بَاعَ صَاحِبٌ دُكَّانَ 40 خُبْزَةً وَ 20 قِطْعَةً مَرَطَبَاتٍ

فِي الصَّبَاحِ ، وَ 39 خُبْزَةً وَ 38 قِطْعَةً

مَرَطَبَاتٍ فِي الْمَسَاءِ .

أَمَلَا الْعَدْوَلَ لِتَحْيِيلِ مَعْطِيَّاتِ الْوَضْعِيَّةِ


الحساب الذهني :

1. العددان المحصورين 61 و 59 ←

2. عدد يأتي مباشرة بعد 69 ←

3. ضعف 14 هو

ضعف 10 هو

4.  قطع نقدية من فئة

5.  قطع نقدية من فئة

6. املا الفراغ بالعدد المناسب :

$$\square = 8 + 60$$


$$68 = \square + 61$$


الحساب الذهني:


① ما هو العدد المَحْضُورُ بَيْنَ 499 و 501 ←

② العدد الذي يأتي مباشرة بعد 899 هو

③ ما هو الفرق بين 350 و 450 ←

④ 5 قطع نقدية من فئة  =

⑤ قَطَعْنَا 200  نِقْدِيَّتَيْنِ مِنْ فِئَةِ

و 4 قَطِيعِ نِقْدِيَّةٍ مِنْ فِئَةِ  =

⑥ شَرَتُ أَحْلَامٌ مِثْلَجَةً، دَفَعَتْ لِلتَّاجِرِ

780 مِي فَارَجَعُ لَهَا 30 مِي .

مَا هُوَ ثَمَنُ الْمِثْلَجَةِ ؟ ←



⑦ شَرَتُ مَرْيَمُ قَلَمًا وَدَفَعَتْ

فَارَجَعُ لَهَا الْبَائِعُ 20 مِي . ←