

السؤال

بِمُنَاسَبَةِ الْيَوْمِ الْوَطْنِيِّ لِلْمَعُوقِينَ قَرَّرَ تَلَامِيذُ مَدْرَسَتِنَا زِيَارَةَ مَرْكَزِ الْأَمَلِ
لِلْمَعُوقِينَ ذَهْنِيًّا بِصَفَافِسَ. وَلِشِرَاءِ بَعْضِ الْهَدَايَا سَاهَمَ التَّلَامِيذُ وَالْأُسْرَةُ
التَّرْبَوِيَّةُ بِمَبْلَغِ قَدْرُهُ 998 دِينَارًا.
وهذا جدول يُبَيِّنُ مُسَاهَمَتِهِمْ.

تَلَامِيذُ الدَّرَجَةِ الْأُولَى	سَاهَمُوا بِـ 285 دِينَارًا
تَلَامِيذُ الدَّرَجَةِ الثَّانِيَةِ	سَاهَمُوا بِمَبْلَغٍ <u>يَفُوقُ</u> مُسَاهَمَةَ تَلَامِيذِ الدَّرَجَةِ الْأُولَى بِـ 73 دِينَارًا
تَلَامِيذُ الدَّرَجَةِ الثَّالِثَةِ	سَاهَمُوا بِمَبْلَغٍ <u>يَقِلُّ</u> عَنِ مُسَاهَمَةِ تَلَامِيذِ الدَّرَجَةِ الثَّانِيَةِ بِـ 105 دِينَارًا

التعليمة 1.1: أَحْسِبْ مُسَاهَمَةَ تَلَامِيذِ الدَّرَجَةِ الثَّانِيَةِ:

التعليمة 2.1: أَحْسِبْ مُسَاهَمَةَ تَلَامِيذِ الدَّرَجَةِ الثَّالِثَةِ:

التعليمة 3.1: أَحْسِبْ مُسَاهَمَةَ الدَّرَجَاتِ الثَّلَاثِ:

التعليمة 4.1: أَحْسَبُ مُسَاهَمَةَ الْأُسْرَةِ التَّرْبَوِيَّةِ:

السند 2

اشْتَرَى الْمَسْئُولُ عَنْ هَذِهِ الْحَمْلَةِ التَّضَامُنِيَّةِ مَلَاسٍ بِـ 280 دِينَارٍ وَأَخْذِيَّةً بِـ 270 دِينَارٍ وَأَدَوَاتٍ مَدْرَسِيَّةٍ بِـ 310 دِينَارٍ.
التعليمة 1.2: أَحْسَبُ ثَمَنَ الْمُشْتَرِيَّاتِ:

التعليمة 2.2: أَحْسَبُ الْمَبْلَغَ الْمُتَبَقِّي:


السند 3

أَرَادَتْ رَوْضَةُ وَسَلِيمَةُ وَلَيْئَةُ شِرَاءَ بَاقَةِ مِنَ الْوَرْدِ لِتَقْدِيمِهَا لِإِدِيرَةِ الْجَمْعِيَّةِ
فَسَاهَمَتْ رَوْضَةُ بِـ 695 مِي وَسَاهَمَتْ لَيْئَةُ بِمَبْلَغِ قِيمَتِهِ 435 مِي وَسَاهَمَتْ
سَلِيمَةُ بِمَبْلَغِ قِيمَتِهِ 810 مِي.


التعليمة 1.3: أكْمِلْ تَمَثِيلَ مَبْلَغِ رَوْضَةٍ بِأَقْلَى مَا يُمَكِّنُ مِنَ الْقِطْعِ النَّقْدِيَّةِ:



التعليمة 2.3: أكْمِلْ تَمَثِيلَ مَبْلَغِ لَيْئَةٍ بِأَرْبَعِ قِطَعِ نَقْدِيَّةٍ:



التعليمة 3.3: أكْمِلْ تَمَثِيلَ مَبْلَغِ سَلِيمَةٍ بِثَلَاثِ قِطَعِ نَقْدِيَّةٍ:




أثناء السَّيْرِ أَخَذَ سَامِي وَرَقَةً وَرَسَمَ عَلَيْهَا عِلَامَاتِ الطَّرِيقِ الَّتِي رَأَاهَا.

التعليمة 1.4: أَرَسِّمْ عَلَى الشَّبَكَةِ عِلَامَةً ثَلَاثِيَّةَ الْأَضْلَاعِ:

التعليمة 2.4: أَرَسِّمْ عَلَى الشَّبَكَةِ عِلَامَةً خُمَاسِيَّةَ الْأَضْلَاعِ:

التعليمة 3.4: أَرَسِّمْ عَلَى الشَّبَكَةِ عِلَامَةً ثَمَانِيَّةَ الْأَضْلَاعِ:



المسند 5: اقترح المسؤوون عن الحملة التضامنية إنفاق بقية المبلغ المتبقي لديه

التعليمة 5.1: أتمم الجدول وأطرح سؤالاً ثم أجيب عنه.

65 دينار	العباب فكرية
190 دينار	تلفاز
58 دينار	مربكات
73 دينار	ادوات فلاحية

السؤال:

الإجابة اللفظية:

العملية:

جدول إسناد الأعداد

مقياس التميز	معايير الحد الأدنى					
	مع 4	مع 3	مع 2	مع 2	مع 1	
مع 5	0	0	0	0	0	انعدام التملك
0	1	1	1	1	1	نوع التملك الأدنى
2	2	2	2	2	2	التملك الأدنى
3.5	3	3	3	3	3	التملك الأقصى
5						

20/.....

بِمُنَاسِبَةِ الْيَوْمِ الْوَطْنِيِّ لِلْمَعْرُوقِينَ قَرَّرَ تَلَامِيذُ مَدْرَسَتِنَا زِيَارَةَ مَرْكَزِ الْأَمَلِ
لِلْمَعْرُوقِينَ ذَهْنِيًّا بِصَفَاقَسَ. وَلِشِرَاءِ بَعْضِ الْهَدَايَا سَاهَمَ التَّلَامِيذُ وَالْأُسْرَةُ
التَّرْبَوِيَّةُ بِمَبْلَغِ قَدْرُهُ 998 دِينَارًا.
وهذا جدول يبيِّن مُسَاهَمَتِهِمْ.

تَلَامِيذُ الدَّرَجَةِ الْأُولَى	سَاهَمُوا بِـ 285 دِينَارًا
تَلَامِيذُ الدَّرَجَةِ الثَّانِيَةِ	سَاهَمُوا بِمَبْلَغٍ يُفَوِّقُ مُسَاهَمَةَ تَلَامِيذِ الدَّرَجَةِ الْأُولَى بِـ 73 دِينَارًا
تَلَامِيذُ الدَّرَجَةِ الثَّلَاثَةِ	سَاهَمُوا بِمَبْلَغٍ يُقَلُّ عَنِ مُسَاهَمَةِ تَلَامِيذِ الدَّرَجَةِ الثَّانِيَةِ بِـ 105 دِينَارًا

التعليمة 1.1: أَحْسَبُ مُسَاهَمَةَ تَلَامِيذِ الدَّرَجَةِ الثَّانِيَةِ:

$$\begin{array}{r} 285 \\ + 73 \\ \hline = 358 \end{array}$$

$$\begin{array}{l} \text{مساهمة تلاميذ الدرجة الثانية} \\ 285 + 73 = 358 \text{ دينارًا} \end{array}$$

التعليمة 2.1: أَحْسَبُ مُسَاهَمَةَ تَلَامِيذِ الدَّرَجَةِ الثَّلَاثَةِ:

$$\begin{array}{r} 358 \\ - 105 \\ \hline = 253 \end{array}$$

$$\begin{array}{l} \text{مساهمة تلاميذ الدرجة الثالثة} \\ 358 - 105 = 253 \text{ دينارًا} \end{array}$$

التعليمة 3.1: أَحْسَبُ مُسَاهَمَةَ الدَّرَجَاتِ الثَّلَاثِ:

$$\begin{array}{r} 285 \\ + 358 \\ + 253 \\ \hline = 896 \end{array}$$

مساهمة الدرجات الثلاث
 $896 = 253 + 358 + 285$ ديناراً

التعليمة 4.1: أحسب مساهمة الأسرة التربوية:

$$\begin{array}{r} 998 \\ - 896 \\ \hline = 102 \end{array}$$

مساهمة الأسرة التربوية
 $102 = 998 - 896$ ديناراً



اشترى المسؤول عن هذه الحملة التضامنية ملابس بـ 280 ديناراً وأخذية بـ 270 ديناراً وأدوات مدرسية بـ 310 ديناراً.

التعليمة 1.2: أحسب ثمن المشتريات:

$$\begin{array}{r} 280 \\ + 270 \\ + 310 \\ \hline = 860 \end{array}$$

ثمن المشتريات
 $860 = 310 + 270 + 280$ ديناراً

التعليمة 2.2: أحسب المبلغ المتبقى:

$$\begin{array}{r} 998 \\ - 860 \\ \hline = 138 \end{array}$$

المبلغ المتبقى
 $138 = 998 - 860$ ديناراً



أرادت روضة وسليمة وليئة شراء باقة من الورود لتقديمها لمديرة الجمعية فساهمت روضة بـ 695 مي وساهمت ليئة بمبلغ قيمته 435 مي وساهمت سليمة بمبلغ قيمته 810 مي.


التعليمة 1.3: أكْمِلْ تَمَثِيلَ مَبْلَغِ رَوْضَةِ بَاقِلٍ مَا يُمَكِّنُ مِنَ الْقِطْعِ النَّقْدِيَّةِ:



التعليمة 2.3: أكْمِلْ تَمَثِيلَ مَبْلَغِ لَيْئَةِ بَارْبَعِ قِطْعِ نَقْدِيَّةِ:



التعليمة 3.3: أكْمِلْ تَمَثِيلَ مَبْلَغِ سَلِيمَةِ بَثْلَاثِ قِطْعِ نَقْدِيَّةِ:

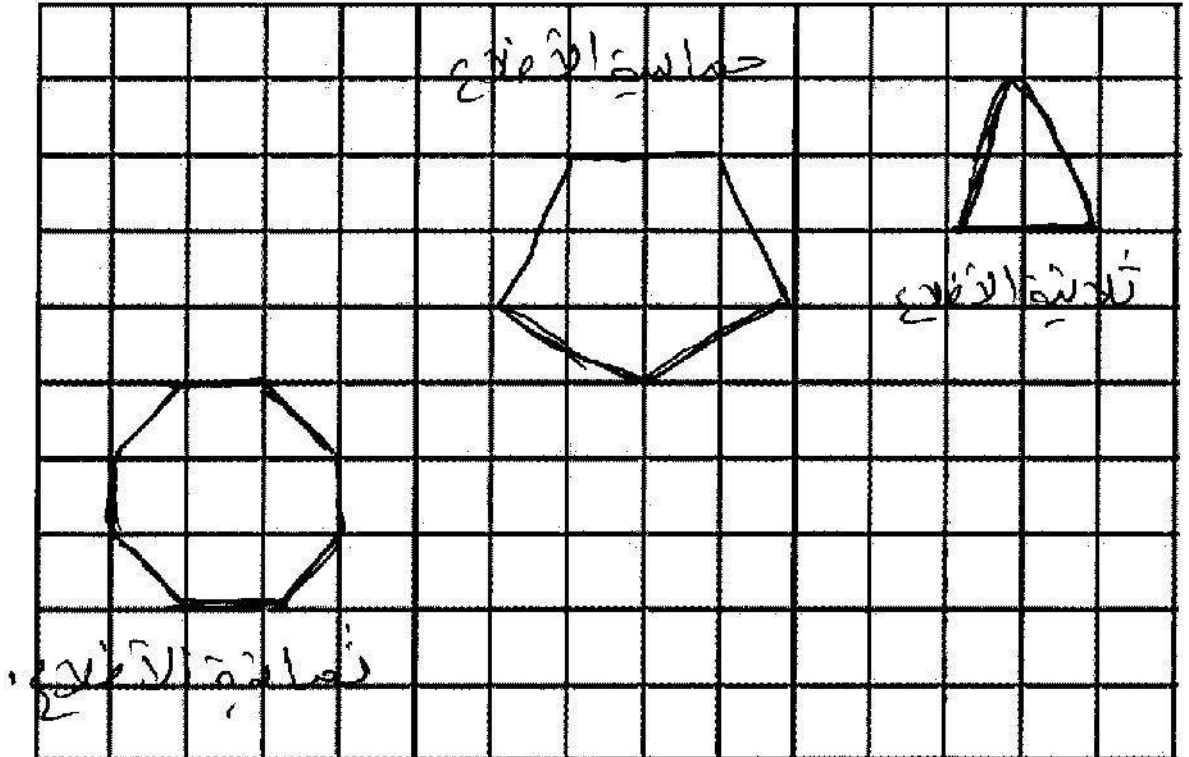


أثناء السَّيْرِ أَخَذَ سَامِي وَرَقَةً وَرَسَمَ عَلَيْهَا عِلَامَاتِ الطَّرِيقِ الَّتِي رَأَاهَا.

التعليمة 1.4: أَرَسُمُ عَلَى الشَّبَكَةِ عِلَامَةً ثَلَاثِيَّةَ الْأَضْلَاعِ:

التعليمة 2.4: أَرَسُمُ عَلَى الشَّبَكَةِ عِلَامَةً خُمَاسِيَّةَ الْأَضْلَاعِ:

التعليمة 3.4: أَرَسُمُ عَلَى الشَّبَكَةِ عِلَامَةً ثَمَانِيَّةَ الْأَضْلَاعِ:



السؤال 5: اقترح المسؤوون عن الحملة التضامنية إنفاق بقية المبلغ المتبقي لدينا

التعليمة 5.1: تأمل الجدول وأطرح سؤالاً ثم أجب عنه.

65 دينار	ألعاب فكرية
190 دينار	تلفاز
58 دينار	مربعات
73 دينار	أدوات فلاحية

السؤال: ماذا ينتج عن اشتري بها تبقى لديه

الإجابة اللفظية: ينتج أن يشتري بها تبقى لديه

العملية: $65 + 73 = 138$ ديناراً

$\frac{65}{+73}$

138

جدول إسناد الأعداد

مستوى التمييز	معايير الحد الأدنى					
	مع 4	مع 3	مع 2ب	مع 2	مع 1	
مع 5						العدم التملك
0	0	0	0	0	0	دون التملك الأدنى
2	1	1	1	1	1	التملك الأدنى
3.5	2	2	2	2	2	التملك الأقصى
5	3	3	3	3	3	

20/.....