

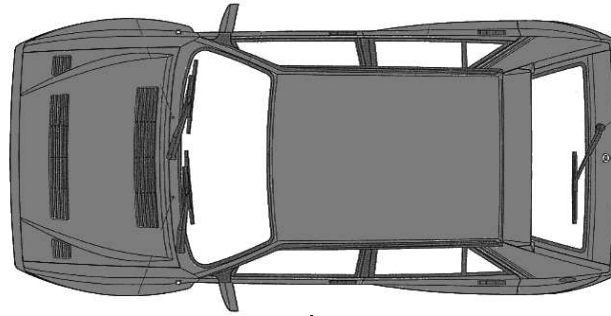
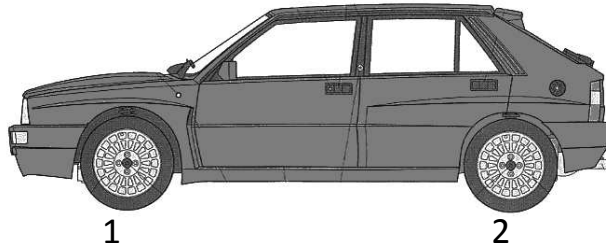
العدد المسند:

...../20

النشاط 1

مسقط أمامي

1. اكمل تسمية المساقط للسيارة



مسقط.....

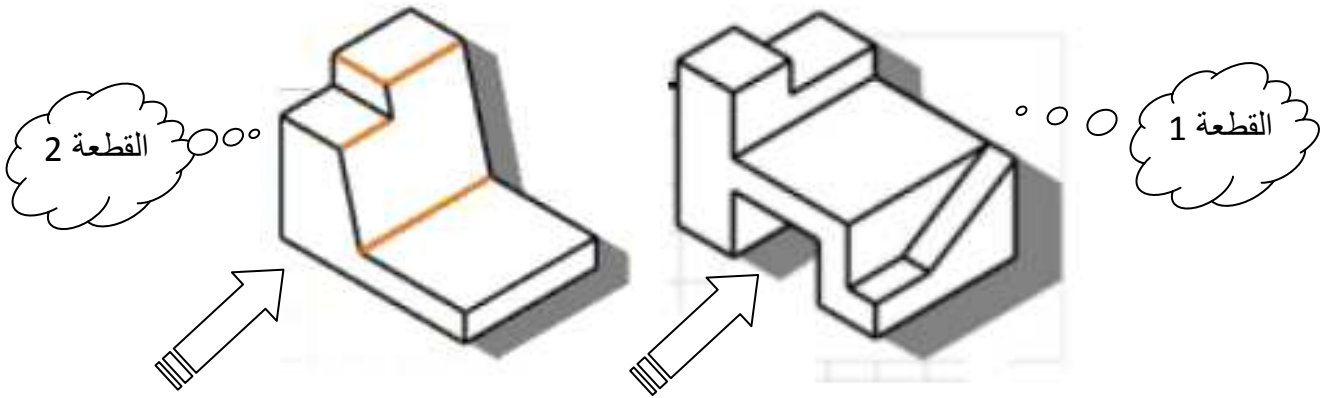
مسقط.....

مسقط.....

2. قم بترقيم القطع التالية في جميع المساقط ان كانت ظاهرة.

القطعة رقم 1
القطعة رقم 2
القطعة رقم 3
القطعة رقم 4

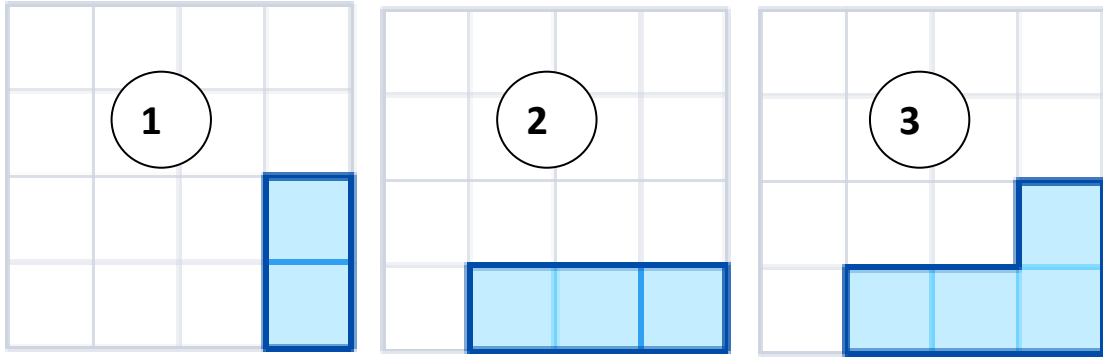
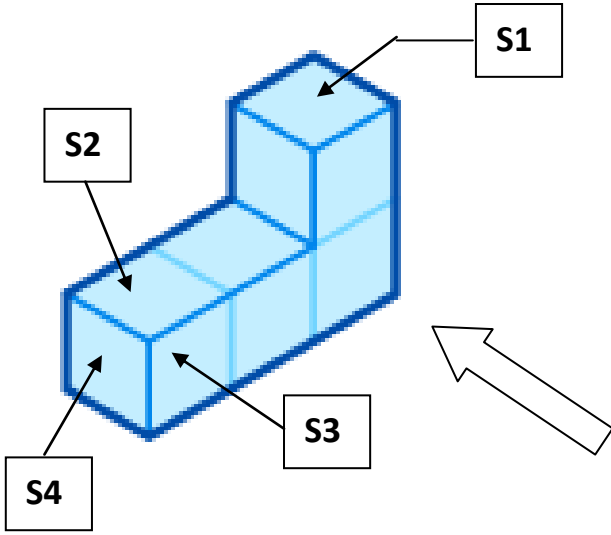
النشاط 2



1. اكمل في الجدول التالي اسم المسقط و رقم القطعة المناسب له

مسقط للقطعة رقم....	مسقط للقطعة رقم....	مسقط للقطعة رقم....
مسقط للقطعة رقم....	مسقط للقطعة رقم....	مسقط للقطعة رقم....


النشاط 3



1- قم بتحديد المساحات التالية في الرسم 1 و2 و3

S4 S3 S2 S1

2 - أكتب أرقام المساقط في المكان المناسب



النشاط 4

قم بتحديد الأضلع التالية في كل المساقط

إن كانت ظاهرة

AB

BK

KH

HG

EF

CD

