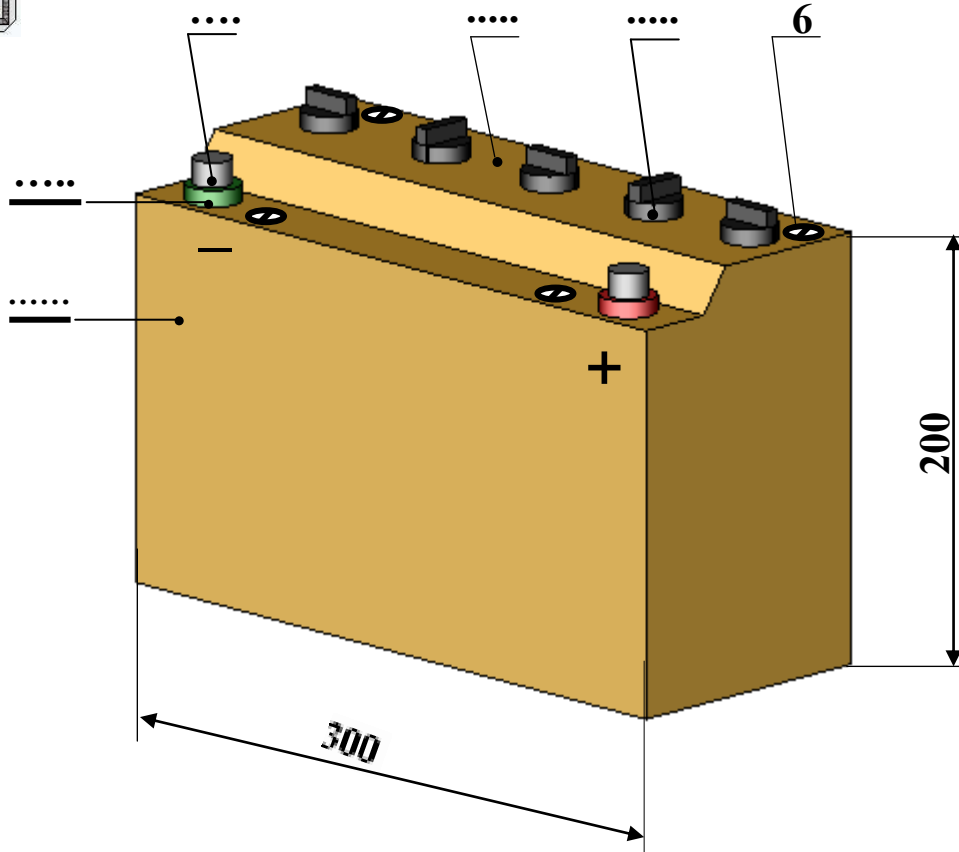


	فرض تأليفي عدد 3 في مادة التربية التكنولوجية	
العدد المسند 20 /	القسم	اللقب
الاسم		


تمهيد : الرسم الموالي يمثل بطارية
تمرين عدد 1 - اكتب اسم المنتج المبين في الرسم التالي في المكان المناسب؟

3.5



2 - أكمل كتابة أرقام العناصر في الرسم السابق على غرار العنصر عدد 6

	فولاذ	برغي	4	6
	بلاستيك	حلقة	2	5
		قطب	2	4
	بلاستيك	سدادة	5	3
	بلاستيك	غطاء	1	2
	بلاستيك	صندوق	1	1
الملاحظات	المادة	التسمية	العدد	الرقم

المدرسة الإعدادية الخضراء سببطنة		
السلم	الاسم
		اللقب
		القسم

2.5

3 - أقيس بالمسطرة المنتج المرسوم في الصفحة الأولى و أحدد نوع السلم المتبع في رسم هذا المنتج . إجابة : سلم

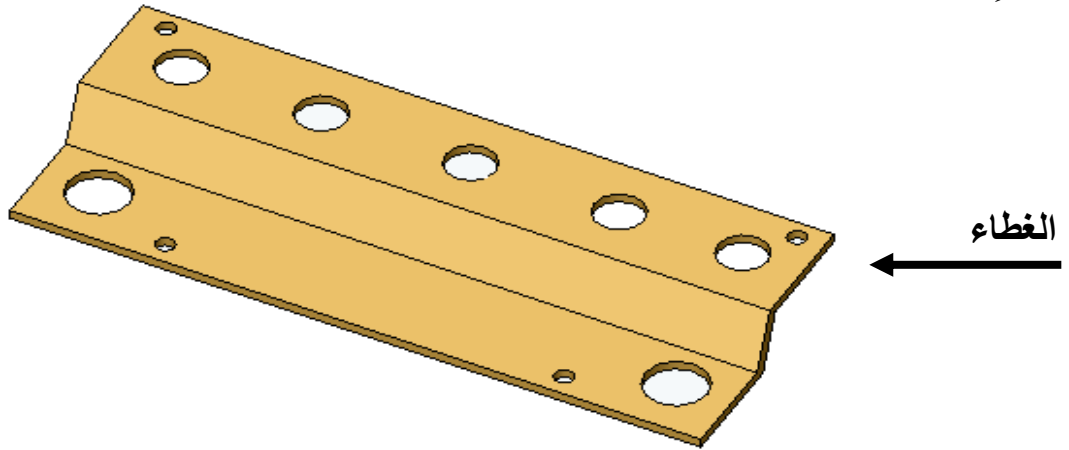
4 - ماذا نسمي القطعة رقم 3 في الرسم السابق و ما هي مادة صنعها ؟

إجابة : اسمها المادة

تمرين عدد II 1 - كم عدد الثقب المنجزة في غطاء المنتج السابق

إجابة

7



2 - ما هي الآلة التي نحتاجها لإنجاز هذه العملية ؟

إجابة

3 - أختار المثقاب المناسب لإتمام هذه العملية بوضع العلامة X تحت الإجابة الصحيحة

مثقاب للخشب	مثقاب للمعادن	مثقاب للبلاستيك	مثقاب للخرسانة

4 - اذكر أربعاً من بين قواعد الحماية التي يجب العمل بها لنحمي أنفسنا أثناء عملية الثقب ؟

أ

ب

ج

د

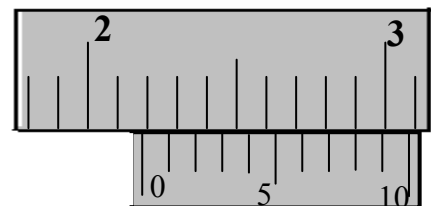
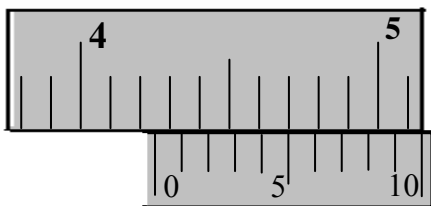
تمرين عدد III أثناء القياس بالقدم الزالق تحصلنا على الوضعيات التالية

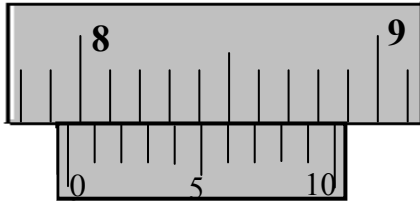
أعين كل مثال منها و أكتب عليه القيمة المناسبة .

القياس عدد 2

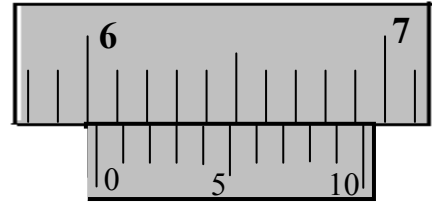
القياس عدد 1

2





القياس عدد 4.....



القياس عدد 3.....

5

تمرين عدد IV ارسم داخل الشبكة و انطلاقا من النقطة O1 رسما ثلاثي الأبعاد للحلقة حسب الشروط التالية : الوجه الأمامي للرسم اتجاه السهم - اتجاه النظر (يمين علوي) - الزاوية : 45° عامل استهراب الخطوط $K = 0.5$ الأبعاد : القطر الخارجي 60 مم ، قطر الثقب 30 مم ، طول الأسطوانة 30 مم

