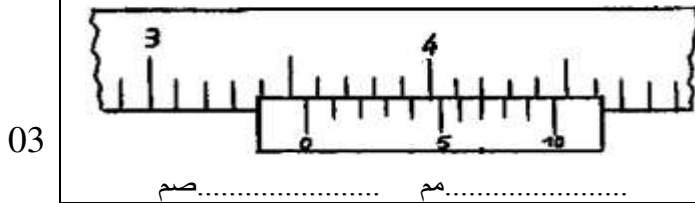
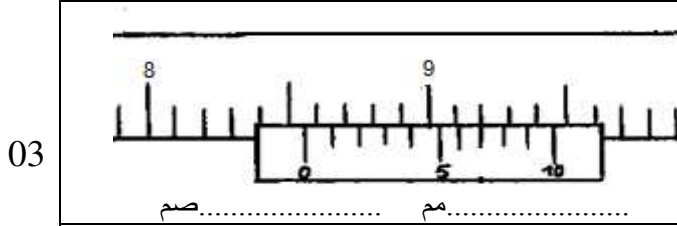


الاسم:..... اللقب:..... الرقم:.....القسم:7 أ.....	اختبار كتابي في مادة التربية التكنولوجية التوقيت:30 دقيقة أفريل 2012	المدرسة الإعدادية محمود المسعدي سببية
العدد:/20		الإعداد: اساتذة التربية التكنولوجية

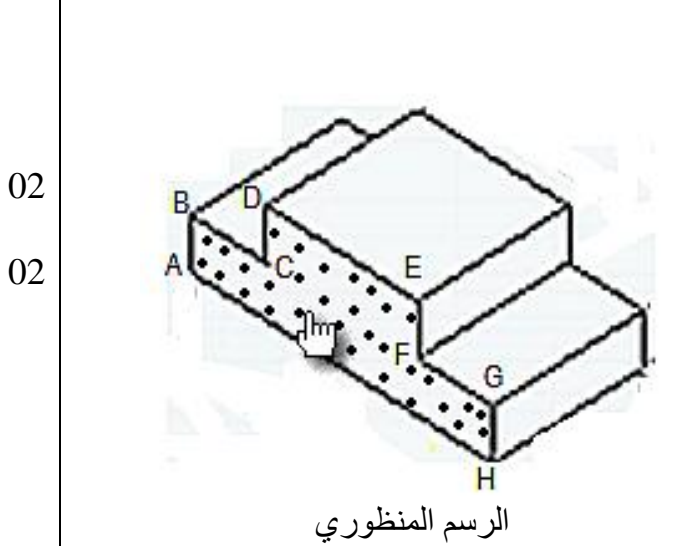
**** الجزء الأول " استعمال القدم الزالق " :**



- 1- لون المسطرة فقط بقلم تلوين.
- 2- إستخرج البعد المناسب في الوضعية التالية مستعملا وحدتان (م/صم)



- 1- لون المسطرة فقط بقلم تلوين.
- 2- إستخرج البعد المناسب في الوضعية التالية مستعملا وحدتان (م/صم)

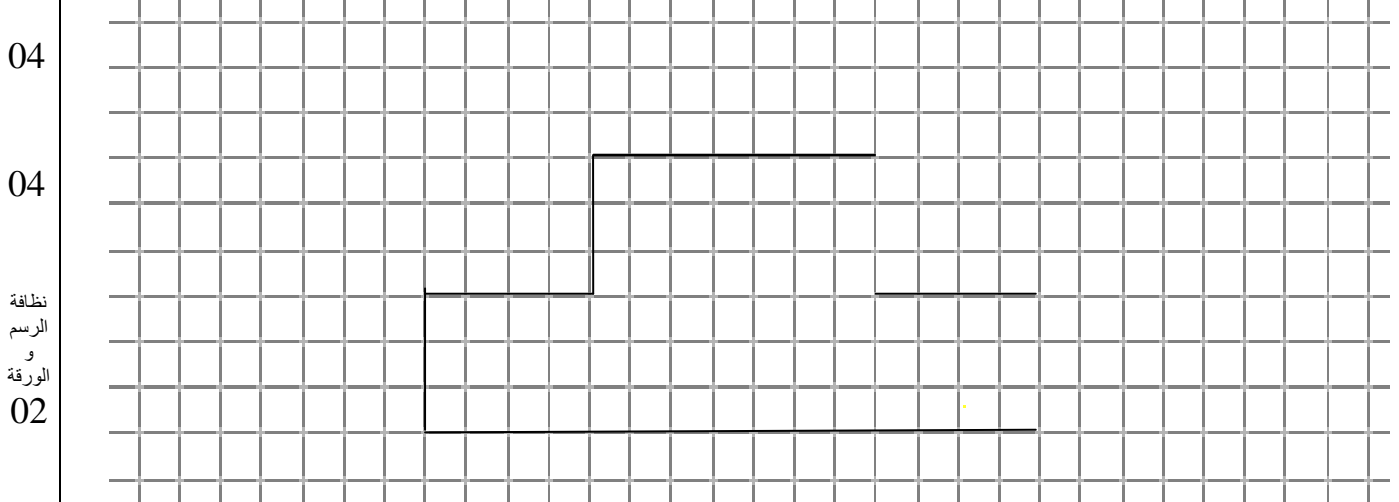


الجزء الثاني: رسم ثلاثي الابعاد لـ " منصّة الفانزين " :

- 1- لون الوجه العلوي على الرسم المنظوري.
- 2- ماهو إتجاه النظر المستعمل في هذا الرسم؟
- 3- أعد إنجاز رسم ثلاثي الابعاد على الشبكة حسب المعطيات التالية:

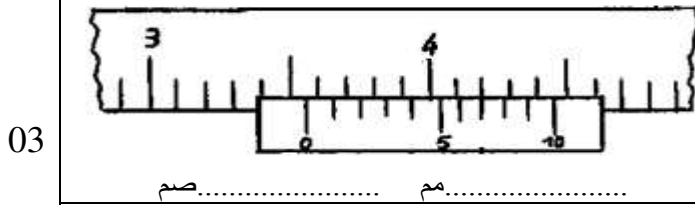
* وجه أمامي ABCDEFGH
 * يساري علوي (↖)
 * 45°
 * K=0.5
 * السلم 1:1

ملاحظة: ** لقد وقع إنجاز جزء من الوجه الامامي. ** طول الخطوط المائلة يساوي 20مم (4 مربعات)

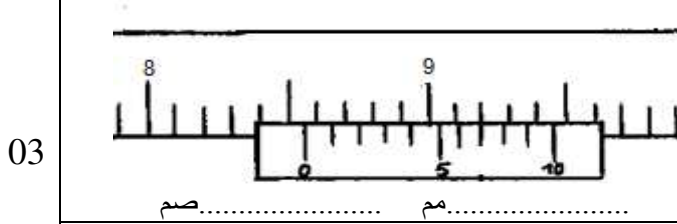


الاسم:..... اللقب:..... الرقم:.....القسم:7 أ.....	اختبار كتابي في مادة التربية التكنولوجية التوقيت:30 دقيقة أفريل 2012	المدرسة الإعدادية محمود المسعدي سببية الإعداد: اساتذة التربية التكنولوجية
العدد: 20/.....		

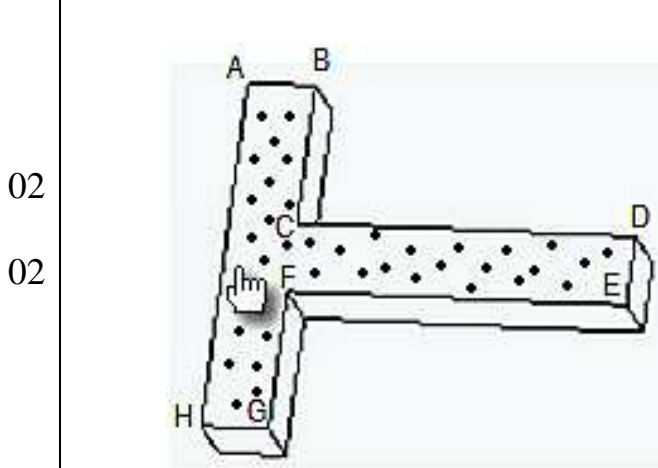
**** الجزء الأول " استعمال القدم الزالق " :**



- 3- لون المسطرة فقط بقلم تلوين.
 4- إستخرج البعد المناسب في الوضعية التالية مستعملا وحدتان (م/م/صم)



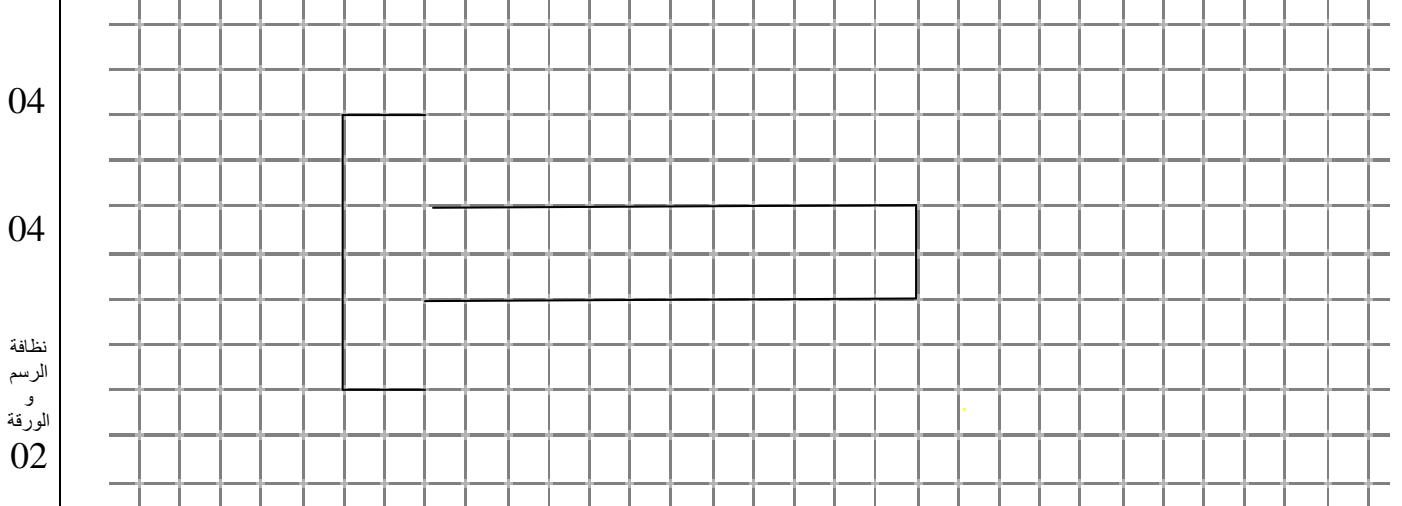
- 3- لون المسطرة فقط بقلم تلوين.
 4- إستخرج البعد المناسب في الوضعية التالية مستعملا وحدتان (م/م/صم)



- الجزء الثاني: رسم ثلاثي الابعاد لمسطرة :**
 1- لون الوجه اليميني على الرسم المنظوري.
 2- ماهو إتجاه النظر المستعمل في هذا الرسم؟

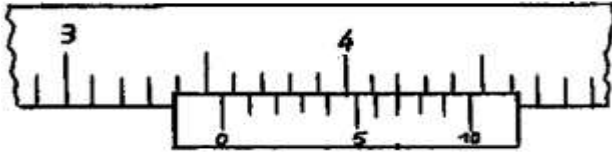
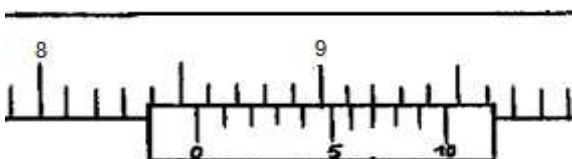
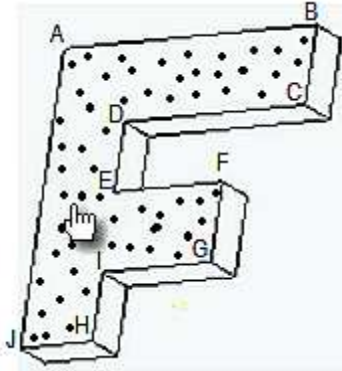
- 3- أعد إنجاز رسم ثلاثي الابعاد على الشبكة حسب المعطيات التالية:
 * وجه أمامي ABCDEFGH
 * يساري علوي (↖)
 * 45°
 * K= 0.5
 * السلم 1:1

ملاحظة: ** لقد تم إنجاز جزء من الوجه الامامي. ** طول الخطوط المائلة يساوي 20مم (4 مربعات)



الاسم:..... اللقب:..... الرقم:.....القسم:7 أ.....	اختبار كتابي في مادة التربية التكنولوجية التوقيت:30 دقيقة أفريل 2012	المدرسة الإعدادية محمود المسعدي سببية
العدد: 20/.....		الإعداد: اساتذة التربية التكنولوجية

**** الجزء الأول " استعمال القدم الزالق " :**

03	 <p>صم..... مم.....</p>	5 - لون المسطرة فقط بقلم تلوين. 6 - إستخرج البعد المناسب في الوضعية التالية مستعملا وحدتان (مم/صم)
03	 <p>صم..... مم.....</p>	5 - لون المسطرة فقط بقلم تلوين. 6 - إستخرج البعد المناسب في الوضعية التالية مستعملا وحدتان (مم/صم)
02	 <p>الرسم المنظوري</p>	الجزء الثاني: <u>رسم ثلاثي الأبعاد لقطعة مصنعة :</u> 1- لون الوجه اليميني على الرسم المنظوري. 2- ماهو إتجاه النظر المستعمل في هذا الرسم؟ 3- أعد إنجاز رسم ثلاثي الأبعاد على الشبكة حسب المعطيات التالية: * وجه أمامي ABCDEFGHIJ * يساري علوي (↖) * 45° * K= 0.5 * السلم 1:1

ملاحظة: ** لقد وقع إنجاز جزء من الوجه الامامي. ** طول الخطوط المائلة يساوي 20مم (4 مربعات)

04	
04	
02	

نظافة
الرسم
و
الورقة
02

⤵ b) Le pied à coulisse

