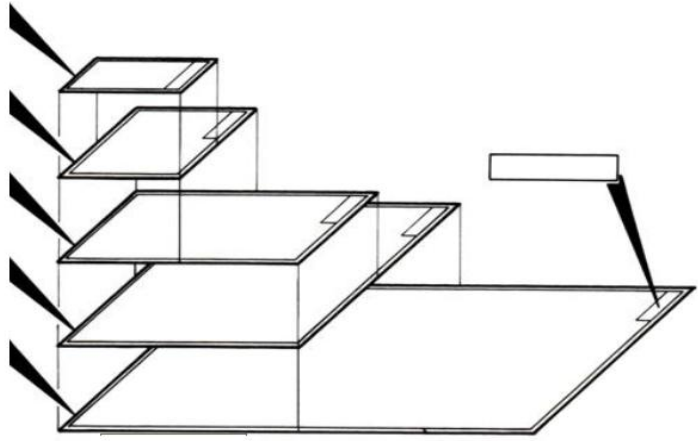


الاسم : ..... اللقب : ..... الرقم : ..... القسم : 7 أساسى .....

السؤال الأول: لاحظ وثائق الرسم اكمل المطلوب بما يناسب :

A4	.....	.....
.....	420	297
.....	594	420
A1	.....	.....
.....	1188	840
وثيقة الرسم	العرض الأبعاد بالمليمتر	الطول

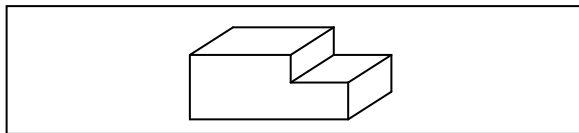


ب- أذكر تحت كل رسم اتجاه النظر و رمزه.

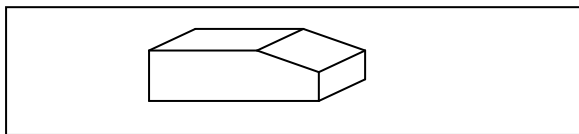
اتجاه النظر: ..... الرمز:	اتجاه النظر: ..... الرمز:	اتجاه النظر: ..... الرمز:

التمرين الثاني :

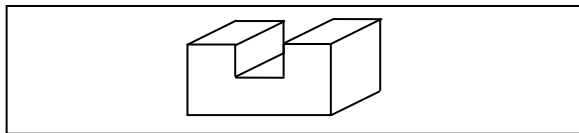
1) أربط بسهم العبارات والشكل المناسب؟



المجرى



الشطاف



الجزء

التمرين الثالث :

لنعتبر القطعة الموشورية التالية :  
أنجز داخل الشبكة رسم ثلاثي الأبعاد لهذه القطعة حسب المعطيات التالية :  
\* الوجه الأمامي ABCDE

\* زاوية الإستهراب  $45^\circ$

\* عامل الإستهراب  $K=0.5$

\* اتجاه النظر : اليمين العلوي

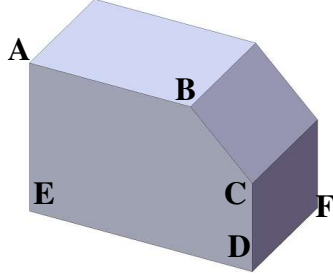
\* مع العلم أن :

$$EA = 55 \text{ مم} \quad AB = 55 \text{ مم}$$


$$ED = 80 \text{ مم} \quad DC = 30 \text{ مم}$$

$$DF = 60 \text{ مم}$$

\* شطف  $25 \times 45^\circ$



/10



حظ سعيد

