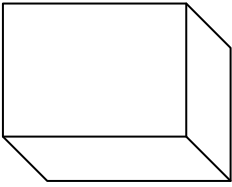
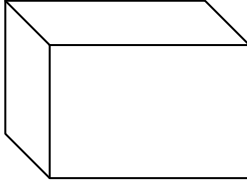
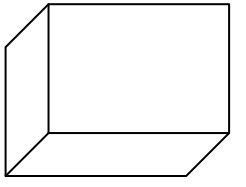


الاسم : اللقب : الرقم : القسم : 7 أساسى

السؤال الأول: ضع علامة X في المكان المناسب :

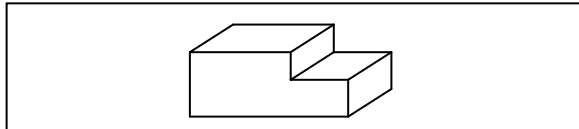
لا	نعم	
		عامل الإستهراب K هو عدد نضربه في الأبعاد الحقيقية للأضلاع للحصول على قياسات الخطوط المائلة في الرسم الثلاثي الأبعاد.
		سلم 1:3 هو سلم حقيقي.
		وحدة القياس الأساسية في الرسم التقني هي الصنتمتر .
		لإنجاز رسم ثلاثي الأبعاد لقطعة تبدأ برسم الوجه الجانبي.
		طول ورقة الرسم A4 يساوي 50صنتمتر.
		في الرسم الثلاثي الأبعاد ترسم الخطوط المائلة بأبعادها الحقيقية.
		يوجد 5 اتجاهات نظر ممكنة.
		ترسم الخطوط المائلة بطول أقل من طولها الحقيقي.

ب- أذكر تحت كل رسم اتجاه النظر و رمزه.

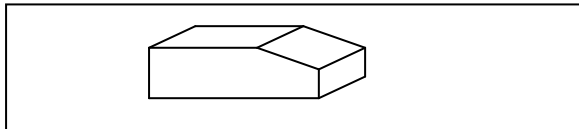
		
اتجاه النظر: الرمز:	اتجاه النظر: الرمز:	اتجاه النظر: الرمز:

التمرين الثاني :

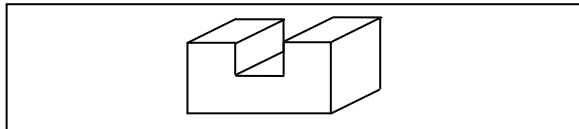
1) أربط بسهم العبارات والشكل المناسب؟



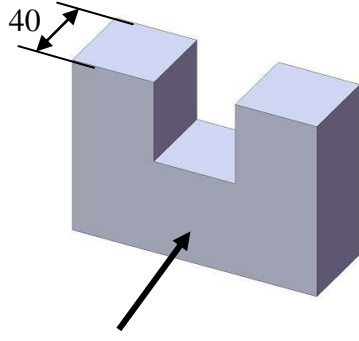
المجرى



الشطف

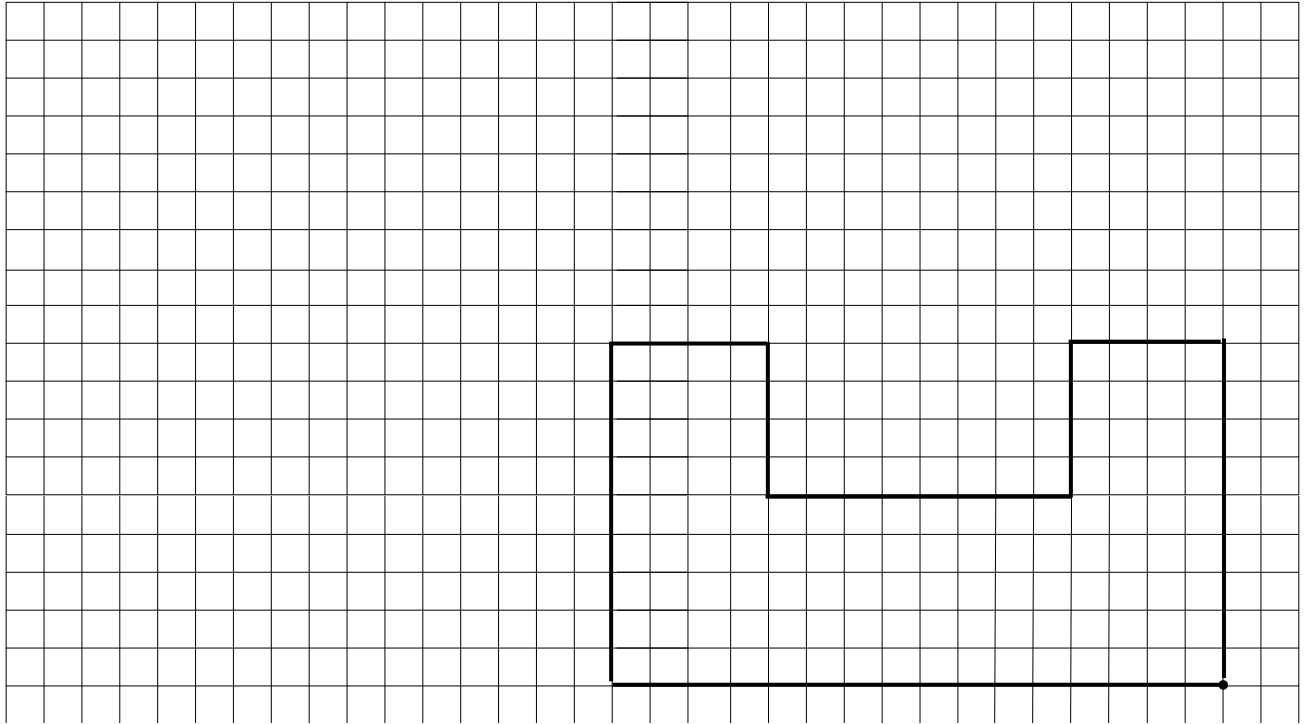


الحزّة



التمرين الثالث :
لنعتبر القطعة الموشورية التالية :
عامل الاستهراب $K = 0.5$
زاوية الاستهراب $45^\circ = \alpha$
اتجاه النظر :

/10



حظ سعيد