

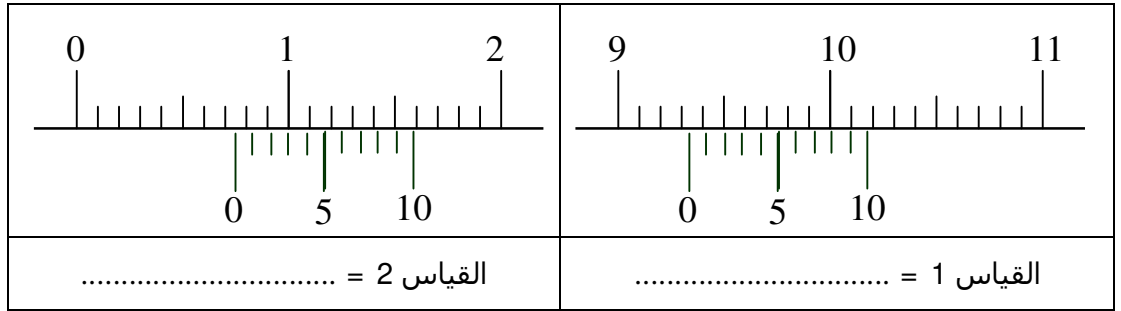
الإسم : اللقب : القسم : الرقم :

تمرين عدد 1

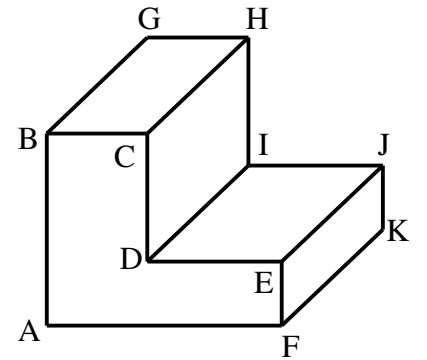

① أذكر القياسات المناسبة لكل مقاس :
(
..... = A4
..... = A3

تمرين عدد 2

أثناء استعمال القدم الزالق و قيس بعض القطع تحصلنا على الوضعيات التالية: (/ 3)
(
اقرأ القياسات و قم بتسجيلها في الجدول.

**تمرين عدد 3**

❖ أنجز على الشبكة رسما ثلاثي الأبعاد للقطعة بالخصائص التالية : (/ 15)



قياسات الأضلاع :
 $AB = 60$ مم
 $AF = 60$ مم
 $BC = 25$ مم
 $EF = 20$ مم
 $FK = 70$ مم

الوجه الأمامي للرسم : ABCDEF

اتجاه النظر : بزواوية 45

$K = 0.5$

طول الضلع المائل =