


السنة الثانية	امتحان ايقاظ علمي	المدرسة الابتدائية
الثلاثي الثالث		-----

السند 1

كَانَ الطُّقْسُ جَمِيلاً وَالهَوَاءُ عَلِيلاً فَاقْتَرَحَ الْأَطْفَالُ أَنْ يَتَنَاوَلُوا فَطُورَ الصَّبَاحِ فِي الْمَرْزَعَةِ تَحْتَ شَجَرَةِ التُّوتِ. أَخْرَجَتِ الْأُمُّ الْقَهْوَةَ وَالْحَلِيبَ وَأَخْرَجَتِ فَاطِمَةُ خُبْزًا وَتَبِعَهَا أَحْمَدُ يَحْمِلُ الْبَيْضَ وَعَصِيرَ الْبُرْتُقَالِ ثُمَّ جَلَبَ الْأَبُ الْكُؤُوسَ وَالْمَلَاعِقَ وَالصُّحُونَ.

التعليمة 1: أصنّف في الجدول: عصير، خبز، قهوة، حليب، بخار

القهوة، ملاعق، صحنون، بيض، هواء.



أجسام صلبة	أجسام غازية	أجسام سائلة

التعليمة 2: أصلح الخطأ إن وُجد:

- الملعقة من الخشب أشد صلابة من الصحن الحديدي.

←

التعليمة 3: أكمل بالتعليل المناسب:

الحليب يأخذ شكل العلب التي تحتويه لأنه جسم
البيض لا يأخذ شكل الإناء الذي يخويه لأنه جسم
الهواء يأخذ شكل العجلة التي تخويه لأنه جسم

انتهى الجميع من تناول فطور الصباح فتوجهت فاطمة وأُمها لترتيب
المطبخ والغرف.

التعليمية 1: أكمل الفراغات بما يناسب من المفردات التالية:

عضلية - مغناطيسية - كهربائية


- وضعت الأم ما بقي من الطعام في الثلاجة: الثلاجة تعمل بقوة.....

- جمعت البنث الكراسي في أحد أركان المطبخ: قوة.....

- فتحت فاطمة المدياع قبل تنظيف الغرف: المدياع يعمل بقوة.....

ذهب أحمد رفقاً والديه لإطعام الحيوانات.

التعليمية 1: أكمل بـ: الأسنان، الأنياب، الخرطوم، المنقار.



- تتناول البقرة طعامها باستعمال.....


- يلتقط الديك الحَبَّ بـ.....

- يمزق الكلب اللحم بـ.....

توجه الأب رفقاً لابنه للإلتحاق بالعمال في الحقل:

التعليمية 1: أصلح الخطأ إن وجد:

- يرفع العامل كيس القمح في الشاحنة. فالكيس إذا في حالة سقوط.



- يملأ أحمد من البئر القريب ماء. سطل الماء في حالة سقوط.

- الماء أخذ شكل السطل لأنه جسم لين.

السند 5: ﴿ أَحْسَ أَحْمَدُ بِالتَّعَبِ فَأَرَادَ أَنْ يَرْتَاحَ تَحْتَ شَجَرَةٍ فَشَعَرَ بِارْتِخَاءٍ

وَقَالَ: " مَا أَنْقَى الْهَوَاءَ فِي هَذَا الْمَكَانِ! "

التعليمة 1: أَرْبُطُ بِالتَّحْلِيلِ الْمُنَاسِبِ.

لِأَنَّ الْهَوَاءَ فِيهِ نَقِيٌّ

أَفْتَحُ النَّوَافِذَ كُلَّ يَوْمٍ

لِأَنَّ الْمَاءَ وَسَطٌ غَيْرُ
طَبِيعِيٍّ لِتَنْفُسِ الْإِنْسَانِ

الْحَقْلُ وَسَطٌ سَلِيمٌ لِلتَّنَفُّسِ

لِأَجْدَدَ هَوَاءَ عُرْفَتِي

لَا نَسْتَطِيعُ الْبَقَاءَ تَحْتَ الْمَاءِ طَوِيلًا

التعليمة 2: أَصْلِحِ الْخَطَأَ إِنْ وُجِدَ:

• عِنْدَ الشَّهيقِ يَرْتَفِعُ الصَّدْرُ وَيَخْرُجُ الْهَوَاءُ مِنْ رِئْتِي الْإِنْسَانِ.

←

التعليمة 3: أَشْطَبُ الْخَطَأَ:

- يَتَنَفَّسُ الْإِنْسَانُ بِصُعُوبَةٍ:

• عِنْدَمَا يُصَابُ بِالرُّكَامِ.

• عِنْدَ مُمَارَسَةِ الرِّيَاضَةِ.

• فِي مِئْطَقَةِ كَثِيرَةِ الْمَصَانِعِ.

جدول إسناد الأعداد

معيَار التميِز	معايير الحد الأدنى							
	معد 3	معد 2	معد 1					
5-1	0	0						نعدام التملك (-)
	2-1	3	2.5	2	1.5	1	0.5	بون التملك الأدنى (+)
	4-3	6	5.5	5	4.5	-	3.5	لتملك الأدنى (++)
	6-5	9	9.5	8	7.5	+	6.5	لتملك الأقصى (+++)


السنة الثانية	امتحان ايقاظ علمي الاطلاح	المدرسة الابتدائية
الثلاثي الثالث		-----

المسألة

كَانَ الطَّفْسُ جَمِيلاً وَالهَوَاءُ عَلِيلاً فَأَقْتَرَحَ الْأَطْفَالُ أَنْ يَتَنَاوَلُوا فُطُورَ الصَّبَاحِ فِي الْمَزْرَعَةِ تَحْتَ شَجَرَةِ الثَّوْبِ. أَخْرَجَتِ الْأُمُّ الْقَهْوَةَ وَالْحَلِيبَ وَأَخْرَجَتْ قَاطِمَةَ خُبْزًا وَتَبَعَهَا أَحْمَدُ يَحْمِلُ الْبَيْضَ وَعَصِيرَ الْبُرْتُقَالِ ثُمَّ جَلَبَ الْأَبُ الْكُؤُوسَ وَالْمَلَاعِقَ وَالصُّحُونَ.

التعليمة 1: أصنّف في الجدول: عصير، خبز، قهوة، حليب، بخار

القهوة، ملاعق، صحن، بيض، هواء.



أجسام صلبة	أجسام غازية	أجسام سائلة
ملاعق صحن خبز بيض	بخار القهوة هواء	عصير قهوة حليب

التعليمة 2: أصحح الخطأ إن وجد:

• الملعقة من الخشب أشد صلابة من الصحن الحديدي.
← الملعقة من الخشب أقل صلابة من الصحن الحديدي

التعليمة 3: أكمل بالتعليل المناسب:

الحليب يأخذ شكل العلب التي تحتويه لأنه جسم لسا عِلُّ
البيض لا يأخذ شكل الإناء الذي يحويه لأنه جسم صلب
الهواء يأخذ شكل العجلة التي تحويه لأنه جسم غازي ود

انتهى الجميع من تناول فطور الصباح فتوجهت فاطمة وأُمها لترتيب
المطبخ والغرف.

التعليمة 1: أكمل الفراغات بما يناسب من المفردات التالية:

عضليّة - مغناطيسيّة - كهربائيّة


- وضعت الأم ما بقي من الطعام في الثلاجة: الثلاجة تعمل بقوة كهربائية

- جمعت البنت الكراسي في أحد أركان المطبخ: قوة عضلية

- فتحت فاطمة المدياع قبل تنظيف الغرف: المدياع يعمل بقوة كهربائية

ذهب أحمد رقيقة والديه لإطعام الحيوانات.

التعليمة 1: أكمل بـ: الأسنان، الأنياب، الخرطوم، المنقار.



- تتناول البقرة طعامها باستعمال الأسنان

- يلتقط الديك الحَبَّ بـ المنقار

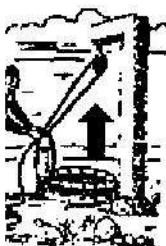
- يمزق الكلب اللحم بـ الأنياب

توجه الأب رقيقة ابنه للإلتحاق بالعمال في الحقل:

التعليمة 1: أصلح الخطأ إن وجد:

- يرفع العامل كيس القمح في الشاحنة. فالكيس إذا في حالة سقوط.

في حالة رفع



- يملأ أحمد من البئر القريب ماء. سطل الماء في حالة سقوط.

جميع

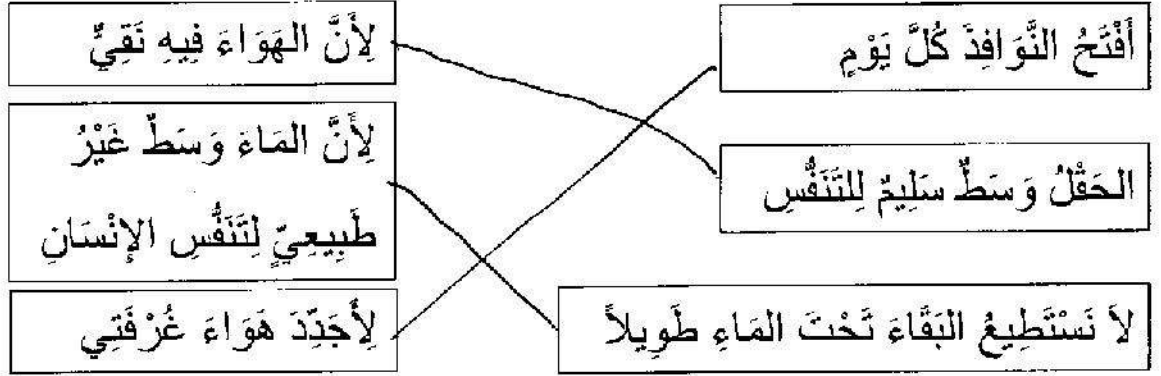
- الماء أخذ شكل السطل لأنه جسم لين.

لأنه جسم سائل

السؤال 5: ﴿ أَحْسَنَ أَحْمَدُ بِالتَّعَبِ فَإِذَا أَنْ يَرْتَأَخَ تَحْتَ شَجَرَةٍ فَشَعْرٌ بِارْتِخَاءِ

وَقَالَ: " مَا أَنْقَى الْهَوَاءَ فِي هَذَا الْمَكَانِ! "

التعليمة 1: أَرْبُطْ بِالتَّغْلِيلِ الْمُنَاسِبِ.



التعليمة 2: أَصْلِحِ الْخَطَأَ إِنْ وُجِدَ:

• عِنْدَ الشَّهيقِ يَرْتَفِعُ الصَّدْرُ وَيَخْرُجُ الْهَوَاءُ مِنْ رِئَتِي الْإِنْسَانِ.

← عِنْدَ الشَّهيقِ يَرْتَفِعُ الصَّدْرُ وَيَدْخُلُ الْهَوَاءُ إِلَى رِئَتِي.....

الإنسان

التعليمة 3: أَشْطَبُ الْخَطَأَ:

- يَتَنَفَّسُ الْإِنْسَانُ بِصُعُوبَةٍ:

• عِنْدَمَا يُصَابُ بِالزُّكَامِ.

• عِنْدَ مُطَارَعَةِ الرِّيَاضَةِ.

• فِي مَنطِقَةٍ كَثِيرَةِ المَصْنَعِ.

جدول إسناد الأعداد

معيَار التَّميِزِ	معايير الحد الأدنى							
	معد 3	معد 2	معد 1					
5-1	0	0					0	انعدام التملك (-)
	2-1	3	2.5	2	1.5	1	0.5	دون التملك الأدنى (+)
	4-3	6	5.5	5	4.5	-	3.5	التملك الأدنى (++)
	6-5	9	9.5	8	7.5	+	6.5	التملك الأقصى (+++)