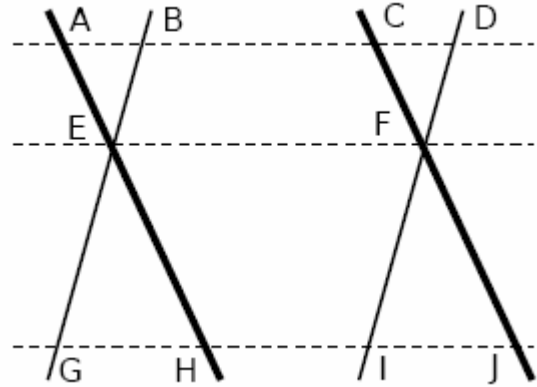


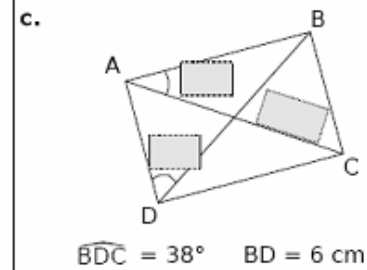
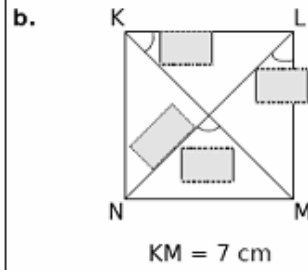
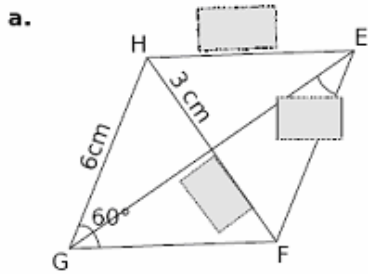
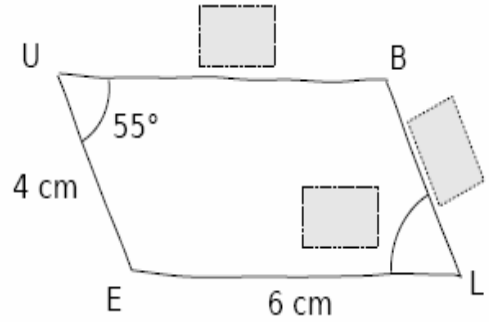
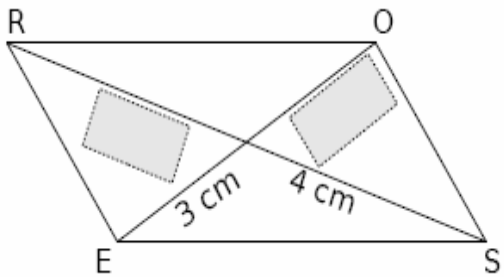
التمرين رقم 1

حدد كل متوازيات الأضلاع الموجودة بالرسم معللاً جوابك



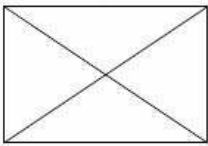
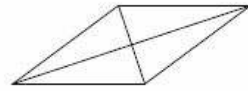
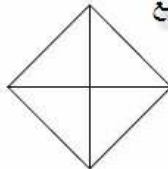
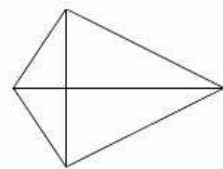
التمرين رقم 2

أكتب في الإطار العدد المناسب مع تعليل الجواب

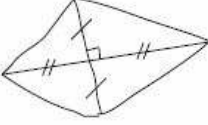
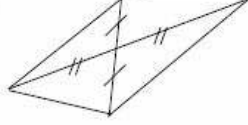

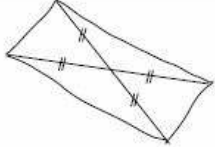
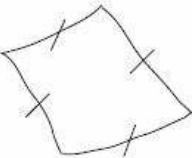
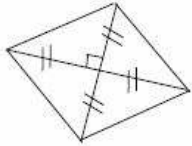
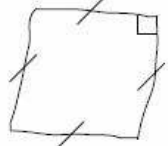
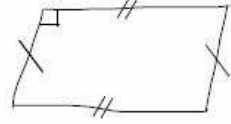


التمرين رقم 3

لون الزوايا القائمة و الأضلاع المتقايسة علما أن الراعي هو ....

a. مستطيل 	b. معين 	c. مربع 	d. 
--	--	--	---

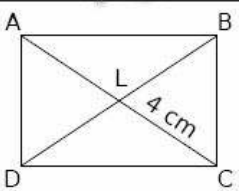
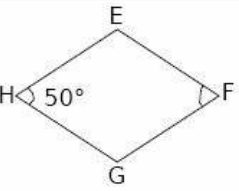
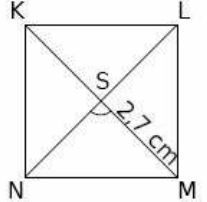
حدد في كل مرة نوع الراعي مستعينا بالإشارات الملحقة بالرسم

a. 	b. 	c. 	d. 
e. 	f. 	g. 	h. 

التمرين رقم 4

أكمل بما يناسب

3

	الرباعي	الأبعاد	القاعدة المستعملة
a.		AC = ..... BD = .....	..... ..... .....
b.		$\widehat{EFG} = \dots\dots\dots$	..... ..... .....
c.		$\widehat{NSM} = \dots\dots\dots$ NS = .....	..... ..... .....