


السند 1

يوم الأحد دخلت فاطمة إلى المطبخ لتساعد أمها في إعداد الغداء للضيوف و لذلك اختارت أكبر قدر.

1-1 / أحيط بخط معلق القدر الذي ستختاره فاطمة.



1-2 / ألون الأغذية التي يمكن أن تتناولها فاطمة عند الغداء.



1-3 / أكتب ما يناسب : الليل - النهار

- فاطمة تتناول الغداء في

1-4 / أحيط بخط معلق ما يدل على الزمن الذي اخترته في

المشهد.

1-5 / أضع علامة تحت المشهد الذي تقضي فيه أم فاطمة مدة




زمنية أطول في طبخ الطعام.





السند 2

بعد الغداء خرجت فاطمة إلى الحديقة لتطعم حيواناتها



1-2/ ألون أثقل حيوان :

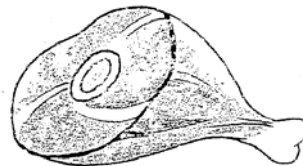
2-2/ أشطب الخطأ.

قدّمت فاطمة للأرنب سمكا / جزرا

2-3/ أعلل جوابي بكتابة الكلمة المناسبة : لآحم - عاشب

لأنّ الأرنب حيوان

2-4/ أضع علامة تحت الأغذية المناسبة لميمي ...



5-2/ أكمل بما يناسب : عاشب - لآحم

ميمي حيوان

و في المساء جلست فاطمة بجانب أخيها يتفرّجان على شريط هزلي
أتأمل المشهد



3-1: أكمل بما يناسب : اللّيل – النهار

فاطمة تتفرّج على الشريط في

3-2/ ألون ما يدلّ على ذلك في المشهد
3-3/ أشطب الخطأ

يستغرق التّوم في اللّيل مدة زمنيّة أطول
من مدة مشاهدة الشري من مدة زمنيّة أطول

جدول إسناد الأعداد

مع3	معايير الحد الأدنى				مستويات التملك
	مع2ج	مع2ب	مع1ب	مع1أ	
	0	0	0	0	انعدام التملك
3	1,5	1,5	1	1	التملك دون الأدنى
	3	3	2	2	التملك الأدنى
5	4,5	4,5	3	3	التملك