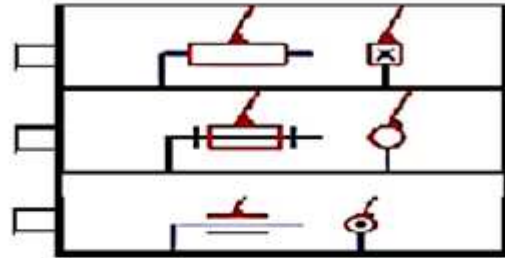


الإسم :		فرض تأليفي عدد 2		المعهد الخاص	
التلقب :				الفوز بدهاش	
: 19				الأستاذ : مهدي لغمي	
الرقم :		المستوى: التاسعة أساسي		السنة الدراسية: 2018-2019	
20		60 : 60 دقيقة			

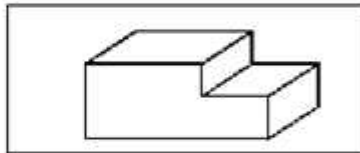
تمرين عدد 1: أربط بسهم

الرّبط الإندماجي	<input type="checkbox"/>
الرّبط الإرتكازي	<input type="checkbox"/>
الرّبط الإنزلاقي	<input type="checkbox"/>

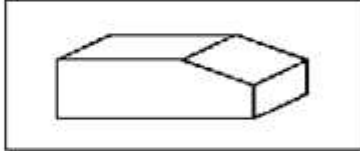


تمرين عدد 2:

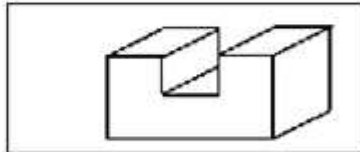
أربط بسهم العبارات والشكل المناسب؟



المجرى



الشطف

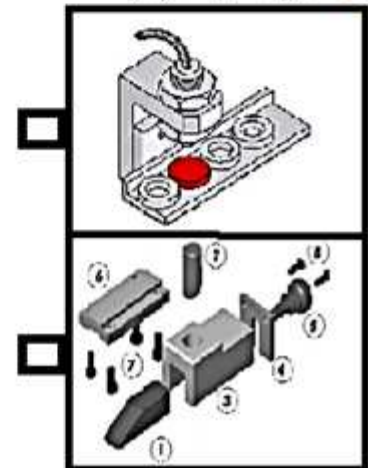


الحزّة

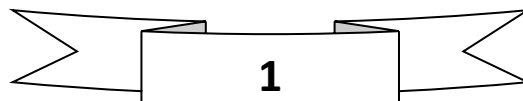
تمرين عدد 3:

1- أربط بسهم

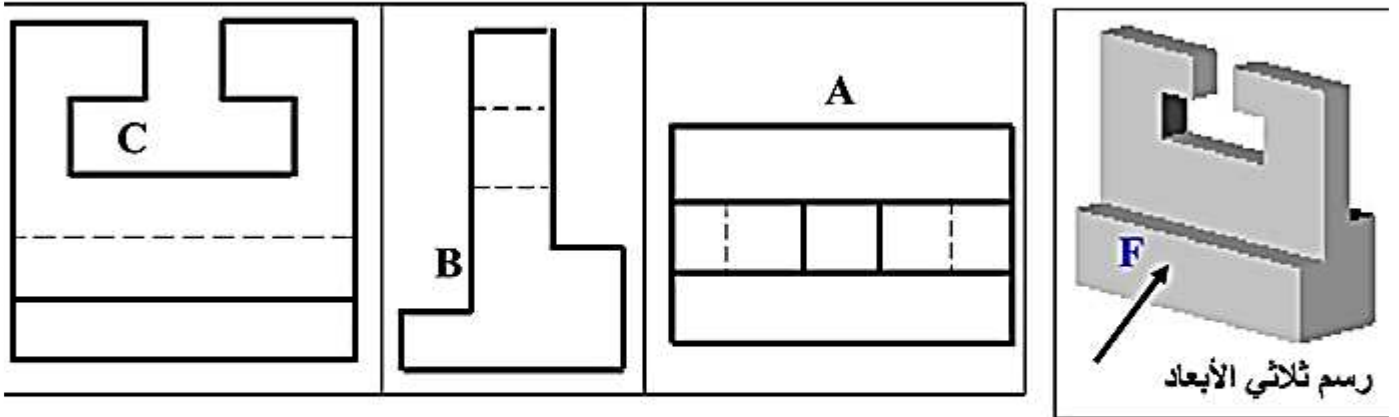
* رسم منظوري مفكك



* رسم منظوري مركب



2- أتأمل الرسم الثلاثي الأبعاد للقطعة الموائية ثم أتعرف إلى مساقطها و أرتبها في الجدول التالي ذكرا الرمز المناسب لكل مسقط مع اعتبار الوجه المشار إليه بسهم مسقطا رأسيا



المسقط اليميني	المسقط العلوي	المسقط الرأسي
.....

3- رسم ثلاثي الأبعاد والمسقط الرأسي كامل العمل المطلوب : بناء المسقط اليساري و إتمامه ثم إتمام المسقط السفلي

