

الأسم واللقب :
القسم : وأس..... الرقم :

إختبار كتابي عـ 02 دد
التربية التكنولوجية

إعدادية 52/1/23 بني خلاد
الأستاذ : الطاهر المقدم

120

الضاب : 1

التوقيت : 1/2 ساعة

2016/...../.....

الأسئلة :

السؤال الأول: (08 ن /)

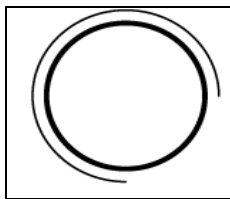
(1) أكمل الفراغ بما يناسب :



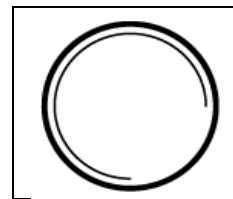
قطع تحتوي على

قطع تحتوي على

(2) أذكر نوع اللولب الموجود على كل قطعة حسب رسمها المقنن



لولب



لولب


(3) ماذا تعني هذه الصيغة :

M16_RH

السؤال الثاني: (12 ن /)

* القطعة من مادة الفولاذ

* السلم : 1:1



أتم رسم المسقطين: الرأسي والعلوي.
أُنجز القطاع A-A
أضع الترقيم المناسب للولب.

