

الأسم واللقب :
القسم : وأس..... الرقم :

إختبار كتابي ع 02-دد
التربة التكنهله حة

إعدادية 52/1/23 ببني خلد
الأستاذ : الطاهر المقدم

120

الضاب: 1


التوقيت : 1/2 ساعة

2016/...../.....

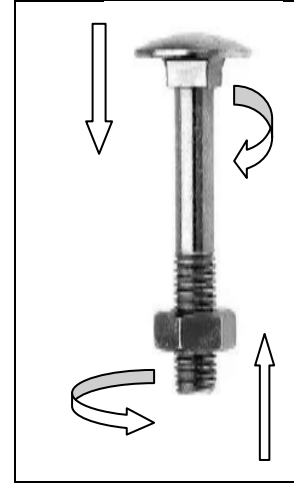
الأسئلة :

السؤال الأول: (08 ن /)

(1) أكمل الفراغ بما يناسب : يميني - يساري



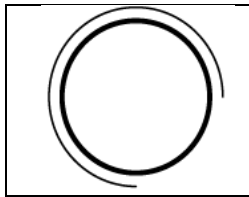
مسمار ربط يحتوي على



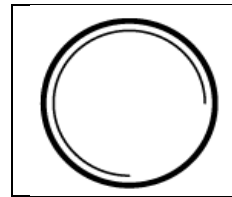
مسمار ربط يحتوي على

.....

(2) أذكر نوع اللولب الموجود على كل قطعة حسب رسمها المقنن



لولب



لولب

السؤال الثاني: (12 ن /)

أ - أكمل المسقط اليساري لجسم الموقد الغازي حسب القطاع A-A

ب - أرقم اللوالب

القطعة من مادة الفولاذ

السلم 1:1

