

اختبار كتابي عدد 2
الزبية التكنولوجية

2014 / 2013

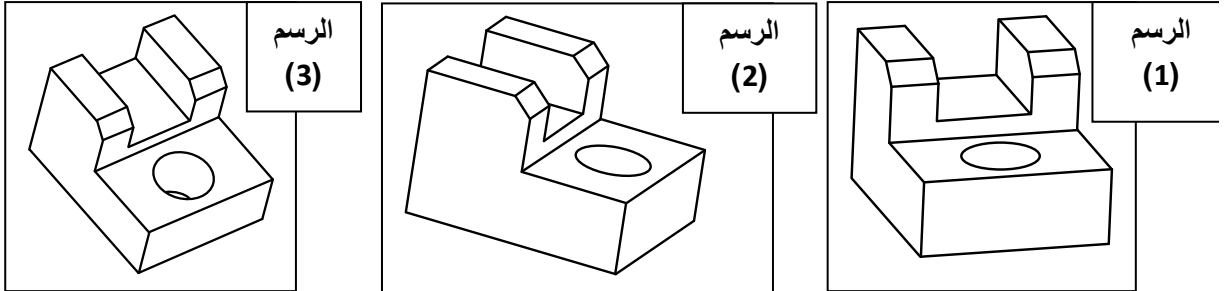
التوقيت: 30 دقيقة الضارب: 1

اسم و لقب التلميذ

قسم: 9 أساسي الرقم

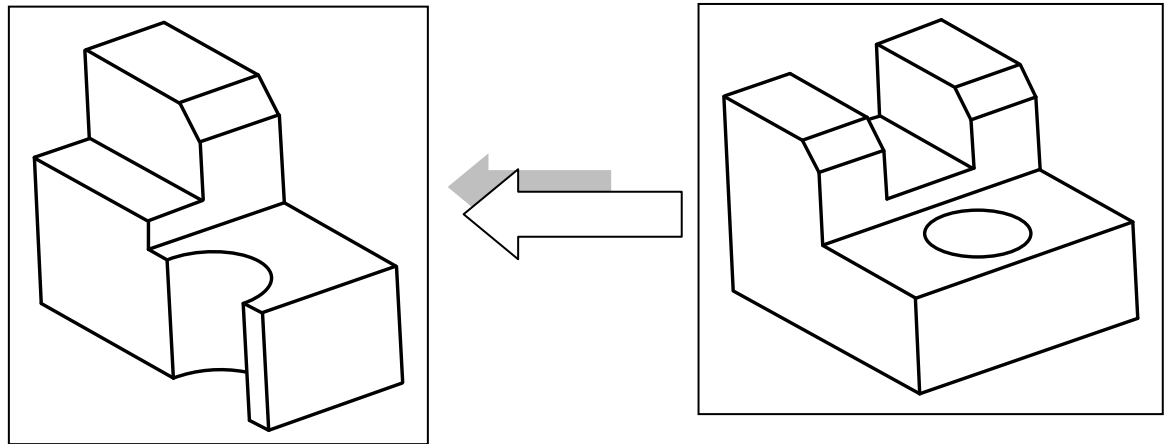
النشاط 1

1) لون الوجه الأمامي للقطعة في الرسم (1) و الوجه اليساري في الرسم (2) و الوجه العلوي في الرسم (3).



...../3

2) لون المساحة التي يمر عليها المنشار عند القطع.



...../1

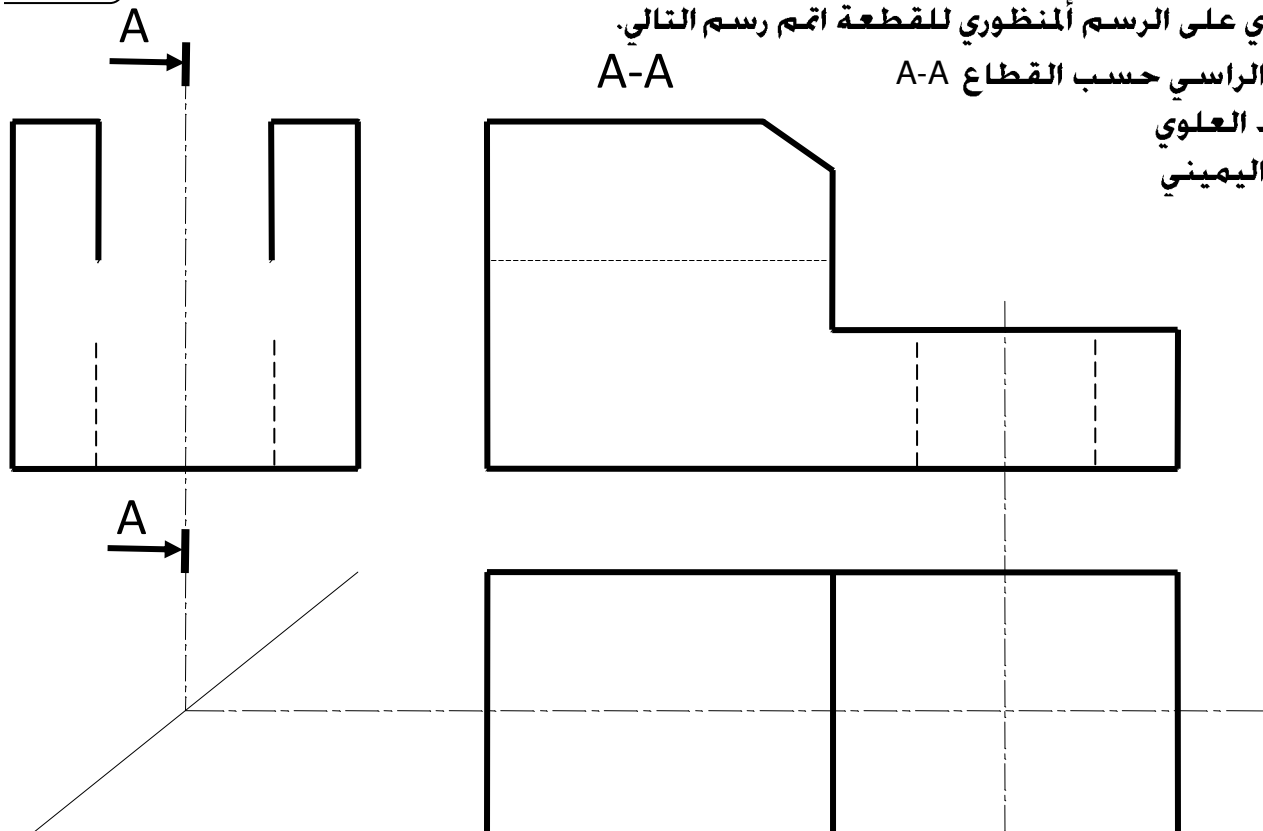
...../12

3) بالاعتماد على الرسم المنظوري للقطعة اتم رسم التالي.

(أ) المسقط الراسي حسب القطاع A-A

(ب) المسقط العلوي

(ج) المسقط اليميني



...../2

قطعة تحتوي على لولب



قطعة تحتوي على لولب



...../2

3) أكمل الفراغ بما يناسب: جهاز صنع اللولب الخارجي - جهاز صنع اللولب الداخلي.



.....



.....