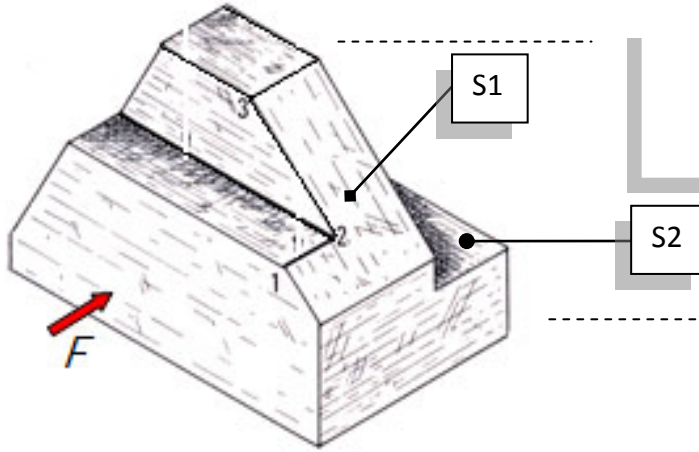


3- لاحظ الرسم المنظوري للقطعة المصنعة الموالية .

1-3- سمّ العمليات التقنية المنجزة S1 و S2.



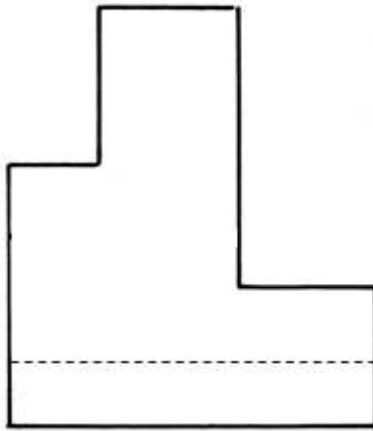
3- 2 - إستعن بإتجاه النظر **F** وسمّ المساقط المقدمة لتعريف القطعة.

3- 3 - أكمل الحواف الظاهرة والمخفية على كل المساقط .

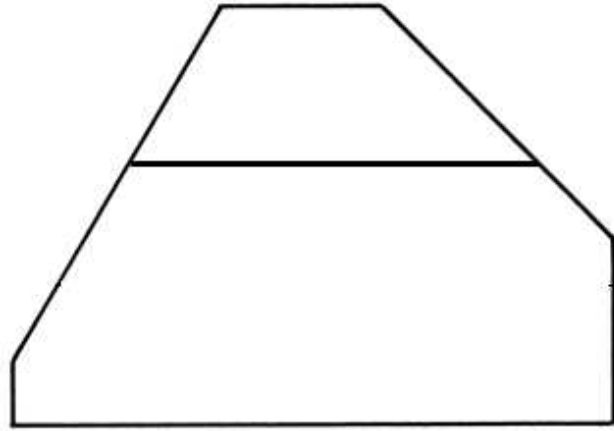
3- 4 - سجل النقاط (1)، (2) و (3) على كل المساقط .

3- 5- وضح بنفس اللون السطح S1 على المساقط التي يكون فيها ظاهرا .


مسقط .....



مسقط .....



مسقط .....



1.5

1.5

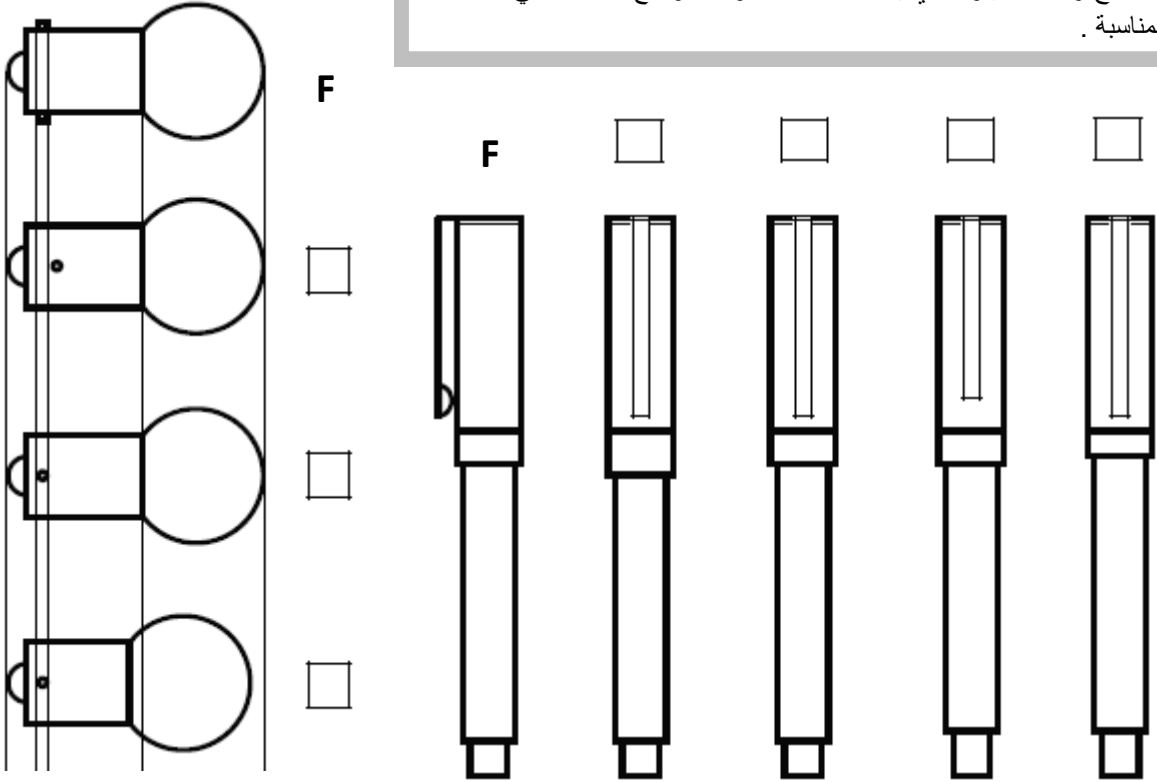
3

4.5

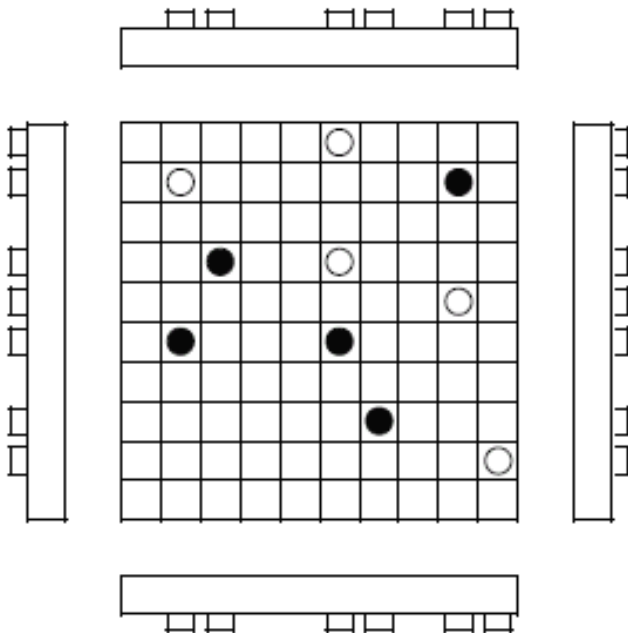
2



1- حدّد من بين الإقتراحات المقدمة المسقط اليساري للقلم و المسقط العلوي لمصباح رفاف السيارة الذي يقابل المسقط F وذلك بوضع علامة X في الخانة المناسبة .



3



2- إعتد مبدأ الإسقاط المتعامد المشار إليه في السؤال الأول لتحديد الأشكال السوداء التي تظهر على المسقط الرأسي على بقية المساقط الأخرى مستعملا لونا موحد لكل جسم .

4.5

