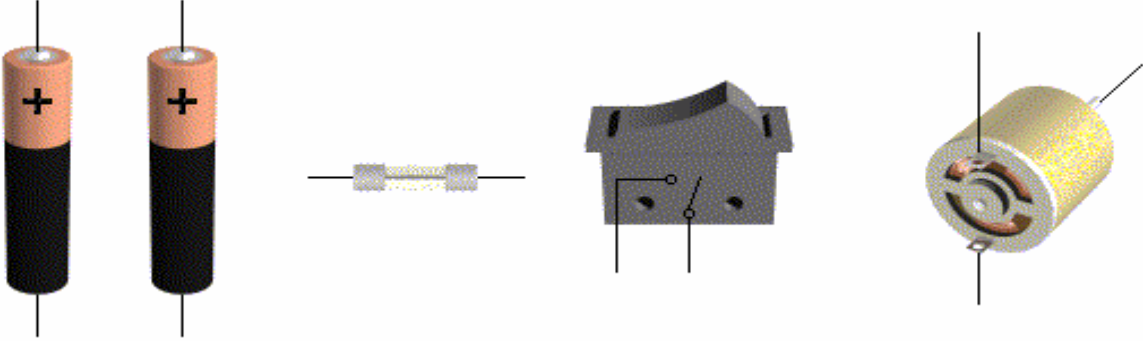
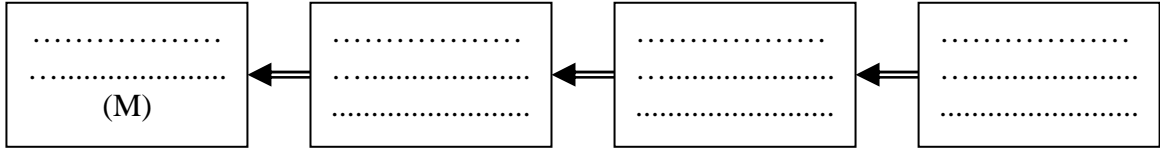


..... : اللقب		اسم سبي حديده في مادة التربة التكنولوجية		حليلة الشعبوني-عقارب
/20	..... : الرقم	الضارب: 1	التوقيت: 15 دق	التاريخ.....
	الفصل: 8 أساسي.....		الأستاذ: معز السماوي	

## 1- اربط مكونات الدارة: (2.5ن)




## 2- جزئ مكونات الدارة إلى كتل وظيفية: (4ن)



## 3- أكمل الجدول بما يناسب: (7.5ن)

المكونات	الكتلة التغذية	الوظيفة	الرسم المقنن
بطارية (3 V)	.....	.....	.....
.....	.....	.....	2 A .....
.....	.....	.....	.....
محرك (M)	.....	.....	.....

## 4- أكمل رسم الدارة الكهربائية باستعمال الرموز المقننة: (4ن)



## 5- ادرج « امبيرمتر » و « فولتمتر » لقيس جهد القابل: (2 ن)