






20	الإسم: .....	فرض مراقبة عـ2ـ دد في مادة التربية التكنولوجية	المعهد الخاص
	اللقب: .....		الفوز بدقاش
	القسم: 17	التوقيت: ساعة	الأستاذ: مهدي لغمي
	الرقم: .....	التاريخ: 2019/01/29	

**تمرين 1:** ضع علامة (x): يستعمل التيار الكهربائي لتشغيل الأجهزة الكهربائية للحصول على:

الصوت والمعلومات	الحركة	الإضاءة	الحرارة	الجهاز
				مدفئة 
				حاسوب 
				مصباح كهربائي 
				محرك كهربائي 

**تمرين 2:** أكمل الجدول التالي بالأسماء ورموز المتقبلات:

اسم العنصر	صورة العنصر	الرمز المقتن للعنصر	.....	.....	.....
					

### تمرين 3: أتمم كل دائرة كهربائية

بالرسوم المقتنة التالية.

أ - المتقبل: مصباح كهربائي



- مصدر تغذية (عمود جاف)
- قاطعة أو زر ضاغط

ب - المتقبل: محرك كهربائي





- مصدر تغذية (عمود جاف)
- قاطعة أو زر ضاغط

ب - المتقبل: صمام مشع كهربائي

- مصدر تغذية (عمود جاف)
- قاطعة أو زر ضاغط



### تمرين 4: أتمم الفراغات وأربط بسهم كل طاقة بالعنصر المناسب.

 <p>محرك كهربائي</p>	←	طاقة ضوئية
 <p>مكواة</p>	←	طاقة صوتية
 <p>مصباح كهربائي</p>	←	طاقة ميكانيكية
 <p>جرس كهربائي</p>	←	طاقة .....

طاقة .....