



الاسم:	إختبار كتابي عـ02ـد المادة: التربية التكنولوجية	المدرسة الإعدادية ابن شرف السنة الدراسية: 2012/2011
اللقب:		الأستاذ: خالد السقني
القسم: 7 أساسي الرقم:	التوقيت: 30 دق	الضارب: 1

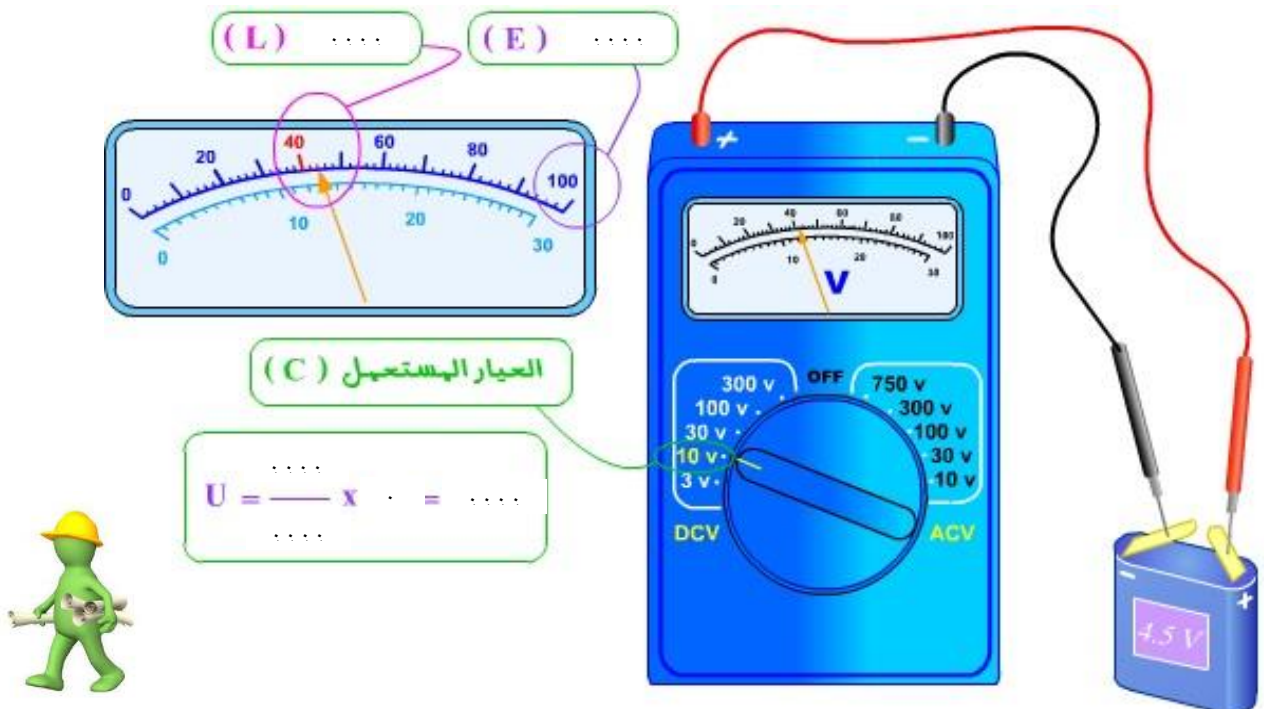
السؤال الأول: (10 درجة)

أ) أكمل تعميم الجدول التالي وأستعمل الأدوات الهندسية لرسم الرموز المقننة:

رمز المكون	إسم المكون	صورة المكون
	
	
	

السؤال الثاني: (10 درجات)

أكمل الناقص (القراءة - السلم - البطارية) وأحسب قيمة الجهد U :



(L) (E)

العيار المستعمل (C)

$U = \frac{\dots}{\dots} \times \dots = \dots$