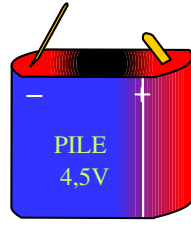

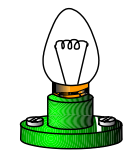
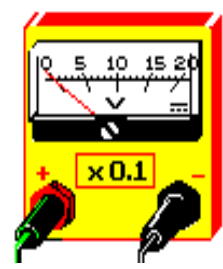
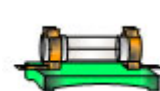


الإسم و اللقب:	إختبار كتابي 2 تربية تكنولوجية	إعدادية البساتين القصرين مخبر التكنولوجيا
القسم: الفوج: ع/ر		
/20	7 أساسي:	الضارب: 1
	مدة الإنجاز: 30 د	التاريخ: 2008 /..... /.....

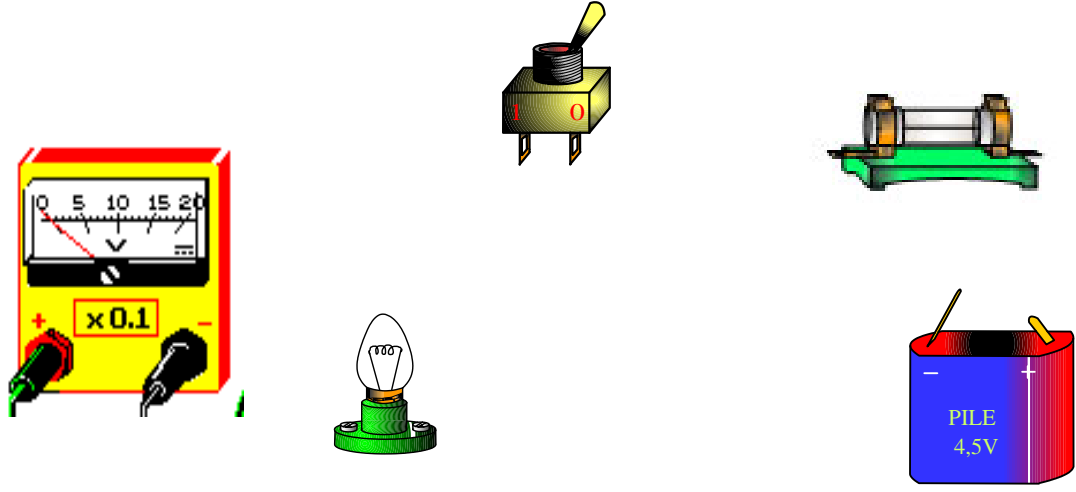
1- أكمل الجدول بما يناسب (تسمية المكونات الإلكترونية ' وظائفها ' وإنجاز الرموز المقننة) .

خاص
بالأستاذ


الرمز	الوظيفة	إسم المكون	صورة المكون
	
	
	
	
	

7

2- أربط المكونات بالأسلاك الناقلة للتيار الكهربائي .



3- أكمل الرسم المقنن التالي بما يناسب :



4- لاحظ المعطيات على جهاز القياس وحدد قيمة الجهد الكهربائي بين طرفي المصباح .

