

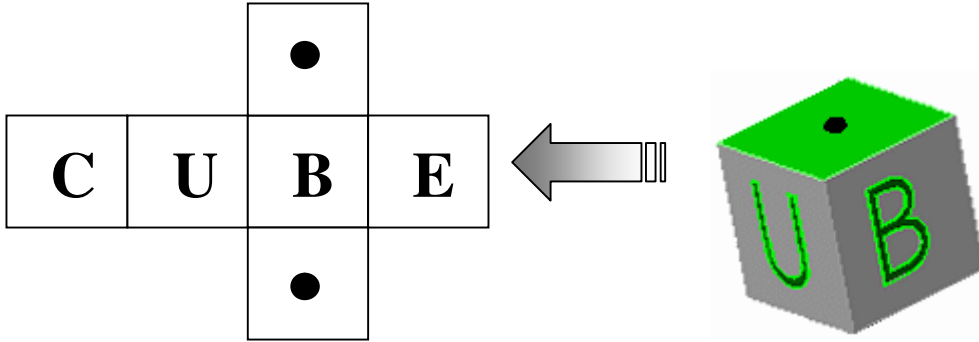


رسم أحد التلاميذ رسم ثلاثي الأبعاد (منظوري) لمكعب و كتب كلمة CUBE على الأوجه الجانبية ونقطة سوداء على الوجه العلوي والسفلي كما هو موضَّح في الرسم المنشور لهذا المكعب.

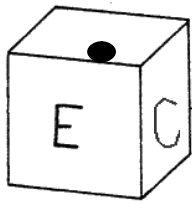


لنتصوّر أن محورا يمرّ عبر المكعب من خلال النقاط السوداء و كلّما أدركنا المكعب حوله يمكننا من قراءة بالترتيب الحروف C, U, B, E.

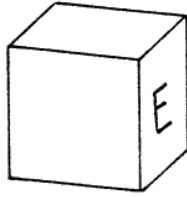
### العمل المطلوب:

الرسوم التالية تمثل رسم ثلاثي الأبعاد للمكعب في عدّة وضعيات :

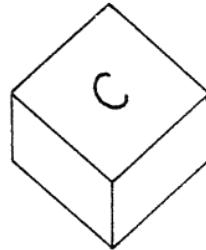
- أكمل وضع الحروف والنقاط السوداء على أوجه المكعب مع احترام ترتيب الحروف ( يجب أن نقرأ دائما كلمة CUBE ).



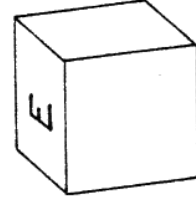
مثال



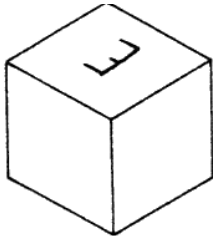
/0,5



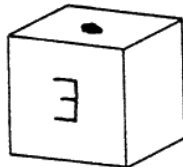
/0,5



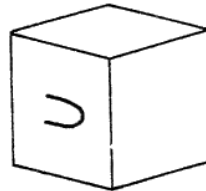
/0,5



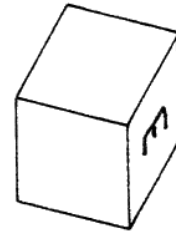
/0,5



/0,5



/0,5



/0,5