

إختبار في الإيقاظ العلمي الثالثي الثاني

السند 1: زار أحمد جدّه في المزرعة فاستيقظ باكرا ليقوم بجولة في أرجائها و قبل الخروج تناول خبزا و عصيرا و قهوة ساخنة.

التعليمة 1-1: أربط بسهم :

مادّة سائلة
مادّة غازيّة
مادّة صلبة

الخبز

البخار المتصاعد من القهوة

التعليمة 1-2: أكمل بما يناسب "تأخذ شكله" أو "لا تأخذ شكله".

◆ عندما نضع المادّة السائلة في إناء

◆ عندما نضع المادّة الصلبة في إناء

التعليمة 1-3: أصلح الخطأ :

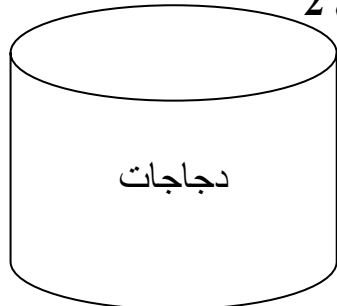
➤ المادّة الغازيّة تحافظ على شكلها و حجمها.

➤

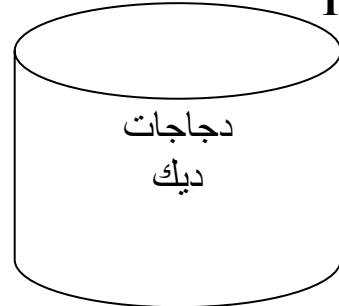
السند 2: أثناء جولته شاهد أحمد قنّين للدجاج : قنّ به دجاجات و ديك و قنّ به دجاجات فقط.

التعليمة 1-2: أضع (X) تحت القنّ الذي يمكن أن تتحوّل البيضات التي توجد به إلى فراخ

قن رقم 2



قن رقم 1



التعليمة 2-2: أعلل أجابتي .

البيضات التي توجد في القن رقم هي التي يمكن أن تتحول إلى فراخ لأنها

مع 2 ج

السند 3: بعد ذلك تحول أحمد الى المرنبية فوجد أرانب صغيرة و عدة حيوانات أخرى في الزريبة

التعليمة 3-1: أصنف هذه الحيوانات حسب الجدول .

أتان - أرنب - سلحفاة - دجاجة - ذبابة - بقرة .

مع 1 ج

حيوانات ولودة	حيوانات بيوضة
.....
.....
.....

السند 4: قال أحمد "الخفاش مثل بقية الطيور يتكاثر بالبيض"

التعليمة 1 - 4: أصلح الخطأ

الخفاش

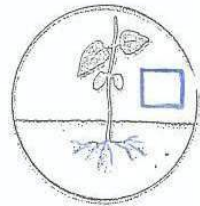
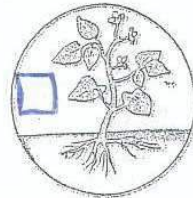
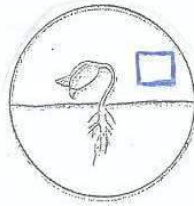
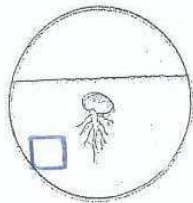
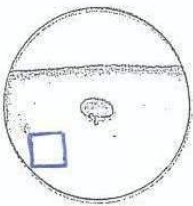
.....

مع 3

السند 5: فجأة شاهد أحمد جدّه وهو بصدد غراسة بعض البقول

التعليمة 5-1: أرّتب مراحل نمو النبتة

مع 1 ج



السند 6 : نظر أحمد إلى أعلى إحدى الأشجار فوجد عصفورة تحضن بيضها و لاحظ عصفورا يتردد على العش.

التعليمة 1-6 : ماهو دور الذكر في عملية التكاثر بالنسبة للطيور.

ع 2أ

السند 7: أحسّ أحمد بالجوع فرجع إلى المنزل و هناك وجد جدّته تعدّ بعض الطّعام. وضعت الجدّة الماء في القدر فوق النّار و بعد فترة من الغليان لاحظ أحمد أن الماء قد نقص

التعليمة 1-7: لماذا نقص الماء؟

ع 2ج

السند 8 : أحسّ أحمد بالعطش لكنّه وجد الماء فاترا فوضعه في المبرّد و نسيه بعد الفطور أراد أن يشرب فوجد الماء قد تحوّل من جسم سائل إلى جسم صلب.

التعليمة 1-8: لماذا تحوّل الماء من مادّة سائلة إلى مادّة صلبة .

ع 2ج

تحوّل الماء من مادّة سائلة إلى مادّة صلبة لأنّه
بمفعول

جدول إسناد الأعداد

معيّار التميّز	معايير الحد الأدنى				
	مع 2 ج	مع 2 ب	مع 1 ج	مع 1 ب	
مع 3	0	0	0	0	انعدام التملك
2,5	1.5	1.5	1	1	التملك دون الأدنى
	3	3	2	2	التملك الأدنى
5	4.5	4.5	3	3	التملك الأقصى