

تقييم الثلاثي الثاني في مادة الرياضيات

المادة: قراءة
الاسم و اللقب :

العدد المسند:
20/.....

رجة : الأولى // السنة : الثانية

معايير التميز	معايير الحد الأدنى								تويات التملك	
	مع	مع	مع4	مع3	مع2			مع1		
مع3									0	إجابة / إجابة خاطئة
0									0	ن التملك الأدنى
2			1	0.5	1	2	1	0.5	1	ملك الأدنى
3			2	1.5	2	4	3	2.5	2	ملك الأدنى
5			3	2.5	3	6	5	4.5	3	ملك الأقصى

التمارين

ايير

السند:

أشرف و محمد و فردوس تلاميذ يدرسون بالسنة الأولى بجد و اجتهاد و يطيعون أوامر و والديهم التقوا ذات يوم في دكان الحي .



تملك فردوس المبلغ التالي

(1) أجمع المبلغ الموجود عند فردوس:

3م

(2) وجد محمد في جيبه المبلغ التالي



3م

(3) أما أشرف فقد وجد بجيبه 350مي أمثل هذا المبلغ بالقطع النقدية

3م

(4) أقرن بين المبالغ الثلاثة :

2م

عادت فردوس إلى المنزل فوجدت جدها يستعد للذهاب في جولة في الحقل فأصرت على مرافقته فقامت بعد أشجار اللوز فوجدتهم 75 شجرة و أشجار الخوخ فوجدتهم 125 شجرة؛ أما أشجار الزيتون فوجدتهم 214 شجرة.

2م

(1) أساعدها على ايجاد عدد الأشجار الموجودة بالحقل؟

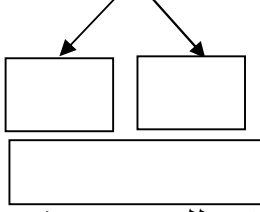
5م

(2) أرتبهم من الأكبر الى الأصغر

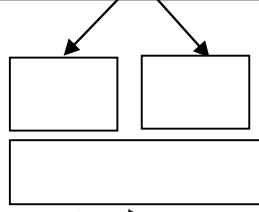
2-

(3) أفكك الأعداد إلى مجموعتين؟ ثم تحقق من صحتها

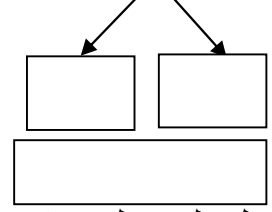
75



214



125



2-

2-

5-

قال الجد: لقد ماتت عديد الأشجار جراء الجفاف فقد كان عدد أشجار اللوز 188 شجرة و عدد أشجار الخوخ 225 شجرة و عدد أشجار الزيتون 296 شجرة.

(4) أجري عمليات لأعرف كم مات من كل نوع من الأشجار

2-

2-

2-

(5) أجمع الأشجار الميتة مع بعضها:

5-

(6) رسمت فردوس خطا مستقيم بين الشجرة و البقرة و خطا منحن بين الشجرة و المنزل آخر منكسر بين المنزل و البقرة



4-

4-

4-



ألون المثلث باللون الأحمر

4-

ألون المستطيل باللون الأزرق

4-

ألون المربع اللون الأصفر

4-

