

الاسم واللقب:	اختبار الرياضيات الثلاثي الثاني	المدرسة:..... القسم: السنة الأولى
---------------------------------	---------------------------------------	---

السند
الأطفال يرتبون البيت. صفّ رفيق مجموعة من الكتب في أعلى رف وأخرى في أسفل رف.

التعليم 1-ة :
أتّم بما يناسب

5

مع 1 أ

مع
1 ب

التعليم 2-ة :
أحسب العدد الجملي للكتب :

$$\cdot = \cdot + \cdot$$

مع 2 أ

مع
2 ب

التعليم 3-ة :

أرتب الأعداد من الأصغر الى الأكبر

.....

مع 2 ج

السند 2: سندس ترتب الكؤوس.

8

مع 1 أ

التعليم 1-ة: أتمم المجموعات بما يناسب:

التعليم 2-ة : أحسب العدد الجملي للكؤوس :

$$\cdot = \cdot + \cdot$$

مع
ب1

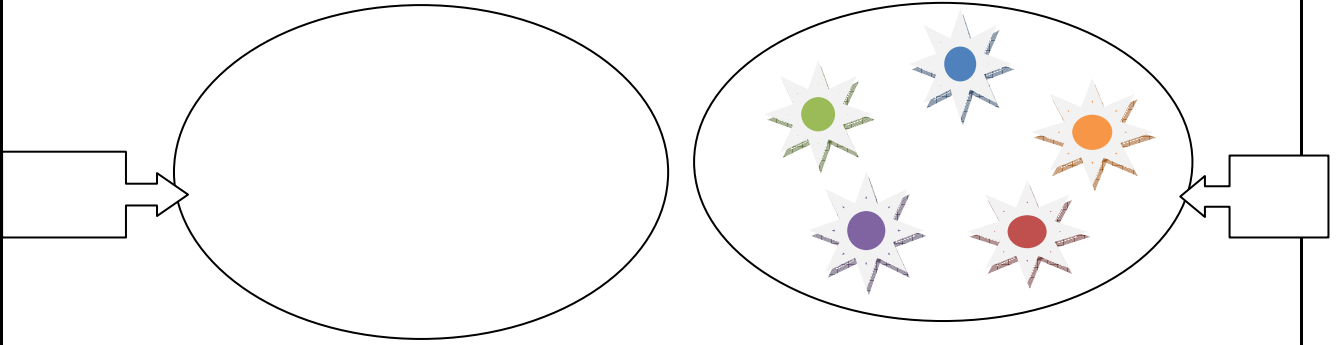
التعليم 3-ة: أرتب أعداد العملية تنازليا :

.....

مع 2
أ
مع
ب2

السند 3:
قطفت عفاف باقة أزهار ملونة من الحديقة:

مع ج2



التعليمية:

1- أحسب كم مجموعة الأزهار الملونة .

2- أرسم مجموعة أزهار حمراء أصغر من مجموعة الأزهار الملونة

3- أحسب العدد الجملي لأزهار :

$$\cdot = \cdot + \cdot$$

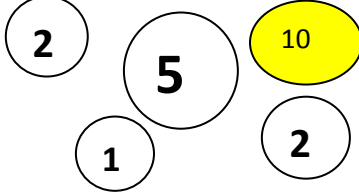
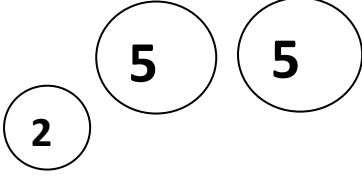
مع 1
مع ب1
مع 2
أ

4- أرتب أعداد العملية حسب اختياري :

.....

مع 2
مع ج2

السند خذمت الأم لكل واحد مبلغا مالياً :

عفاف	سندس	رفيق
		
13 مي	15 ميمي

التعليمة:

أحسب مبلغ رفيق
أحيط بخط معلق مبلغ سندس
أمثل مبلغ عفاف بأقل قطع نقدية

مع 3

السند: أراد كل طفل شراء بسكويتا ب 14 مي.

أضع علامة تحت اسم الطفل الذي سيشتري البسكويت

مع 5

عفاف

سندس

رفيق

لأن

مع 5

جدول اسناد الأعداد

المعايير	مع 1 أ	مع 1 ب	مع 2 أ	مع 2 ب	مع 2 ج	مع 3	مع 5
(-)	0	0	0	0	0	0	0
(+)	1	1	0,5	0,5	0,5	0,5	
(++)	2	2	1	1	1	1	2
(+++)	3	3	1,5	2	1,5	2	3