



تقييم مكتسبات التلاميذ بداية السنة الدراسية



الاسم و اللقب:

(1) أحسب.

$$\begin{array}{r} 526 \overline{) 4} \\ \hline \end{array}$$

$$\begin{array}{r} \times 567 \\ 75 \\ \hline \end{array}$$

$$\begin{array}{r} 90274 \\ - 35865 \\ \hline \end{array}$$

--	--	--

مع 2

(2) أعبّر عن كل قيس بالوحدة المطلوبة.

13 دكل و 2 ل =

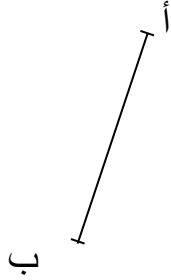
2 هل و 3 دكل =

3 هل و 5 ل =


--	--	--

مع 3

ب- أتم رسم المربع أ ب ج د



(3) أ- أتم رسم المستطيل أ ب ج د



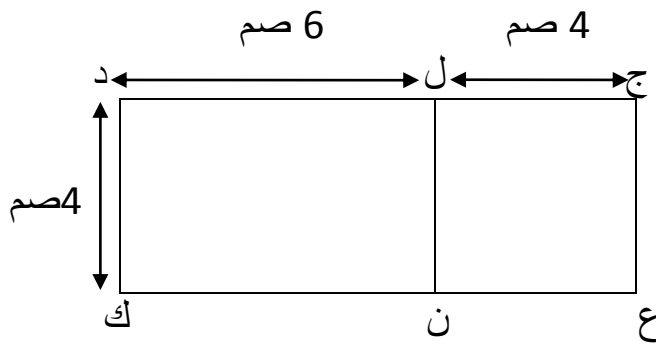
--	--

مع 4

--	--

مع 5

ج- أحسب قيس محيط الشكل ج د ع ك



.....

.....

--

مع 4

.....
.....
(4) عصر فلاح إنتاجه من الزيتون فتحصل على:

- 6 براميل من الزيت الرفيع يحوي الواحد 15 دكل.
- 43 دكل من الزيت المتوسط.

✓ أحسب كمية الزيت الذي تحصل عليه هذا الفلاح.

مع 1

مع 2

مع 5

(5) ليحسن فلاحته غرس هذا الفلاح 673 شجرة لوز، بعد مدة لاحظ أن 78

شجرة لم تنبت.

✓ أحسب عدد النباتات التي نبتت.

مع 1

مع 2

الحساب الذهني: الضرب على الأعداد الصحيحة الطبيعية / التصرف في وحدات قياس الأطوال: المتر - أجزاءه و مضاعفاته / التصرف في وحدات قياس السعة: اللتر و أجزاءه / التصرف في وحدات قياس الكتل: الكغ و الغ (16 فرصة للإجابة)

الملاحظات

جدول إسناد الأعداد

الحساب الذهني
4

مستويات التملك	معايير الحد الأدنى				
	مع 1	مع 2	مع 3	مع 4	مع 5
إنعدام التملك (---)	0	0	0	0	0
دون التملك الأدنى (+ - -)	1	0,5	1	1	1
التملك الأدنى (+ + -)	2	1,5	2	2	2
التملك الأقصى (+ + +)	3	2,5	3	3	3