

السنة الاولى	امتحان ايقاظ علمي	المدرسة الابتدائية
الثلاثي الثالث		-----


33

السنة 1

لَعِبْتُ هَدِيلُ مَعَ الْقُطَيْطِ بِالْكُرَةِ فِي فَنَاءِ الْمَنْزِلِ فَجَاءَتْ نَطَّتِ الْكُرَةُ فَلَحِقَهَا الْقُطَيْطُ.

التعليمية 1.1: أضع علامة (x) أمام الإجابة المناسبة.

- لَحِقَ الْقُطَيْطُ بِالْكُرَةِ
- قَفَزَا
 - عَدُوا
 - سَبَّاحَةً



التعليمية 2.1: أربط بسهم.

- يَعْدُو الْحِصَانُ بِاسْتِعْمَالِ
- تَسْبُحُ السَّمَكَةُ فِي الْمَاءِ بِاسْتِعْمَالِ
- يَطِيرُ الصَّفَرُ بِاسْتِعْمَالِ

السنة 2

أثناء ملاحقة القطيط للكرة اصطدم بالطاوله فأسقط البوقال الذي تعيش فيه




سميكة هديل فتكسر. قفزت البنت من مكانها فرعة.

التعليمية 1.2: أحيط التعليل المناسب من مكانها فرعة.

- ستعيش السمكة بدون ماء لأنها تتنفس هواء المحيط.
- ستموت السمكة لأنها صارت خارج الوسط الذي تعيش فيه.
- ستموت السمكة لأنها لا تتنفس في البر.

34)

التعليمة 2.2: أربط بالمفهوم المناسب.



يَتَنَفَّسُ فِي الْمَاءِ

يَتَنَفَّسُ فِي الْبَرِّ

التعليمة 3.2: ألوّن الخانة المناسبة.

يَقْفِزُ	يَطِيرُ	يَمْشِي	يَتَنَقَّلُ الْإِنْسَانُ بِأَنْمَاطٍ مُخْتَلِفَةٍ.

المشاهد

كُنَسَتْ الْأُمُّ أَرْضِيَّةَ الْغُرْفَةِ وَجَمَعَتْ قِطْعَ الزُّجَاجِ الْمُنْتَثِرَةِ بِالْمِلْمَةِ وَأَلْقَتْهَا فِي سَلَّةِ الْمُهْمَلَاتِ.

التعليمة 1.3: أتلّم المشاهد وأصلح الخطأ.

سَلَّطَتِ الْأُمُّ قُوَّةَ جَذْبٍ عَلَى الْمِكْنَسَةِ.




سَلَّطَتِ الْأُمُّ قُوَّةَ جَذْبٍ عَلَى الْمِكْنَسَةِ.





التعليمة 3.3: أَشْطَبُ السَّهْمِ الَّذِي لَا يُمَثِّلُ مَسَارَ قِطْعِ الرَّجَاجِ.



التعليمة 4.3: أَضَعُ الْعَلَامَةَ (X) أَمَامَ الْإِفَادَةِ الصَّحِيحَةِ.

- وَقَعْتُ قِطْعَ الرَّجَاجِ فِي الْأَرْضِ عِنْدَمَا تَرَكَتُهَا الْأُمُّ تَسْقُطُ.
- ارْتَفَعْتُ قِطْعَ الرَّجَاجِ إِلَى الْأَعْلَى عِنْدَمَا تَرَكَتُهَا الْأُمُّ تَسْقُطُ.
- سَلَطْتُ الْحَاوِيَةَ قُوَّةً جَذَبٍ عَلَى قِطْعِ الرَّجَاجِ فَاسْقَطْتُهَا.

جدول إسناد الأعداد

مُعْيَارُ التَّمَيُّزِ	مُعْيَارِ الْهَدِّ الْأَدْنَى						مُسْتَوِيَّاتُ التَّمَلُّكِ		
	مُعْيَارُ 2			مُعْيَارُ 1					
3	0			0			انعدام التملك (- - -)		
1	3	2	1	5	4	3	2	1	دون التملك الأدنى (+ - -)
2	4			6			التملك الأدنى (+ + -)		
1	6	5	9	8	7	التملك الأقصى (+ + +)			

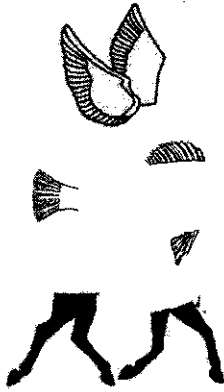
السنة الاولى	امتحان ايقاظ علمي	المدرسة الابتدائية
الثلاثي الثالث		-----

33

السؤال 1

لَعِبَتْ هَدِيلُ مَعَ الْفُطَيْطِ بِالْكُرَةِ فِي فَنَاءِ الْمَنْزِلِ فَجَاءَتْ نَطَّتْ الْكُرَةُ فَلَحِقَهَا الْفُطَيْطُ.
التعليمية 1.1: أضع علامة (x) أمام الإجابة المناسبة.

- لَحِقَ الْفُطَيْطُ بِالْكُرَةِ
- قَفَزَا
 - عَدَوْا
 - سَبَّاحَةً



التعليمية 2.1: أربط بسهم.

- يَعْدُو الْحِصَانُ بِاسْتِعْمَالِ
- تَسْبُحُ السَّمَكَةُ فِي الْمَاءِ بِاسْتِعْمَالِ
- يَطِيرُ الصَّفْرُ بِاسْتِعْمَالِ




السؤال 2

أثناء ملاحقة الفطيط للكرة اصطدم بالطاوله فأسقط البوقال الذي تعيش فيه سميكة هديل فتكسر. قفرت البنت من مكانها فرعة.
التعليمية 1.2: أحيط التعليل المناسب من مكانها فرعة.

- ستعيش السمكة بدون ماء لأنها تتنفس هواء المحيط.
- ستموت السمكة لأنها صارت خارج الوسط الذي تعيش فيه.
- ستموت السمكة لأنها لا تتنفس في البر.

34)

التعليمة 2.2: أربط بالمفهوم المناسب.



يَتَنَفَّسُ فِي الْمَاءِ

يَتَنَفَّسُ فِي الْبَرِّ

التعليمة 3.2: ألوّن الخانة المناسبة.


يَقْفُزُ	يَطِيرُ	يَمْشِي	
X		X	يَتَنَقَّلُ الْإِنْسَانُ بِأَنْمَاطٍ مُخْتَلِفَةٍ.

المشاهدة

كُنَسَتْ الْأُمُّ أَرْضِيَّةَ الْغُرْفَةِ وَجَمَعَتْ قِطْعَ الزُّجَاجِ الْمُنْتَثِرَةِ بِالْمِلْمَةِ وَأَلْقَتْهَا فِي سَلَّةِ الْمُهْمَلَاتِ.

التعليمة 1.3: أتأمل المشاهد وأصلح الخطأ.

سَلَّطَتِ الْأُمُّ قُوَّةَ جَذْبٍ عَلَى الْمِكْنَسَةِ.
سَلَّطَتِ الْأُمُّ قُوَّةَ دَفْعٍ عَلَى الْإِدِكِ




سَلَّطَتِ الْأُمُّ قُوَّةَ جَذْبٍ عَلَى الْمِكْنَسَةِ.
سَلَّطَتِ الْأُمُّ قُوَّةَ دَفْعٍ عَلَى الْإِدِكِ





التعليمة 3.3: أَشْطَبُ السَّهْمِ الَّذِي لَا يُمَثِّلُ مَسَارَ قِطْعِ الرَّجَاجِ.



التعليمة 4.3: أَضَعُ الْعَلَامَةَ (X) أَمَامَ الْإِفَادَةِ الصَّحِيحَةِ.

- وَقَعْتُ قِطْعَ الرَّجَاجِ فِي الْأَرْضِ عِنْدَمَا تَرَكَتُهَا الْأُمَّ تَسْقُطُ.
- اِرْتَفَعْتُ قِطْعَ الرَّجَاجِ إِلَى الْأَعْلَى عِنْدَمَا تَرَكَتُهَا الْأُمَّ تَسْقُطُ.
- سَلَّطْتُ الْحَاوِيَةَ قُوَّةَ جَذَبٍ عَلَى قِطْعِ الرَّجَاجِ فَاسْقَطْتُهَا.

جدول إسناد الأعداد

معيَار التعليل	معايير الحد الأدنى						مستويات التملك		
	مع 2			مع 1					
3	0			0			انعدام التملك (- - -)		
1	3	2	1	5	4	3	2	1	دون التملك الأدنى (+ - -)
2	4			6			التملك الأدنى (+ + -)		
1	6			5			التملك الأقصى (+ + +)		
5	6	5	9	8	7				