




السنة الاولى	امتحان ايقاظ علمي	المدرسة الابتدائية
الثلاثي الثالث		-----

(30)



حَلَّتِ الْعَطْلَةُ الصَّيْفِيَّةُ فَرَغِبَ أَحْمَدُ فِي قَضَاءِ أَيَّامٍ عِنْدَ عَمَّتِهِ وَالْمَرَحِ مَعَ ابْنِهَا مُرَادٍ.

لَعِبَ الطِّفْلَانِ بِالْحَاسُوبِ فَظَهَرَتِ الصُّورُ التَّالِيَةُ:



القَفْزُ	الطَّيْرَانُ	السَّبَّاحَةُ
----------	--------------	---------------

1- أَصِلْ كُلَّ حَيَوَانٍ بِنَمَطِ تَنَقُّلِهِ.

2- أَكْمِلْ بِكِتَابَةِ: الْجَنَاحَيْنِ - الزَّعَانِفِ - الْقَوَائِمِ.

- تَتَنَقَّلُ السَّمَكَةُ مُسْتَعْمِلَةً

- يَتَنَقَّلُ الْعَصْفُورُ مُسْتَعْمِلًا

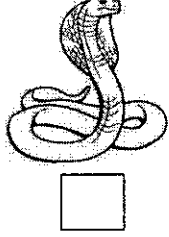
- يَتَنَقَّلُ الْكَنْعَرُ مُسْتَعْمِلًا

قَالَ مُرَادُ لِأَحْمَدَ: « هَلْ تَعْرِفُ حَيَوَانًا يَتَنَقَّلُ بِأَكْثَرِ مِنْ طَرِيقَةٍ؟ »



3- أَسَاعِدُ أَحْمَدَ وَأَضَعُ عَلَامَةً تَحْتَ صُورَةِ الْحَيَوَانِ الَّذِي يَتَنَقَّلُ بِأَكْثَرِ مِنْ طَرِيقَةٍ.

31



4- أَرْبُطُ بِالتَّغْلِيلِ الْمُنَاسِبِ:

- لِأَنَّهُ يَسْبَحُ وَيَقْفُزُ
- لِأَنَّهُ يَسْبَحُ وَيَرْحَفُ
- لِأَنَّهُ يَسْبَحُ وَيَطِيرُ
- وَفِي الْبَرِّ

المسألة 3: ضَعَطَ مُرَادٌ عَلَى الْفَأْرَةِ فَبَرَزَتْ عَلَى شَاشَةِ الْحَاسُوبِ مَعْلُومَاتٌ عَنِ الْحَيَوَانَاتِ.

5- أَضَعُ عَلَامَةً أَمَامَ الْمَعْلُومَةِ الصَّحِيحَةِ:



* تَنْتَفَسُ السَّمَكَةُ فِي الْمَاءِ.



* تَنْتَفَسُ الْبَطَّةُ فِي الْمَاءِ.

6- أَشْطَبُ الْخَطَأَ وَأُصْلِحُهُ فِي الْمَعْلُومَةِ التَّالِيَةِ:



يَنْتَفَسُ الدُّلْفِينُ فِي الْمَاءِ.

المسألة 4: أَنهى الطِّفْلَانِ اللَّعِبَ بِالْحَاسُوبِ ثُمَّ خَرَجَا إِلَى حَدِيقَةِ الْمَنْزِلِ.

7- أَكْمِلْ بِـ جَذَبَ دَفَعَ

سَلَطَ مُرَادٌ قُوَّةً عَلَى الْكُرَةِ.



المسألة 5: أَرَادَ أَحْمَدُ قَطْفَ خَوْخَةٍ مِنَ الشَّجَرَةِ لَكِنَّهَا عَالِيَةٌ.

8- أَشْطَبُ الْخَطَأَ وَأُصْلِحُهُ فِي الْجُمْلَةِ التَّالِيَةِ:

(38)

أَخَذَ أَحْمَدُ يَقْفِرُ لِيَدْفَعَ الْعَصْنَ.

← أَخَذَ أَحْمَدُ

9- أَصِلْ بِالتَّغْلِيلِ الْمُنَاسِبِ:

• لِيَقْرَبَهُ مِنْهُ

• يَجْذِبُ أَحْمَدُ الْعَصْنَ

• لِيُبْعِدَهُ عَنْهُ

نَجَحَ أَحْمَدُ فَسَقَطَتِ الْخَوْخَةُ عَلَى الْأَرْضِ.

السند

10- أَكْمِلْ بِالتَّغْلِيلِ الْمُنَاسِبِ: • لِأَنَّهَا ثَقِيلَةٌ

• لِأَنَّ الْأَرْضَ جَذَبَتْهَا

← سَقَطَتِ الْخَوْخَةُ

11- أَشْطَبُ الْخَطَأَ وَأَصْلِحُهُ فِيمَا يَلِي:

قُوَّةُ الْجَذْبِ تُبْعِدُ الْجِسْمَ عَنِّي.

جدول إسناد الأعداد

المعايير							مستويات التملك
مع 3	مع 2	مع 1					
1.5	0	0				انعدام التملك (-)	
1.5	2	5	4	3	2	1	دون التملك الأدنى (- - +)
2	4	6					التملك الأدنى (- + +)
5	6	9	8	7			التملك الأقصى (+ + +)


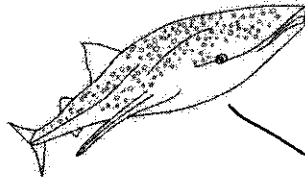

السنة الاولى	امتحان ايقاظ علمي	المدرسة الابتدائية
الثلاثي الثالث		-----

(30)



حَلَّتِ الْعُطْلَةُ الصَّيْفِيَّةُ فَرَعِبَ أَحْمَدُ فِي قَضَاءِ أَيَّامٍ عِنْدَ عَمَّتِهِ وَالْمَرَحِ مَعَ ابْنِهَا مُرَادٍ.

لَعِبَ الطِّفْلَانِ بِالْحَاسُوبِ فَظَهَرَتِ الصُّورُ التَّالِيَةُ:



القَفْرُ	الطَّيْرَانُ	السَّبَّاحَةُ
----------	--------------	---------------

1- أَصِلْ كُلَّ حَيَوَانٍ بِنَمَطٍ تَنْقُلُهُ.

2- أَكْمَلْ بِكِتَابَةِ: الْجَنَاحَيْنِ - الزَّعَانِفَ - الْقَوَائِمَ.

- تَنْقُلُ السَّمَكَةَ مُسْتَعْمِلَةً ... الرَّجُلَ عَادِيًا ...

- يَنْقُلُ الْعَصْفُورَ مُسْتَعْمِلًا ... الْجَبَانِ حَيًّا ...

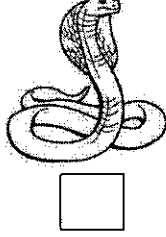
- يَنْقُلُ الْكَنْعَرَ مُسْتَعْمِلًا ... الْقَوَائِمَ ...



قال مُرَادٌ لِأَحْمَدَ: «هَلْ تَعْرِفُ حَيَوَانًا يَنْقُلُ بِأَكْثَرِ مِنْ طَرِيقَةٍ؟»

3- أَسَاعِدْ أَحْمَدَ وَأَضَعْ عَلَامَةً تَحْتَ صُورَةِ الْحَيَوَانِ الَّذِي يَنْقُلُ بِأَكْثَرِ مِنْ طَرِيقَةٍ.

31



4- أَرْبُطُ بِالتَّغْلِيلِ الْمُنَاسِبِ:

• لِأَنَّهُ يَسْبَحُ وَيَقْفِرُ

التَّمْسَاحُ يَتَنَقَّلُ فِي الْمَاءِ • لِأَنَّهُ يَسْبَحُ وَيَرْحَفُ

وَفِي الْبَرِّ • لِأَنَّهُ يَسْبَحُ وَيَطِيرُ

السؤال 3: ضَعَطْ مُرَادٌ عَلَى الْفَأْرَةِ فَبَرَزَتْ عَلَى شَاشَةِ الْحَاسُوبِ مَعْلُومَاتٌ

عَنِ الْحَيَوَانَاتِ.

5- أَضَعِ عِلَامَةً أَمَامَ الْمَعْلُومَةِ الصَّحِيحَةِ:



* تَتَنَفَّسُ السَّمَكَةُ فِي الْمَاءِ.



* تَتَنَفَّسُ الْبَطَّةُ فِي الْمَاءِ.


6- أَشْطَبُ الْخَطَأَ وَأَصْلِحْهُ فِي الْمَعْلُومَةِ التَّالِيَةِ:




يَتَنَفَّسُ الدُّلْفِينُ فِي الْمَاءِ.

السؤال 4: أَيُّهَا الْمُسْتَعْمِلُ... الدُّلْفِينُ... هُوَ إِذَا الْمَحِيطُ.....

السؤال 4: أَنْهَى الطِّفْلَانِ اللَّعِبَ بِالْحَاسُوبِ ثُمَّ خَرَجَا إِلَى حَدِيقَةِ الْمَنْزِلِ.



دَفَعَ



جَذَبَ

7- أَكْمَلْ بِ

سَلَطَ مُرَادٌ قُوَّةً..... دَفَعَ..... عَلَى الْكُرَةِ.



السؤال 5: أَرَادَ أَحْمَدُ قَطْفَ خَوْخَةٍ مِنَ الشَّجَرَةِ لَكِنَّهَا عَالِيَةٌ.

8- أَشْطَبُ الْخَطَأَ وَأَصْلِحْهُ فِي الْجُمْلَةِ التَّالِيَةِ:

(38)

أَخَذَ أَحْمَدُ يَقْفِرُ يَيْدِفَعُ الْعَصْنَ.

← أَخَذَ أَحْمَدُ... يَيْدِفَعُ... لِيَسْتَدِينُ بِبِ الْعَصْنَ
9- أَصِلْ بِالتَّغْلِيلِ الْمُنَاسِبِ:

• لِيُقَرِّبَهُ مِنْهُ

• يَجْذِبُ أَحْمَدُ الْعَصْنَ

• لِيُبْعِدَهُ عَنْهُ

نَجَحَ أَحْمَدُ فَسَقَطَتِ الْخَوْخَةُ عَلَى الْأَرْضِ.

10- أَكْمِلْ بِالتَّغْلِيلِ الْمُنَاسِبِ: • لِأَنَّهَا ثَقِيلَةٌ

• لِأَنَّ الْأَرْضَ جَذَبَتْهَا

← سَقَطَتِ الْخَوْخَةُ لِأَنَّ الْأَرْضَ جَذَبَتْهَا
11- أَشْطَبُ الْخَطَأَ وَأَصْلِحُهُ فِيمَا يَلِي:

قُوَّةُ الْجَذْبِ تُبْعِدُ الْجِسْمَ عَنِّي.

← قُوَّةُ الْجَذْبِ تَقْرِبُ الْجِسْمَ مِنِّي

جدول إسناد الأعداد

المعايير							مستويات التملك
مع 3	مع 2	مع 1					
1.5	0	0				انعدام التملك (-)	
1.5	2	5	4	3	2	1	دون التملك الأدنى (- - +)
2	4	6				التملك الأدنى (- + +)	
5	6	9	8	7	التملك الأقصى (+ + +)		