


السنة الدراسية 2018 / 2019		المدرسة الابتدائية مركز الباشا
المادة : جغرافيا		الاختبار التقييمي للثلاثية الثانية
العدد : 20 /	السنة : 664	الاسم واللقب :

موقع قراية  
www.9raya.tn  
موقع قراية • Facebook 9raya.tn

### السند :

في نطاق الرحلات الاستكشافية نظم معظم السنة الخامسة رحلة إلى الجنوب التونسي. انطلقت من صفاقس مروراً بقابس وصولاً إلى توزر.

التعليمة : أعتني على الخريطة أسماء المدن المذكورة بالسند:



Librairie 1818

مركز  
باص  
باص  
باص  
باص  
باص  
باص  
باص

1- أَسْقِي مَدِينَةَ تُونِسِةً تَمَازِيغَ :

كثيرة نزلها :

كثيرة المصانع والمعامل :

صناعة الزرنية :

التعليمة : أصف المعطيات التالية في الجدول :

زراعة بعلية / ضيقات شاسعة / زراعات كبرى (جنوب)

واحات / زراعة "سهوية" / مساحات صغيرة

موقع قراية  
www.9raya.tn  
موقع قراية • Facebook 9raya.tn

مع  
ش  
ش  
ش

ريف من الجنوب التونسي	ريف من الشمال التونسي

موقع قراية  
www.9raya.tn  
موقع قراية - Facebook 9raya.tn

مع  
ش  
ش  
ش

التعليمية: أعقر الفراغات بما يأتي حسب: شاسعة  
غراسة الزيتون / متطورة  
يشغل المشهد الريفي بالوسط التونسي في  
تنتجها تفتد على مساحات  
وتعتمد على آليات  
التعليمية: أذكر المنهجية المعتمدة بكل مشروع:

مع  
ش  
ش  
ش

الجسوب:  
الزيتون:  
الشمون:  
التعليمية: أكتب مواب / خطأ أمام كل إجابة:  
تعتمد الزراعة الواحية على مياه الأمطار  
الزراعة في أغلب الواحات تتألف من طواقي  
المشهد الواحي مشهد زراعات متنوعة  
التعليمية:

مع  
ش  
ش  
ش

تساهم الواحات في تنشيط السياحة والتجارة  
أحزن فقرة البتئين فيها ذلك.

مع  
ش

السند:

عند العودة من الرحلة توقفت لظافة عنى مركز مدينة صفاقس فشاهدتم سورها العظیم متلاً لياً بأنوار البضيرة .





التعليمة: أكتب صواب خطأ .

معجب  
ش  
ش  
ش

• يقطنان المدينة العتيقة بنشاطها الحرفي والتجاري .  
• تكثر في مركز المينى المؤسسات المصرفية والتوكؤ .  
• تكثر المباني الشاهقة عنى أطراف المدينة .

التعليمة: أذكر اسم كل تصميم من التصميمات التالية :

معجب  
1  
1  
1



تصميم

تصميم

تصميم

السند:

لاحظ التلاميذ الكظاظ الموجود داخل المدينة بينما تقبل الحركة فى أطرافها .

معجب  
4

أصف المشهد الحضري فى مركز المدينة والمشهد الحضري فى أطرافها وأبنتى خصائص كل واحد منهما .

69

40

25

موقع قراية  
www.9raya.tn  
Facebook 9raya tn - موقع قراية

معد 4	معد 3	معد 3أ	معد 3	معد 3أ	معد 3	معد 3	معد 3	معد 3	معد 3
0	0	0	0	0	0	0	0	0	0
2,5	1	0,5	1	0,5	1	0,5	0,5	1	0,5
2,5	2	1	2	1,5	2	1,5	1	2	1,5
5	3	1,5	3	2,5	3	2,5	1,5	3	2,5

Librairie

موقع قراية  
www.9raya.tn  
Facebook 9raya tn - موقع قراية