

<i>Ecole préparatoire Foussana</i> PROF: Mr Meslmeni Hatem	DEVOIR DE CONTROLE N° 1	<i>Epreuve :</i> Informatique <i>Durée :</i> 1h <i>Classe :</i> 7 ^{ème} année de base <i>Date:</i> 28/10/2009
--	--------------------------------	---

Nom & prénom: Classe : N°: Note :

Exercice n°1 (4 points)

Compléter les phrases suivantes par les mots correspondants de la liste ci-dessous :

automatique / son / traitement / programmes

- L'informatique est la science du.....des informations.
- L'ordinateur est une machine.....commandée par des
.....
- L'information traitée par l'ordinateur peut être sous la forme de texte, d'image, de..... et de vidéo.

Exercice n°2 (6 points)

Classer dans ce tableau ci-dessous, ces matériels selon leurs types :

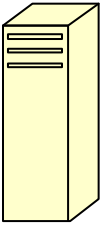
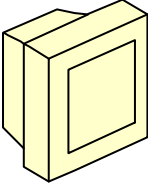
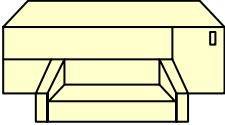
disquette / imprimante / souris / écran / CD / clavier

Périphériques d'entrée	Périphériques de sortie	Supports de stockage

Exercice n°3 (10 points)

Remplir le tableau par les dessins et les mots qui conviennent de la liste ci-dessous :

l'écran / sélection / le clavier / principal / imprime / affichage / l'imprimante / l'unité centrale

Dessin	Nom	Description du composant
	C'est le composant.....de l'ordinateur.
	Il permet l'.....des données.
	Il permet d'écrire du texte.
	Il.....des données sur du papier.
	La souris	C'est un périphérique de pointage, utilisé pour la.....et l'activation.

Bon travail 😊