



تقييم مكتسبات التلاميذ بداية السنة الدراسية



رياضيات

الاسم و اللقب:

1) أحسب.

$$\begin{array}{r|l} 526 & 4 \\ \hline & \end{array}$$

$$\begin{array}{r} \times 567 \\ 75 \\ \hline \end{array}$$

$$\begin{array}{r} 90274 \\ - 35865 \\ \hline \end{array}$$

--	--	--

مع 2

2) أعبّر عن كل قيس بالوحدة المطلوبة.

13 دكل و 2 ل =


2 هل و 3 دكل =

3 هل و 5 ل =


--	--	--

مع 3

ب- أتم رسم المربع أ ب ج د



3) أ- أتم رسم المستطيل أ ب ج د



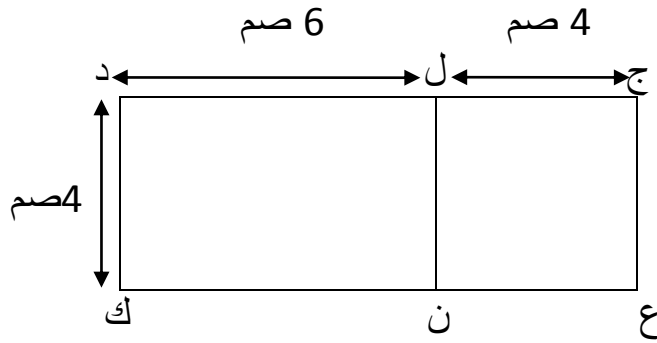
--	--

مع 4

--	--

مع 5

ج- أحسب قيس محيط الشكل ج د ع ك



.....

.....

--

مع 4

4) عصر فلاح إنتاجه من الزيتون فتحصل على:

- 6 براميل من الزيت الرفيع يحوي الواحد 15 دكل.
 - 43 دكل من الزيت المتوسط.
- ✓ أحسب كمية الزيت الذي تحصل عليه هذا الفلاح.

مع 1

مع 2

مع 5

5) ليحسن فلاحته غرس هذا الفلاح 673 شجرة لوز، بعد مدة لاحظ أن 78 شجرة لم تنبت.

✓ أحسب عدد النباتات التي نبتت.

مع 1

مع 2

الحساب الذهني: الضرب على الأعداد الصحيحة الطبيعية / التصرف في وحدات قياس الأطوال: المتر - أجزاءه و مضاعفاته / التصرف في وحدات قياس السعة: اللتر و أجزاءه / التصرف في وحدات قياس الكتل: الكغ و الغ (16 فرصة للإجابة)

الملاحظات

جدول إسناد الأعداد

الحساب الذهني	معايير التميز مع 5	معايير الحد الأدنى				مستويات التملك
		مع 4	مع 3	مع 2	مع 1	
		0	0	0	0	إنعدام التملك (- - -)
		1	1	1	0,5	دون التملك الأدنى (+ - -)
		2	2	2	1,5	التملك الأدنى (+ + -)
4	4	3	3	3	2,5	التملك الأقصى (+ + +)

المدرسة الابتدائية الدهيسة - جلمة

المعلم الأول خالد عكرمي