

Note :

Théorie





Nom : .....





Prénom : .....

Numéro : .....

### Exercice N°1 :

Compléter le paragraphe ci-dessous avec les mots adéquats ( 2.25) :

Un tableur permet de .....  , de mettre en forme et d' .....  
 des tableaux de calculs. Il réalise automatiquement des calculs à partir de  
..... commençant toujours par le signe « = » ou de .....  ,  
construit des ..... 

Comme son nom l'indique, il utilise des .....  constitués de  
.....  et de .....  dont l'intersection forme une  
.....  , chaque cellule est caractérisé par une ..... ,  
exemple « D6 ».

### Exercice N°2 :

A. Quel est le rôle de la fonction « moyenne » (...../1pt)

.....

Ecrire vrai ou faux devant chaque phrase et corriger la phrase fautive (1.5):

Phrase proposée	Vrai / faux	Phrase corrigée
Le classeur est le document principal du tableur		
Dans la fenêtre Format de cellule, l'onglet « Motifs » permet d'encadrer les cellules du tableau		
Le choix du graphique dépend entièrement des données à représenter		

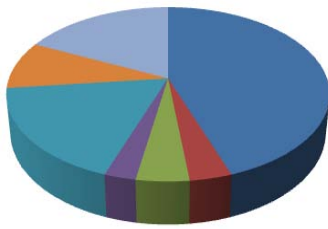
**Exercice N°3 :**

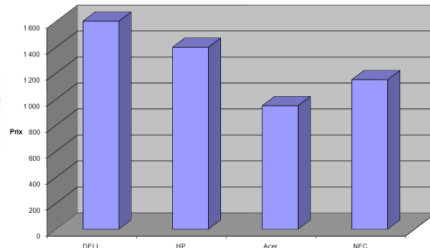
**A partir de la courbe ci-dessous répondre aux questions dans la case correspondante(1.75)**

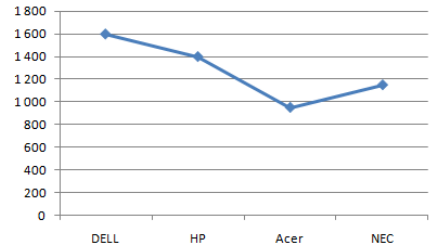
<p style="text-align: center;"><b>Températures moyennes</b></p> <p>Maxi males Mini males</p> <p>Janv Mars Mai Juil Sept Nov Févr Avril Juin Aout Oct Déc</p>	<p>3-Quelle est la température moyenne maximale ? .....</p> <p>4-En quel mois est-elle atteinte ? .....</p> <p>5-Quelle est la température moyenne minimale ? .....</p> <p>6-En quel mois est-elle atteinte ? .....</p> <p>7- Au mois de Mars, trouvez la différence entre la température max et la température min : ..... ..... ..... .....</p>
<p>1-En quelle forme est ce graphique ? .....</p> <p>2- que décrivent les données sur ce graphique ? .....</p>	

**Exercice N°4**

Attribuer à chaque graphique son nom (catégorie) : (1.5)









## Pratique

1-Saisir le tableau suivant :(...../ 2pts).

<b>Désignation</b>	<b>Prix Unitaire</b>	<b>Quantité</b>	<b>Montant total</b>
Fer à repasser	54,000	7	
Service à table	175,000	3	
Réfrigérateur	512,000	6	

2-Insérer la ligne suivante avant la ligne Télévision avant la ligne réfrigérateur(...../ 1pt)

Télévision	630,000	5	
------------	---------	---	--

3-Remplir la colonne « Montant total » sachant que :(...../ 0.5pt).

$$\text{Montant total} = \text{Quantité} * \text{Prix Unitaire}$$

4-Saisir les libellés « Montant Max » et « Montant Min » dans les cellules E1 et F1 (...../ 0,5pt).

5- Calculer le maximum de Montant (...../ 1pt).

6-Calculer le minimum de Montant (...../ 1pt).

7- Saisir le libellé « Prix à payer » dans les cellules G1 (...../ 0,5pt).

8-Calculer le prix total à payer (de tous les produits) (...../ 1pt).

9-Appliquer la mise en forme suivante :

- ✓ Les noms de colonnes : gras centrés, police Arial, taille 14, couleur rouge. (...../ 1pt).
- ✓ Le reste des données : normal, police Bodoni MT, taille 12, couleur bleu(...../ 1pt).

10-Encadrer votre tableau, Appliquer une couleur marron (...../ 0,5pt).

11-Appliquer une couleur « rose clair » au fond et un motif « gris 6,25% » à l'ensemble des cellules B1, C1, D1, E1 et F1 (...../ 1pt).

12-Crée un graphique sous forme de courbe représentant le prix total de chaque produit(...../ 1.5pts).

13-Enregistrer votre travail sous le nom « moyenne » dans votre dossier de travail (D:\9B1 ?) (...../ 0,5pt).