


المدرسة الإعدادية فطومة بورقيبة	فرض تألوفي عدد 2 في التربية التكنولوجية		8 أساسي.....
الأستاذ : حسان السايحي			الاسم:.....
التاريخ:	التوقيت: 60دق	الضارب: 1	اللقب:.....



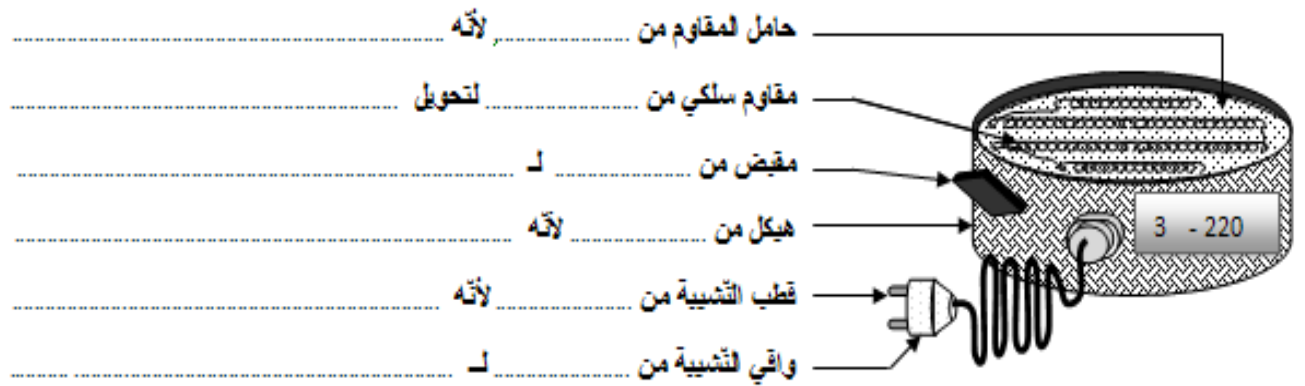
ملاحظة: نظافة ورقة الامتحان (1 نقطة)

### سؤال ع 1 دد : 3 ن

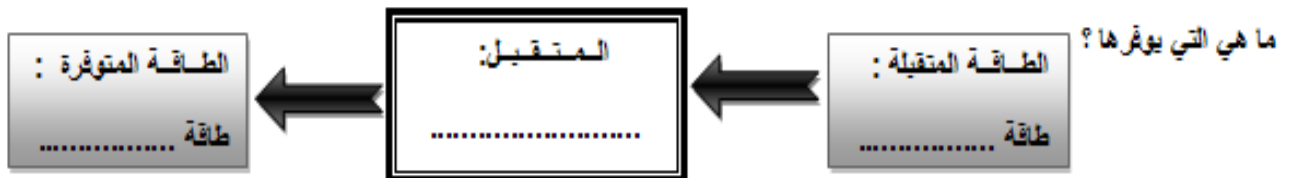
أكمل الفقرة التالية : " تتكوّن الدّارة الكهربائيّة من مصدر تغذية لـ ..... بالطاقة الكهربائيّة، جهاز ..... لحملية الدّارة من ..... التّيّز الكهربائي، جهاز تحكّم لـ ..... في الدّارة ، ..... لنقل لتّيّز الكهربائي من ..... إلى ..... وممتقل لتحويل الطاقة ..... إلى طاقة صوتيّة، طاقة ..... ، طاقة ..... ، طاقة ..... " .

### سؤال ع 2 دد : 6 ن

1 - من بين الموادّ التّالية ( رخام ، بلاستيك ، نحاس ، نيكال ، فولاذ مطلي، باكليت ، بلور ، خشب ) ، اذكر المادّة المستعملة لصنع كلّ مكوّن من مكوّنات السخّان الكهربائي ، علّل جوابك بتحديد بعض الخاصّيات مثل ( ناقل للكهرباء ، عازل للحرارة ..... )



2 - لسخّان الكهربائي هو جهاز تقني يحتوي على متقليل كهربائي. ما هو نوع المتقليل ؟ ما هي الطاقة التي يتقليلها ؟



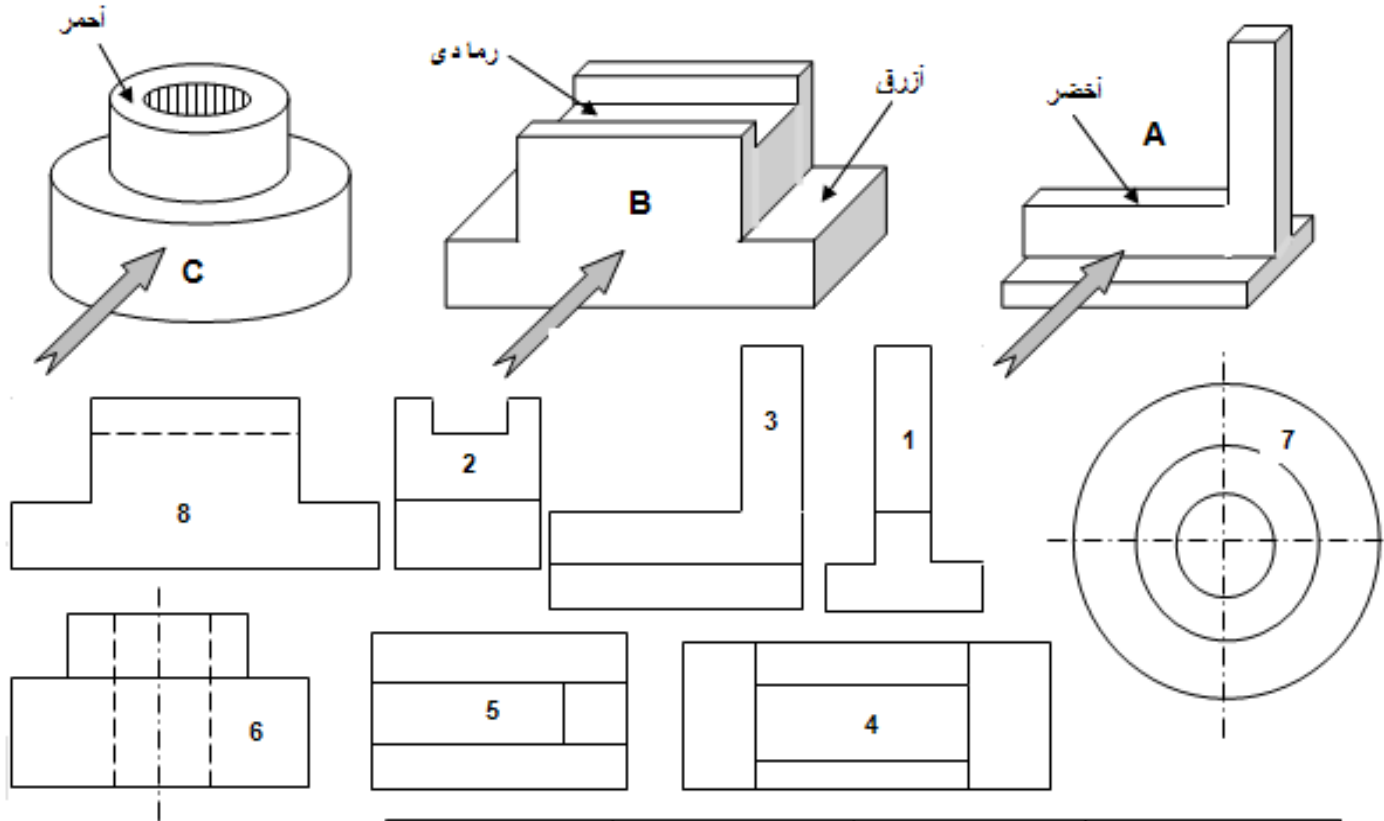
3 - أقرأ الخاصّيات الكهربائيّة للسخّان : 220 V : ..... : 3 A : .....

سؤال عـ 3 دد 10:

1- حدد المسقط الرأسى، اليسارى و العلوي للقطع

فى الجدول التالى

2 - لون بالألوان المحددة الأضلاع والمساحات على المساقط المناسبة



الرسم المنظوري	الرسم A	الرسم B	الرسم C
المسقط الرأسى	-----	-----	-----
المسقط العلوي	-----	-----	-----
المسقط اليسارى	-----	-----	-----