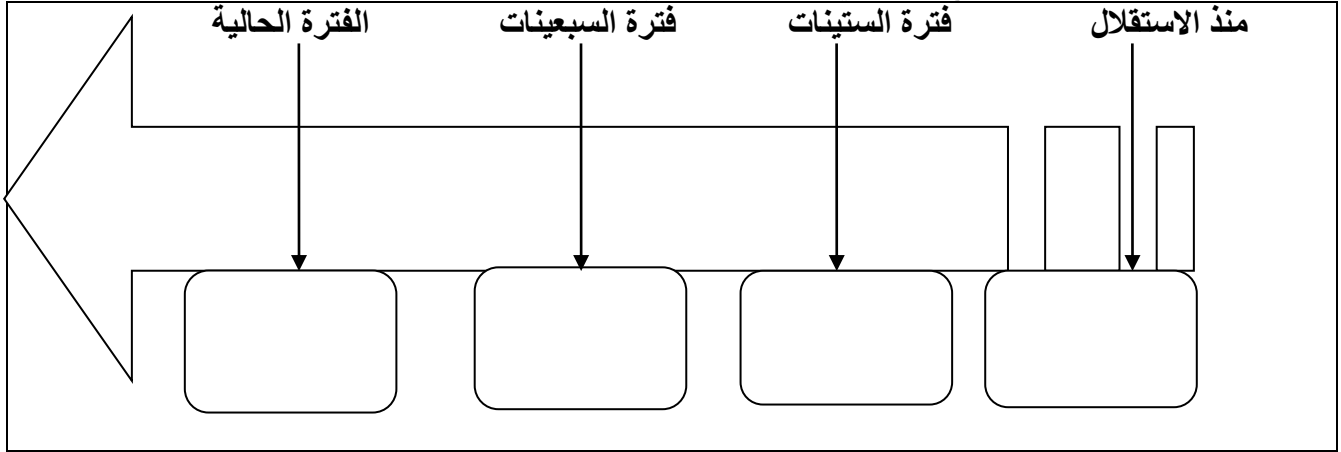



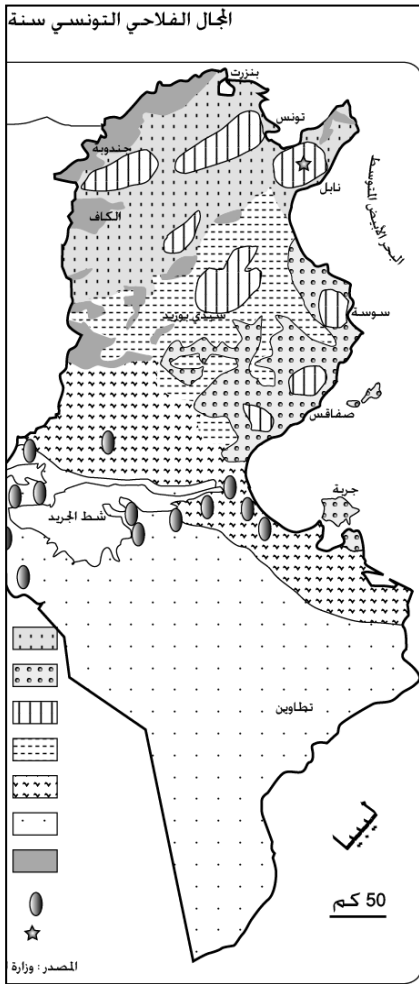
الاسم واللقب: القسم: 9 أساسي الرقم:

القسم الأول (6 نقاط)

1 - أتمم سلم المراحل الكبرى للإصلاح الزراعي بالتعريف بها. (02)



2- أتعرف على مواقع إنتاج المواد التالية: (04)



القسم الثاني (12 نقاط)

الموضوع:

- تمثل الفلاحة ركيزة الاقتصاد التونسي، لذا حظيت منذ الاستقلال بعدة محاولات تعصير كان لها نتائج ايجابية. أحرر فقرة إنشائية متماسكة العناصر مستعينا بالأسئلة التالية
- * أشير إلى مكانة الفلاحة في الاقتصاد التونسي. (02)
 - * أستعرض مختلف مراحل الإصلاح الزراعي في تونس. (04)
 - * أبرز محاولات تعصيره. (04)
 - * المح إلى مميزات الوضع الغذائي بتونس. (02)

التحرير

الاسم واللقب: القسم: 9 أساسي الرقم:

القسم الأول (6 نقاط)

(1) أتم الجدول التالي حول انتشار الإنتاج الفلاحي التونسي (03).

المنطقة	الإنتاج الفلاحي
الشمال
الوسط
الجنوب

(2) - أعرّف المصطلحات التالية. (03)

.....	قانون التأمين
.....	التجربة التعاضدية

القسم الثاني (12 نقاط)**" فقرة تأليفية "**

تمثل الفلاحة ركيزة الاقتصاد التونسي، لذا حظيت منذ الاستقلال بعدة محاولات تعصير كان لها نتائج ايجابية.

أحرر فقرة إنشائية متماسكة العناصر مستعينا بالأسئلة التالية

* أشير إلى مكانة الفلاحة في الاقتصاد التونسي. (02)

* أستعرض العوامل المفسرة لهذا التطور. (04)

* أبرز نتائج ذلك على مستوى الإنتاج. (04)

* المح إلى أبرز مشاكل الفلاحة التونسية. (02)

التحرير

الاسم واللقب: القسم: 9 أساسي الرقم:

القسم الأول (6 نقاط)

1- أتمم الرسم بربط الإصلاح بفتوته. (04)

مراحل الإصلاح
© الخمسينات
© الستينات
© السبعينات
© الثمانينات

- -الدولة تسوغ أراضيها للخواص ولشركات احياء فلاحي
- تصفية القطاع التعاضدي
- تأميم أراضي الأجانب
- اصلاح الهياكل العقارية
- ضم الأحباس وتمليك المستغلين للأراضي
- تطبيق سياسة التعاضد
- تحرير الفلاحة وتشجيع التخصيص
- تشجيع الشبان المستثمرين على الاستغلال الفلاحي

2- اعرّف المصطلحات التالية. (02)

.....	نسبة التغطية
.....	الأمن الغذائي

الموضوع:

تتباين النطاقات المناخية على مستوى الخصائص والغطاء النباتي ومن بينها النطاق المعتدل. أحرر فقرة انشائية متماسكة متبعا للتمشي التالي:

- في المقدمة: أذكر موقع النطاق المعتدل وأصناف مناخاته (02)
- في الجوهر: أبين خصائص النطاق المعتدل وتنوع الغطاء النباتي السائد فيه على اختلاف مناخاته (08)
- في الخاتمة: أمثل بالرسم المناطق الحرارية على سطح الأرض، وأشير الى عدم تشابه حالة الجو بكل الكرة الأرضية (02)

التحرير