

الاسم : النقب : الرقم : القسم : 7 أساسي

تمرين عدد 1

أثناء استعمال القدم الزالق و قيس بعض القطع تحصلنا على الوضعيات التالية:
اقرأ القياسات و قم بتسجيلها في الجدول.

القراءة (2).	القراءة (1).
القياس (2):	القياس (1):
القراءة (4).	القراءة (3).
القياس (4):	القياس (3):

تمرين عدد 2 أتمم الجدول و ذلك بذكر اسم الخط المستعمل في هذا الرسم .

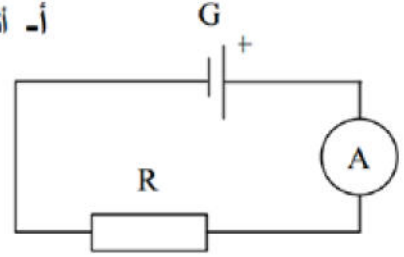
الرسم	اسم الشكل	نوع الشكل

التواء - الشطف - المخروط - المجرى

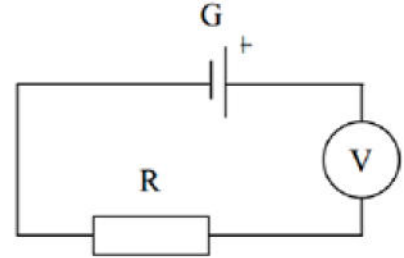
تمرين 3.1.1


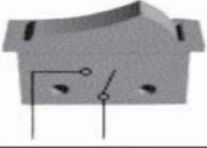





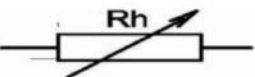

أ- أتمل التركيبتين ثم أجب بـ "صواب" أو "خطأ" في كلتا الحالتين

يوصل الأمبير متر بالتسلسل مع المقاوم R لقيس شدة التيار المار به



يوصل الفولت متر بالتسلسل مع المقاوم R لقيس التوتر



رمز الجهاز	صورة الجهاز	اسم الجهاز
		
		
		
		
		
		
		

ب-

أتمم الجدول