


المدرسة تقيم مكثسات التلايم في نهاية التلايم الثاني

المادة رياضيات العدد 16

الإسم واللعب - السنة الثانية

السنة ٤) يَوْمَ الأَحَدِ تَوَجَّهَ الأَمْدِقَاءُ قَائِلِي وَرَائِي وَمَعَهَا إِلَى حَدِيقَةِ المَدِينَةِ لِتُرْفِيهِ عَنِ النَّعْسِ

نَارُ مَعَهَا



نَارُ رَائِي

أرسم الطريق بين نَارِ مَعَهَا وَالْحَدِيقَةِ بِخَطِّ مُنْحَبِي

أكتب إسم الخط الذي يربط الْحَدِيقَةَ بِنَارِ قَائِلِي

أرسم الطريق بين نَارِ رَائِي وَالْحَدِيقَةَ بِخَطِّ مُسْتَقِيمٍ

السنة ٥) وَعِنْدَ الوُصُولِ سَرَى عَللاً طَعَالَ نَعَقَ المَأْكُولَاتِ بِالمَبَالِغِ الَّتِي يَمْلِكُونَهَا

* يَمْلِكُ قَائِلِي 195 مِي

أَكْمَلْ تَمثيلَ المَقْطَعِ النِّقْدِيَّةِ النِّاقِصَةِ



مكتبة وخطور اليد من رسم نسخ الوثائق كتابة النصوص - نسخ المطبوعات طريق الأفران كلم 7.5 سفاقس الهاتف: 97 740 634

السند 3) شَرَى قَاهِي مَرَطَبَةً بِ 55 مِي وَعَلَبَةً مَحْصِرٍ

ب 100 مِي

ت 3-1 كم صَرَف ؟

1
10

العمَل

الحل

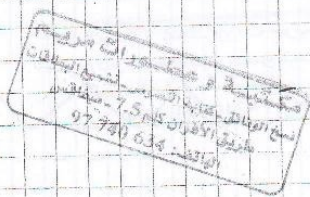
1
2

ت 3-2 كم بَقِيَ لِقَاهِي ؟

الحل

1
4

العمَل



1
5


السند 4) اقْتَنَى رَايَ قِطْعَةً بَسْكَوِيَّةً ثُمَّهَا 5 مِي وَ
وَقِطْعَةً خَلْوَى ثُمَّهَا بِقِلِّ عِيٍّ ثُمَّ مَنِ الْبَسْكَوِيَّةَ بِ 5 مِي
وَبَقِيَ لَهُ 50 مِي

ت 4-1 كم ثَمَنَ قِطْعَةِ الْخَلْوَى ؟

الحل

1
1

العمَل




1
2

ت 4-2 كم ثَمَنَ الْمَشْتَرَاكِ ؟

الحل

1
3

العمَل



1
4

ت 4-3) أُمَّزَلُ الْقَبْلُغِ الْيَدِي يَمْلِكُهُ رَايَ بِأَقْلٍ عَدِيدٍ مِنَ الْقِطْعِ

1
5

السند 5) أمّا ممّا فتملّك القطع التقديية التالية

٤ ٤ 50 5 100

ث 3-5) أحسب نقودها

----- مبي

ل
معد

السند 6) شرت ممّا قطعة حلوى ب 6 مبي وقطعة شكلا ط


ب 76 مبي

ث 6-1) كم دفقت للبايع؟

العمل

○ ○
○ ○
○ ○

الحل



ل
معد


ل
معد

ث 6-2) كم ارجع البايع لمعا؟

العمل

○ ○
○ ○
○ ○

الحل



ل
معد


ل
معد

السند 7) بقي للأطغال الثلاثة مبلغاً ما الباقي منه 1.13 م

أرادوا شراء بالون ثمنه 155 مبي

ث 7-4) أختار السؤال المناسب للوضع بوضع العلامة

في المكان المناسب



١ كم بقي للأطفال معًا
 ٢ هل يمكنكم شراء البالون
 ٣ كم يتقضم من مليم

مؤسسة وخدمات
 لخدمة الأيتام - القاهرة - مصر
 طريق الأنبار كلمه 7.5 - مراكش
 الهاتف: 97 740 634

العمل

٥	٥
٥	٥
٥	٥

مؤسسة وخدمات
 لخدمة الأيتام - القاهرة - مصر
 طريق الأنبار كلمه 7.5 - مراكش
 الهاتف: 97 740 634

جدول استناد الأعداد

العدد	مجايير العدد الأدنى			
	١ مع	٢ مع	٣ مع	٤ مع
١	⊕	⊕	⊕	⊕
٢	١	١	١	١
٣	١	١	١	١
٤	١	١	١	١

إعداد التملك

تملك دون الأدنى

تملك أدنى

تملك أقصى