

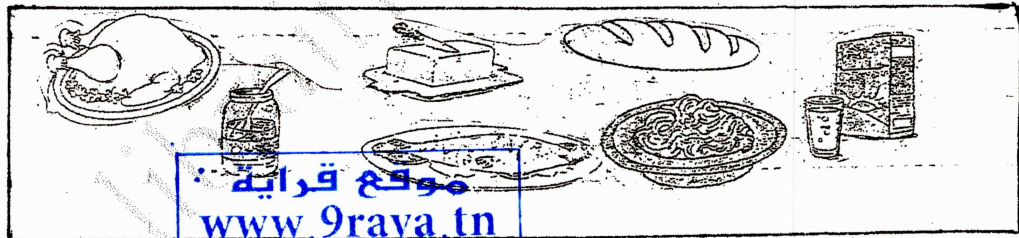


السنة الدراسية 2018 / 2019		المدرسة الابتدائية مركز الباشا
المادة : إيقاظ علمي		الاختبار التقييمي للثلاثية الثانية
الاسم و اللقب :		الاسم و اللقب :
العدد : 20 /		السنة : الثانية أ

السند 1. ذات يوم من أيام العطلة قمتُ في الصباح الباكر وغسلتُ
وجهي وتناولتُ فطور الصباح
التعليمة 1.1 أرتب الأجزاء حسب تسلسلها الزمني من 1 إلى 4 -



التعليمة 2.1 أحيط بخط مغلق ما يَصْلُحُ لفطور الصباح




موقع قراية
www.9raya.tn
موقع قراية • Facebook 9raya.tn

التعليمة 3.1 أعلل إجابتي :
فطور الصباح وجبة غذائية هامة لأنه

التعليمة 4.1 أضح الخطأ :

الإنسان في حاجة إلى وجبتين أساسيتين فقط في اليوم



السنة 2: لم يمسك ثيابي وقلت لأبي: حتى سجدت هب إلى السرك؟
فقال لي أبي: «سجدت هلك يوم السبت»

التعليمة 8-1: أوصل كتابة أيام الأسبوع مرتبةً

1 م

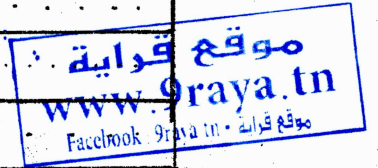
	الأربعاء	الجمعة	
--	----------	--------	--

التعليمة 2: أضيف الأحداث التالية حسب الجدول:

والذهاب إلى السرك • نزول المطر • شروق الشمس

أحداث دورية	أحداث غير دورية
.....
.....
.....

1 م



التعليمة 2: 3: أكمل بالتعليل المناسب

عبد الأضحي حدث دوري لأنه

السنة 3: وفي اليوم الموعود ذهبنا إلى السرك فأعجبت بمنشهد

الشبان الذين يقومون بحركات يهلونانته رائعة وخطيرة

التعليمة 3: 1: أكتب اسم المفضل المناسب

مفضل يساعده على تحريك الرأس

مفضل يساعده على تحريك اليد

1 م

التعليمة 3: 2: أضح الخاطئ

يوجد مفضل الركبة في الأطراف العلوية

3 م

التعليمة 3: 3: أكمل بما يناسب

وأحافظ على سلامة جسمي فلا

2 م

التعليمة 3: 4: أضح الخطأ:

يتكون جسم الإنسان من 4 أجزاء

3 م

التعلیمة 3-5: اَسْمَى اجْزَاءِ جِسْمِ الْإِنْسَانِ .

السند 4: لَقَدْ كَانَ الْعَرَضُ الْأَخِيرُ مَجِيئًا، حَيَوَانَاتٌ ضَخْمَةٌ
وَمُقْتَرِسَةٌ وَمُرَوِّضٌ يَدَاعِبُهَا وَيَأْمُرُهَا فَنُطِيعُهُ .
التعلیمة 4-1: اُكْمَلْ بِاسْمِ الْعَيُونِ الْمُنَاسِبِ .
النَّمْرُ أَسْرَعُ مِنْ
أَنْطَأُ مِنْ الْأَرْزَبِ .

جدول إسناد الأعداد

التميز		المعايير الدنيا		درجات التماك	
مع 3		مع 2		مع 1	
العدد	اج ص	العدد	اج ص	العدد	اج ص
0	0	0	0	1	0
1	1	2	1	2	1
2	2	3	2	3	2
3	3	4	3	4	3
4	4	5	4	5	4
5	5	6	5	6	5
		7	6	7	6
		8	7	8	7
		9	8	9	8
		10	9	10	9