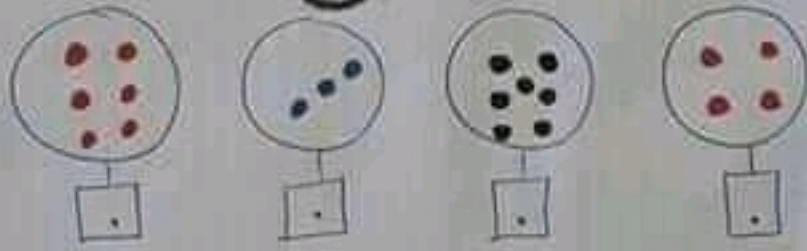


الحساب الذهني

السنة الأولى


1- أحسب كم كيل مجموعة:



2- أحيط مجموعة عددنا صيرها 8:



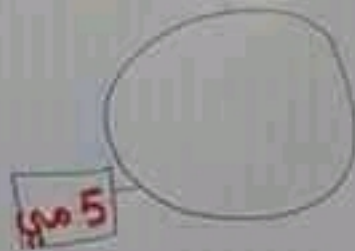
3- أرسم نقاطا على قدر العدد العكوب:



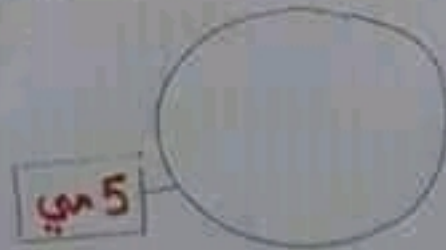
5- أَحْسَبُ الْعَبَائِخَ التَّالِيَةَ :



6 * أُفْتِلُ 5 مي بِأَقْلٍ مَا يُعِينُ
مِنَ الْقِطْعِ :



* أُفْتِلُ 5 مي بِأَكْثَرِ مَا يُعِينُ
مِنَ الْقِطْعِ :



4. أو اصل العَدَّة :

9 - - - - - 0

9 - - - - - 5

8 - - - - - 2 - 0

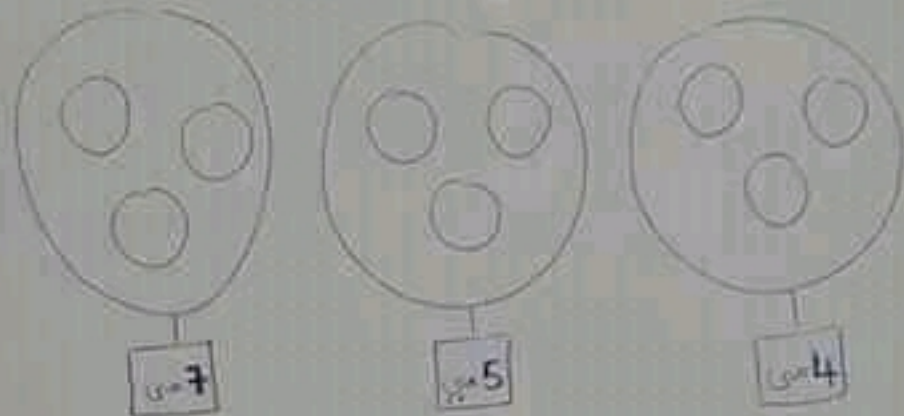
. - - - - 3 - 0

1 - - - - - 8 - 9

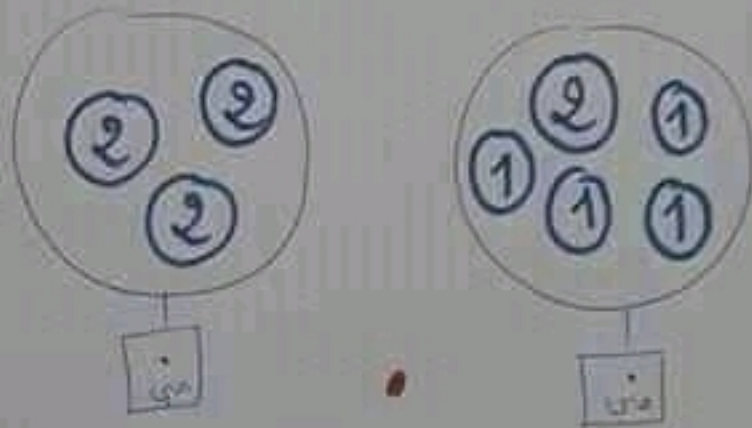
0 - - - - - 6 - 8

0 - - - - - 4 - 5

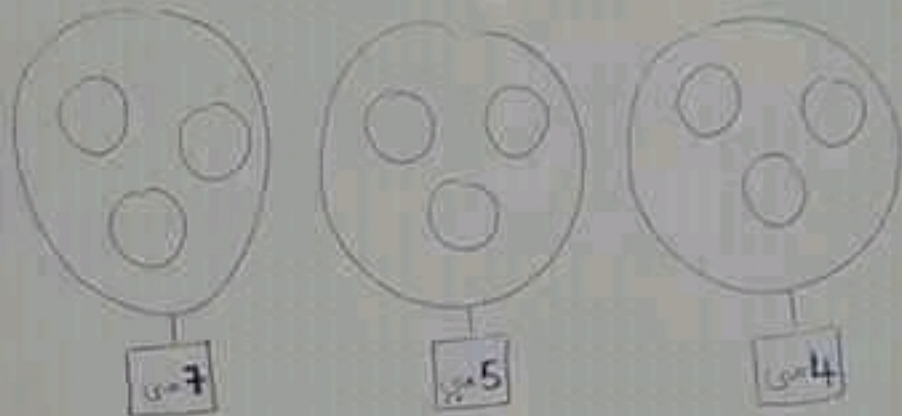
٦ - أمثل المَنَالِحَ الثَّلَاثَةَ :



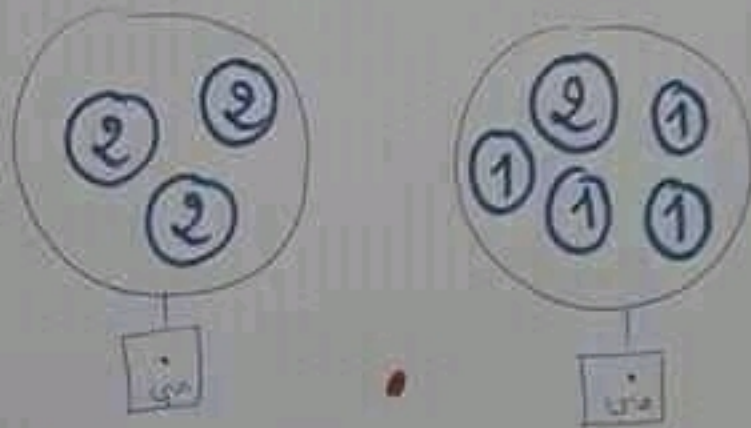
٨ - أَحْسِبْ الصَّبْلَيْنِ وَأُقَارِنْهُمَا:



٦ - أمثل المَنَالِحَ الثَّلَاثَةَ :



٨ - أَحْسِبُ الصَّبْلَيْنِ وَأُقَارِنُ فِيمَا بَيْنَهُمَا:



9 - أَقَارِنُ بِأَسْتِمَالِ (<, >, =)

2	9	4	0	6	5
5	8	3	6	2	1
9	9	4	4	1	3

10 - أَكْتُبُ الْعَدَدَ الشَّاقِصَ :

8 =	2 <	8 >
6 >	3 >	5 >
1 =	7 <	7 =

11 - أَكْتُبُ الْعَدَدَ الَّذِي يَتَّبِعُ مُبَاشَرَةً
وَالَّذِي تَلِيهِ مُبَاشَرَةً :

3 >	5 >	7 >
1 >	8 >	2 >

9 - أَقَارِنُ بِأَسْتِثْمَالِ (<, >, =)

2	9	4	0	6	5
5	8	3	6	2	1
9	9	4	4	1	3

10 - أَكْتُبُ الْعَدَدَ الشَّاقِصَ :

• = 8	2 <	• > 8
• > 6	3 >	• > 5
• = 1	7 <	7 =

11 - أَكْتُبُ الْعَدَدَ الَّذِي يَتَّبِعُ مُبَاشَرَةً
وَالَّذِي تَلِيهِ مُبَاشَرَةً :

• > 3 >	• > 5 >	• > 7 >
• > 1 >	• > 8 >	• > 2 >

* أرتب الأعداد التالية تنازليًا ✓ :

1 - 7 - 4 - 9 - 5



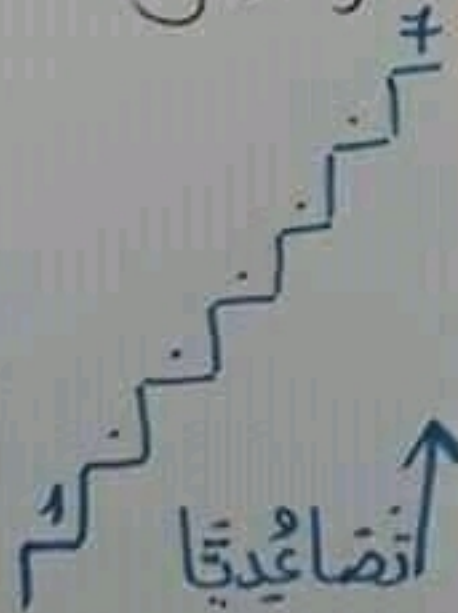

* أرتب الأعداد التالية تصاعديًا :

3 - 5 - 1 - 2 - 8

* أوامل الخد :



تنازليًا



تصاعديًا



رَتِّبِ الأَعْدَادَ التَّالِيَةَ تَحَاوُضِيًّا =

7 - 9 - 8 - 2 - 6

