

السند 2: بعد الترتيب أعطت الحبة تادرة

الأمثلة 8 من ليزاء الحلوى


التعليمة 2-1 أمثل 8 من ب 3 قطع نقدية



3 مد



التعليمة 2-2 أرّيت القطع النقدية تشارينا



2 مد



التعليمة 2-3: أحسب القطع النقدية لإعزف تفر الحلوى




تفر الحلوى

3 مد

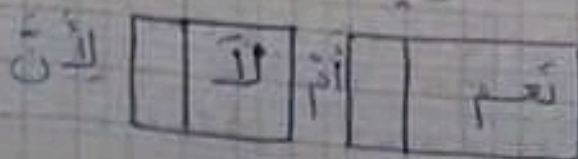



التعليمة 2-4: أمثل تفر الحلوى بأقل عدد ممكن من القطع النقدية.



التعليمة 2-5: أصغ (x) أمام الإجابات وأعزل: هل تستطيع الأبطال تراء الحلوى؟

5 مد



تسميم النباتات الحشيشية
 (بواسطة الفيتوكسينات)
 صمغية مقلية

- 1/ أثبتت أن المادة التي يباين لها فترة قتل 3 ح.
- 2/ أثبتت أن المادة التي يباين لها فترة قتل 4 ح.
- 3/ أثبتت أن المادة التي يباين لها فترة قتل 5 و 7 ح.

4/ أربع نتائج المقارنة

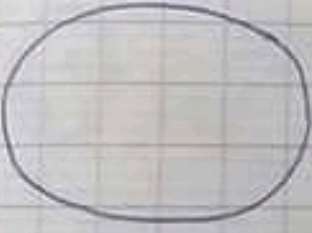

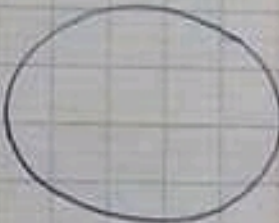

- 4 - 4
- 3 - 3
- 5 - 3
- 3 - 0

4/

ح. القياس	تسميم - قاتل			النتيجة
	1 ح	2 ح	3 ح	
1	0	0	0	+++
2	1	2	3	+++
3	1	2	3	+++
4	1	2	3	+++

تقديم من منسوبات التعليم
في نهاية الفترة الثالثة
رياضيات

السنة 1، 4 بتعدا انتهاء التروس حلس الأهداء على
الحاسوب. رسم حاتم 8 زهراء ورسمت فائز 5
فراشات بينما رسم طارق 3 برنقالات.
التعليمة 1-1: أرسم عناهر كل مجموعة

طارق	فائز	حاتم	1 م
			

التعليمة 1-2: أكتب كم كل مجموعة في لادتي
التعليمة 1-3: أرتب الأعداد السابقة تنازليا

 2 م

التعليمة 1-4: أرتب الأعداد السابقة نمائيا

