

المدرسة الابتدائية مركز الباشا	تقييم مكتسبات التلاميذ لنهاية الثلاثي الثاني	الرياضيات السنة الثانية
الاسم واللقب	١٥	السنة الثانية





السند عدد 1:
مَسَاءَ يَوْمِ الْأَحَدِ خَرَجَ عِمَادٌ وَ أَمَلٌ وَ مَرُوى لِيَشْتَرِيَ كُلَّ وَاحِدٍ مِنْهُمُ
قِصَّةً.
يَمْلِكُ عِمَادٌ قِطْعَةً مِنْ فِئَةِ 100 مِي وَ 5 قِطْعٍ مِنْ فِئَةِ 20 مِي وَ
قِطْعَتَيْنِ مِنْ فِئَةِ 50 مِي
التعليمة 1-1: أَمِثِلْ مَبْلَغَ عِمَادٍ وَ أَحْسِبْهُ

مع 3

مي.....

مع 3

السند عدد 2: وَ تَمْلِكُ مَرُوى الْمَبْلَغَ الْمَمْتَلَّ فِي الْجَدْوَلِ التَّالِي:

			
xx	xxxxx	xxxxx	xx

مع 3

التعليمة 1-2: أَحْسِبْ الْمَبْلَغَ الَّذِي تَمْلِكُهُ مَرُوى. مي.....

التعليمة 2-2: أَمِثِلْ الْمَبْلَغَ بِأَقْلَ عَدَدٍ مِنَ الْقِطْعِ:

مع 3

- ١٥ -

(45)

السند عدد 3: وَتَمَلِكْ أَمَل 700 مي
التعليمة 1-3: أَكْمَلْ تَمَثِيلَ مَبْلَغِ أَمَل:



مع 3

التعليمة 2-3: أُعِيدُ تَمَثِيلَ مَبْلَغِ أَمَلٍ بِأَقَلِّ عَدَدٍ مِنَ الْقَطْعِ:



مع 3

التعليمة 3-3: أُرْتَبِّبُ الْمَبْلَغَ الَّتِي يَمْلِكُهَا الْأَطْفَالُ تَصَاعُدِيًّا.

مع 2

السند عدد 4:

تَمَنَّى الْقِصَّةِ الَّتِي يُرِيدُونَ شِرَاءَهَا يَبْلُغُ 600 مي
التعليمة 1-4: مَنْ مِنَ الْأَطْفَالِ يُمْكِنُ لَهُ شِرَاءُ الْقِصَّةِ؟ وَنَمَادًا؟

مع 5

مع 2

لأن

التعليمة 2-4: كَمْ مَلِيمًا يَنْفَعُ عَمَادًا لِيَتِمَّكَنَ مِنْ شِرَاءِ الْقِصَّةِ؟

مع 1

التعليمة 3-4: كَمْ مَلِيمًا يَبْقَى لِأَمَلٍ بَعْدَ شِرَاءِ الْقِصَّةِ؟

مع 2

مع 1

مع 2

السند عدد 5:

أَمَّا مَرْوَى فَكَانَتْ مُوَلَّعَةً بِجَمْعِ الطَّوَابِعِ الْبَرِيدِيَّةِ فَعَدَلَتْ عَنْ شِرَاءِ
الْقِصَّةِ وَأَقْتَنَتْ طَابِعًا بَرِيدِيًّا تُونِسِيًّا بِ250 مي وَطَابِعًا بَرِيدِيًّا أُجْنِبِيًّا
يَقِلُّ ثَمَنُهُ عَنْ تَمَنَّى الطَّابِعِ التُّونِسِيِّ بِ30 مي.

(16)

- صد -

التعليمة 5-1 : أَحْسِبْ ثَمَنَ الطَّابِعِ الْأَجْنَبِيِّ:

مع 1

مع 2

التعليمة 5-2 : أَحْسِبْ ثَمَنَ مُشْتَرِيَاتِ مَرْوَى:

مع 1

مع 2


التعليمة 5-3 : أَحْصِرْ ثَمَنَ مُشْتَرِيَاتِ مَرْوَى بَيْنَ مَائَتَيْنِ كَامِلَتَيْنِ

مع 2

السند عدد 6 :

خَرَجَ الْأَطْفَالُ مِنَ الْكُتَيْبَةِ وَرَكِبُوا الْحَافِلَةَ لِلْعُودَةِ إِلَى الْمَنْزِلِ.
نَزَلَ عِمَادٌ فِي الْمَحْطَّةِ لِيَسِيرَ فِي حِطِّ طَوْلُهُ 85م ثُمَّ يَنْعَطِفُ فِي حِطِّ
مُنْحَنِي طَوْلُهُ 69م لِيَصِلَ إِلَى مَنْزِلِهِ.

بَيْتُ عِمَادٍ



مع 4

بَيْتُ الْجَدَّةِ

مع 4

التعليمة 6-1 : أَكْتُبْ اسْمَ الْخَطِّ الْأَوَّلِ.....

التعليمة 6-2 : أَرَسِّمِ الْخَطَّ الْمُنْحَنِي.

التعليمة 6-3 : أَرْبِطْ بَيْنَ مَنْزِلِ الْجَدَّةِ وَمَنْزِلِ عِمَادٍ بِخَطِّ مَنْكَسِرٍ.

مع 1

التعليمة 6-4 : أَبْحَثْ عَنِ طُولِ الْمَسَافَةِ بَيْنَ الْمَحْطَّةِ وَالْبَيْتِ:

مع 2

3 - (17)

السند عدد 7 : عَادَتْ مَرَوَى إِلَى الدَّارِ وَأَخَذَتْ تَعُدُّ الطَّوَابِعَ البَرِيدِيَّةَ
الَّتِي تَمَلِكُهَا فَوَجَدَتْ 35 طَابِعًا تُونِسِيًّا وَ 65 طَابِعًا مَغْرِبِيًّا وَ 57
طَابِعًا فَرَنْسِيًّا.

موقع قرابة
www.9raya.tn
موقع قرابة - 9raya.tn

التعليمة 1-7:

أَبَحَّتْ عَن جَمَّةِ الطَّوَابِعِ الَّتِي تَمَلِكُهَا

مع
1-ب

مع
2-ج

السند عدد 8 : أَمَّا أَمَلُ فَقَدْ عَادَتْ إِلَى بَيْتِهَا وَجَلَسَتْ تَطَالِعُ قِصَّتَهَا
الَّتِي تَحْتَوِي عَلَى 178 صَفْحَةً فَتَمَكَّنَتْ مِنْ مَطَالَعَةِ 40 صَفْحَةً .
التعليمة 1-8 : أَضْعُ عَلَامَةً (X) أَمَامَ السُّؤَالِ الْمُنَاسِبِ .

* كَمْ عُمُرُ أَمَلُ؟

مع
5

* كَمْ عَدَدُ صَفْحَاتِ الْقِصَّةِ؟

—

* كَمْ عَدَدُ الصَّفْحَاتِ الَّتِي لَمْ تَطَالِعْهَا أَمَلُ؟

—

التعليمة 2-8 : أُجِيبْ عَنِ السُّؤَالِ الِذِي اخْتَرْتَهُ بِإِجَابَةٍ لَقِظِيَّةٍ ثُمَّ
أَجْرِي الْعَمَلِيَّةَ.

—

معايير الحد الأدنى	معايير التمييز						
مع 1	مع 1	مع 2	مع 2	مع 2	مع 3	مع 4	مع 5
ب	ب	أ	ب	ج	3	4	5
0	0	0	0	0	0	0	0
1	1	0.5	0.5	0.5	0.5	0.5	1
2	2	1	1.5	1.5	1.5	1.5	2
3	3	2	2	2	2	2	3
4	4	3	3	3	3	3	4
5	5	4	4	4	4	4	5

18 - 4 -