



السنة الدراسية 2019	مركز البساتين
المادة : رياضيات	الاسم و اللقب :
السنة : 2	و

الاستدراك : 1. يتركك حينئذ 895 مضي

التي علمتها : 1. أميل المبلغ حسب عدد
التي تطرح الميزان وحسب القيمة



التعليمية : 2. أخصب ثمن المشتريات



200 مضي 1 م

التعليمية : 1. أخصب ثمن المشتريات

السنة الدراسية : 2020/2019	اسم الطالب	مدرسة البساتين
المسوى : 7 1 2	في المساء	الاسماء : جلال الدين الحاج فاسم
		الاسم و اللقب :

1. 100 + 30 = 130
2. 100 + 300 = 400
3. 117 - 217 = -100

أفكار بين كل عددي :

0,5 340 430
0,5 202 220

8 + 9 = 17

أرتب الآعداد التالية من الأكبر إلى الأصغر

0,5 541 145 415

0,5 < <

4

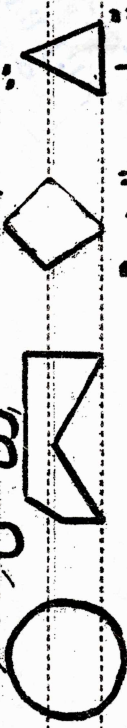
حفظ سعيد

السبند 3
جاء مُبَيَّرٌ فَعَمَّرَجَ عَلَى الْعَمَامِ وَشَرَّه
بِالْبَيْتِ سَكْرًا لَطِيفٌ رِيَاعِيَةٌ
الأضلاع ب. 400 ممي

التعليمية 4-1: أبحث عن الباقي

أمثل الباقي بقطعك في يد يدي

التعليمية 4-2: اللون شكل وقطعة الشكل



التعليمية 4-3: عند الرجوع سلك مبيز خطًا منحن
من العظري إلى مغارة اللعب إلى المنز
خطًا منكسرًا من مغارة اللعب إلى المنز
مرويا بالحما من المنزل

المنزل

الخط

الخطاف

التعليمية 2-2: كم بقي لـ

التعليمية 2-3: ارتك تنازليا
يملك مبيز / ثمن المشتريات / الباقي

التعليمية 2-4: أمثل الباقي بنقاط قطع



السبند 2: وأثناء العود في مبيز
التي مغارة اللعب فاشترى كجيات
وبقي لـ 410 ممي

التعليمية 3-1: أطلع سؤالًا متناهيًا للوضعية

التعليمية 3-2: أخطِظ

التعليمية 3-3: أبحث عن ثمن الكجيات بطريقتين مختلفتين
ط 1
ط 2

www.9raya.tn
موقع قراية