

الدرجة: 1/المستوى: الثانية
الاسم واللقب:
التوقيت: 45دق

تقييم مكتسبات التلاميذ في نهاية الثلاثي الثاني
في الرياضيات

المعززة الابتدائية مدرسة الباهيا

السنة الدراسية: 2019/2018

4
السند 1: قَرُبَ عِيدُ الْفِطْرِ فَخَرَجَتْ أُمِّي لِشِرَاءِ مَا يَلْزَمُنَا فَأَقْتَنَتُ

* حَلَوِيَّاتٍ تَمَنَّاها 85 د

* مَلَابِسَ تَمَنَّاها يَفُوقُ تَمَنِّي الْحَلَوِيَّاتِ بِ67 د

* أَحْذِيَّةً تَمَنَّاها يَقلُّ عَن تَمَنِّي الْمَلَابِسِ بِ52 د

التعليمة 1-1: أَحْسَبُ تَمَنِّي الْمَلَابِسِ؟

مصحف 1

مصحف 2

مصحف 1

مصحف 2

مصحف 1

مصحف 2

مصحف 2

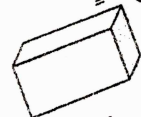

التعليمة 1-2: أَحْسَبُ تَمَنِّي

التعليمة 1-3: أَحْسَبُ تَمَنِّي مُشْتَرِيَاتِ أُمِّي؟

التعليمة 1-4: أَرْتَبُ أَثْمَانَ الْحَلَوِيَّاتِ وَالْمَلَابِسِ وَالْأَحْذِيَّةِ تَرْتِيبًا تَصَاعُدِيًّا

السند 2: عَادَتِ أُمِّي إِلَى الْبَيْتِ فَبَدَأَتْ بِوَضْعِ الْحَلَوِيَّاتِ فِي صَنَادِيْقٍ مُزَوَّجَةٍ

بِخُطُوطٍ مُسْتَقِيمَةٍ.

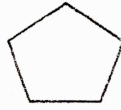


مصحف

التعليمة 1-2: أَرَيْنُ الصَّنَادِيْقَ بِخُطُوطٍ مُسْتَقِيمَةٍ



ثُمَّ وَضَعَتْ فِيهَا الْحَلَوِيَّاتِ فَكَانَ شَكْلُهَا كَالآتِي



التعليمة 2-2: أضع تحت كل شكل عدد أضلاعه

السند 3: في المساء كلفت أمي أخي غازي بشراء المشروبات فأرجع له البائع 375 مي

التعليمة 1-3: أمثل المبلغ بأقل ما يمكن من القطع النقدية.

السند 4: قطع أخي للذهاب إلى العمل 187 م

التعليمة 1-4: أحسب المسافة التي قطعها غازي ذهابًا وإيابًا؟

.....

.....

السند 5: أما أسامة فقد كلفته أمي شراء الورق لوضع الحلويات فأعطته 435 مي

التعليمة 1-5: أمثل هذا المبلغ بـ 5 قطع نقدية

استترى أسامة الورق فأرجع له البائع 125 مي

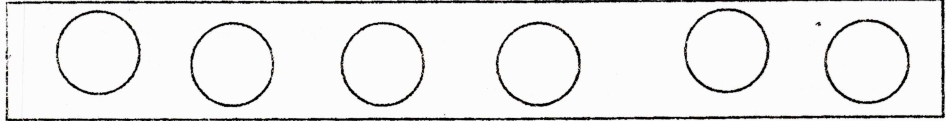
التعليمة 2-5: أحسب ثمن الورق؟

.....

.....

طيمة 3-5: أرتب أعداد العملية تنازلياً

التعليمة 4-5: أمثل المبلغ ب6 قطع نقدية



السند 6: في الطريق مرّ غازي بالمخبزة لشراء الخبز وثمانه 485مي
التعليمة 6-1: أضع علامة (x) أمام السؤال المناسب.

* كم ينقصه؟

* كم ثمن الخبز؟

* كم بقي له؟

الإجابة اللفظية:

الإجابة العددية:

السند 7: بعد أن أنهت أمي كل مصاريفها بقي لها 86د

التعليمة 1-7: أحسب المبلغ الذي صرفته إذا علمت أن الأب قد أعطاهما

399 د؟

التعليمة 2-7: أرتب أعداد العملية داخل الشريط

79	299	322	389	403
----	-----	-----	-----	-----