

التمرين ع1-عدد (2001)

نعتبر العددين الحقيقيين :

$$b = 6\sqrt{2} - \sqrt{18} + 1 \quad \text{و} \quad a = \sqrt{3}(2 + \sqrt{3}) - 2$$

$$(1) \quad \text{بين أن } a = 1 + 2\sqrt{3} \quad \text{و} \quad b = 1 + 3\sqrt{2}$$

$$(2) \quad \text{أ- قارن بين العددين } 3\sqrt{2} \quad \text{و} \quad 2\sqrt{3}$$

$$\text{ب- أثبت أن } 1 < a < b$$

$$\text{ج- استنتج ترتيباً للأعداد } \frac{1}{a} \quad \text{و} \quad \frac{1}{b} \quad \text{و} \quad 1$$

التمرين ع2-عدد (2002)

$$(1) \quad \text{نعتبر العدد الحقيقي : } a = |2\sqrt{2} - 3|$$

$$\text{أ- قارن بين العددين } 3 \quad \text{و} \quad 2\sqrt{2}$$

$$\text{ب- استنتج أن : } a = 3 - 2\sqrt{2}$$

$$(2) \quad \text{نعتبر العدد الحقيقي } b = \sqrt{2}(\sqrt{2} - 1) + \sqrt{18} + 1$$

$$\text{بين أن : } b = 3 + 2\sqrt{2}$$

$$(3) \quad \text{أ- أحسب الجداء } a \cdot b \quad \text{و استنتج أن العدد } a \quad \text{هو مقلوب العدد } b$$

$$\text{ب- أحسب العدد } \frac{1}{a} + \frac{1}{b} \quad \text{و استنتج أنه عدد صحيح طبيعي.}$$

التمرين ع3-عدد (2003)

$$(1) \quad \text{نعتبر العدد الحقيقي : } a = \sqrt{125} - \sqrt{20} - 1$$

$$\text{أ- بين أن } a = 3\sqrt{5} - 1$$

$$\text{ب- أثبت أن } a \quad \text{عدد موجب.}$$

$$(2) \quad \text{ليكن العدد الحقيقي } b = 6 + 4\sqrt{5}$$

$$\text{أ- أحسب } ab$$

$$\text{ب- بين أن } (b - a)^2 = ab$$

$$\text{ج- استنتج أن : } \frac{1}{a} - \frac{1}{b} = \frac{1}{b - a}$$

التمرين 4 - سنة 2004

نعتبر العدد الحقيقي $a = \sqrt{9} + \sqrt{98} - \sqrt{50}$

1 أ- بيّن أنّ $a = 3 + 2\sqrt{2}$

ب- بيّن أنّ $a - 5 = 2(\sqrt{2} - 1)$

ج- استنتج أنّ $a > 5$

2 أ- بيّن أنّ $a = (1 + \sqrt{2})^2$

ب- استنتج مقارنة العددين $1 + \sqrt{2}$ و $\sqrt{5}$

التمرين 5 - سنة 2005

نعتبر العددين $a = 3 + \sqrt{162} - 10\sqrt{2}$ و $b = (1 + \sqrt{3})(2 - \sqrt{3}) + 1$

1 أ- بيّن أنّ $a = 3 - \sqrt{2}$

ب- ما هي علامة العدد a ؟ علّل جوابك.

ج- بيّن أنّ $b = \sqrt{3}$

2 أ- بيّن أنّ $a^2 - b^2 = 2(4 - 3\sqrt{2})$

ب- قارن بين العددين 4 و $3\sqrt{2}$

ج- استنتج مقارنة العددين a و b

التمرين 6 - سنة 2006

1 نعتبر العدد $a = 2\sqrt{75} - 4\sqrt{12}$

بيّن أنّ $a = 2\sqrt{3}$

2 نعتبر العدد $b = 2 + \sqrt{3}$

أ - قارن بين العددين a و b

ب - بيّن أنّ $2 - \sqrt{3}$ هو مقلوب العدد b

ج - بيّن أنّ $2 - \sqrt{3} < \frac{1}{2\sqrt{3}}$

التمرين 7 - سنة (2007)

(1) نعتبر العدد الحقيقي $a = \sqrt{50} - \sqrt{8}(\sqrt{2} + 1)$
أ - بين أن $a = 3\sqrt{2} - 4$

ب - قارن بين العددين 4 و $3\sqrt{2}$
ج - استنتج أن a عدد موجب

(2) نعتبر العددين الحقيقيين $x = \frac{7}{\sqrt{2} + 1}$ و $y = \frac{1}{\sqrt{2} - 1}$
أ - بين أن $x - y = 2a$

ب - استنتج مقارنة العددين x و y

التمرين 8 - سنة (2008)

(1) نعتبر العدد الحقيقي $a = 2\sqrt{5}(\sqrt{5} - 1) - 4$
أ - بين أن $a = 6 - 2\sqrt{5}$

ب - قارن بين العددين 6 و $2\sqrt{5}$
ج - استنتج أن a عدد موجب.

(2) بين أن $a = (\sqrt{5} - 1)^2$

(3) ليكن العدد الحقيقي $b = \sqrt{245} - \sqrt{45}$

أ - بين أن $b = 4\sqrt{5}$

ب - بين أن $\frac{b-a}{\sqrt{5}-1}$ عدد صحيح طبيعي.

التمرين 9 - سنة (2009)

(1) نعتبر العدد الحقيقي $a = 5\sqrt{2} - 7$

أ - قارن بين العددين 7 و $5\sqrt{2}$

ب - استنتج علامة العدد a .

(2) ليكن العدد الحقيقي $b = \sqrt{200} - \sqrt{50} + \sqrt{49}$

أ - بين أن $b = 5\sqrt{2} + 7$

ب - بين أن b هو مقلوب العدد a .

ج - بين أن العددين b و $1 - b(a-1)$ متقابلان.

التمرين 13-سند (2013)

نعتبر العددين الحقيقيين $a = \frac{\sqrt{5}+1}{2}$ و $b = \frac{\sqrt{5}-1}{2}$

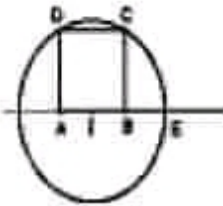
(1) أ) احسب $a+b$

ب) بين أن b مقلوب العدد a .

(2) وحدة قيس الطول هي المسنن.

ABCD مربع بحيث $AB=1$ و I منتصف $[AB]$.

الدائرة التي مركزها I وتعرض من النقطة C تقطع نصف المستقيم (AB) في نقطة E .



(1) احسب البعد IC

ب) بين أن $AE = \frac{1+\sqrt{5}}{2}$ و $BE = \frac{\sqrt{5}-1}{2}$

التمرين 14-سند (2014)

نعتبر العددين الحقيقيين $a = 4 - 3\sqrt{12} + \sqrt{48}$ و $b = (1 + \sqrt{3})^2$

(1) بين أن $a = 4 - 2\sqrt{3}$ و $b = 4 + 2\sqrt{3}$

(2) قارن بين $2\sqrt{3}$ و 4 ثم استنتج علامة العدد a

(3) أم بين أن $a \times b = 4$

ب) استنتج أن $\sqrt{\frac{a}{b}} - 2 - \sqrt{3}$

(4) ليكن العدد الحقيقي $c = \sqrt{a} - \sqrt{b}$

أ) بين أن العدد c سالب

ب) احسب c^2 ثم استنتج c .

التعريف 15 - سنة (2015)

لعتبر العددين الحقيقيين a و b حيث $a = \frac{(1+\sqrt{13})^2 - 8}{4}$ و $b = \frac{\sqrt{13}-4}{4}$.

(1) بين أن $a = \frac{\sqrt{13}+3}{2}$ و $b = \frac{\sqrt{13}-3}{2}$

(2) أ) حسب $b = a$

ب) بين أن a مقبول ب

ج) بين أن $(b-a)^2 = \frac{b}{a} + \frac{a}{b} - 2$

تولستح لعمدة $\sqrt{\frac{b}{a} + \frac{a}{b} - 2}$

(3) (وحدة القياس هي المستطير)

في الرسم المرفق لدينا :

- ABE مثلث قائم حيث $AB = 3$ و $AE = 2$.

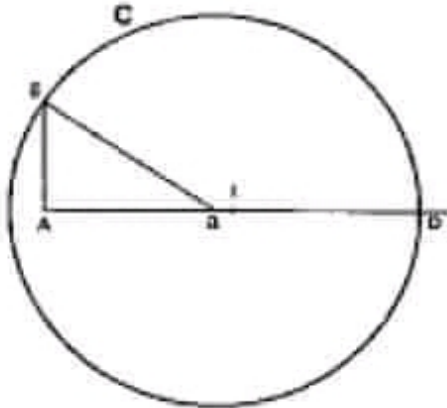
- C نقطة مركزها B وتبعد عن النقطة E

- D نقطة تقاطع الدائرة C ونصف المستقيم (AB)

- I منتصف قطعة المستقيم $[AD]$

أ) حسب BE

ب) بين أن $AI = \frac{\sqrt{13}+2}{2}$ و $BI = \frac{\sqrt{13}-2}{2}$



التعريف 16 - سنة (2016)

في الرسم المقابل لدينا $(A, 1, 0)$ معين متعامد من المستوي حيث $OI = 0$ و $A(a, 0)$

و $B(0, 2)$ نقطتان من المستوي علما أن a عدد حقيقي و $a > 1$.

(1) المستقيم اللآز من A والموازي للمستقيم (BI) يقطع (OI) في النقطة E .

بين أن $\frac{OE}{OB} = \frac{OA}{OI}$ ثم استنتج أن $OE = a^2$.

(2) لتكن النقطة M من نصف المستقيم (OI) حيث $EM=1$ و M لا تنتمي لقطعة المستقيم $[OE]$.

حدد البعد OM بدلالة a .

(3) المستقيم اللآز من النقطة A وللوازي للمستقيم (AM) يقطع (OI) في النقطة K .

بين أن $OK = \frac{a}{a^2+1}$

(4) أ) أثبت أن $(x-2)(x-\frac{1}{2}) = x^2 - \frac{5}{2}x + 1$ حيث x عدد حقيقي.

ب) بين إذا كان $OK = \frac{2}{5}$ فإن النقطة A منتصف قطعة المستقيم (OA)



التمرين عـ 17 — عدد (2017)

نعتبر العددين الحقيقيين الموجبين a و b حيث $a^2 = 11 + 8\sqrt{2}$ و $b^2 = 11 - 6\sqrt{2}$.

(1) ا) لفرز العددين a^2 و b^2 .

ب) بين أن $(a - b)$ عدد موجب.

(2) أجب $a^2 b^2$ ثم استنتج أن $ab = 7$.

(3) أجب $(a - b)^2$ ثم استنتج أن $a - b = 2\sqrt{2}$.

(وحدة أوس الطول المستعمر)

في الرسم المقليل لدينا:

- ABC مثلث متقاوس الضلعين وقام في A ، حيث $AB = a$

- E النقطة من $[AC]$ حيث $AE = b$

- H السقط العمودي للنقطة E على (BC) .

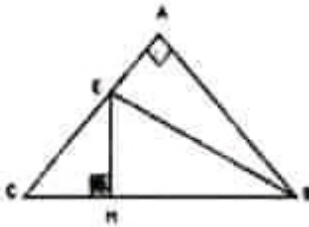
(4) ا) بين أن المثلث HEC متقاوس الضلعين.

ب) بين أن $EH = 2$.

(5) لتكن S مساحة المثلث BEC .

ا) بين أن $S = a\sqrt{2}$.

ب) بين أيضا أن $S = 2 + 3\sqrt{2}$ ، ثم استنتج أن $a = 3 + \sqrt{2}$.



التمرين عـ 18 — عدد (2018)

نعتبر العددين الحقيقيين $a = \frac{\sqrt{5}(\sqrt{5} + 3) - (\sqrt{5} - 1)}{4}$ و $b = \frac{6 - \sqrt{20}}{4}$

(1) بين أن $a = \frac{3 + \sqrt{5}}{2}$ و $b = \frac{3 - \sqrt{5}}{2}$

(2) ا) بين أن a و b عددان متقويان.

ب) أجب $a + b$

ج) بين أن $(a + b)^2 - 2ab = \frac{1}{a^2} + \frac{1}{b^2}$ ثم أجب $\frac{1}{a^2} + \frac{1}{b^2}$

(3) ا) بين أن $2 \leq \sqrt{5} \leq \frac{5}{2}$

ب) بين أن $\frac{5}{2} \leq a \leq \frac{11}{4}$

ج) استنتج حصرا للعدد b ثم تحقق أن مناه أصغر قطعا من 0,04.

نعتبر العددين الحقيقيين $a = 12 + \sqrt{200} - \sqrt{8}$ و $b = 2(6 + 3\sqrt{3})$

(1) أ) بين أن $a = 2(6 + 4\sqrt{2})$

ب) قارن بين $4\sqrt{2}$ و $3\sqrt{3}$ ثم استنتج أن $b < a$

(2) بين أن $a = (2 + 2\sqrt{2})^2$ و $b = (3 + \sqrt{3})^2$

(3) ليكن العدد الحقيقي $c = \frac{3 + \sqrt{3}}{2 + 2\sqrt{2}}$

أ) بين أن $c^2 < 1$

ب) بين أن $\frac{1}{2} < c < 1$

التمرين ع1- عدد (2001)

| | | | |
|---|-------|--|-------|
| $b = 6\sqrt{2} - \sqrt{18} + 1$ $= 6\sqrt{2} - \sqrt{9 \times 2} + 1$ $= 6\sqrt{2} - 3\sqrt{2} + 1$ $= 3\sqrt{2} + 1$ $= 1 + 3\sqrt{2}$ $b = 1 + 3\sqrt{2}$ | إِنَّ | $a = \sqrt{3}(2 + \sqrt{3}) - 2$ $= 2\sqrt{3} + 3 - 2$ $= 2\sqrt{3} + 1$ $= 1 + 2\sqrt{3}$ $a = 1 + 2\sqrt{3}$ | إِنَّ |
|---|-------|--|-------|

(2) أ- $(2\sqrt{3})^2 = 12$ و $(3\sqrt{2})^2 = 18$ و $12 < 18$

إذن $(2\sqrt{3})^2 < (3\sqrt{2})^2$ ولنا $2\sqrt{3}$ و $3\sqrt{2}$ موجبان فإن $2\sqrt{3} < 3\sqrt{2}$

ب- لدينا $2\sqrt{3}$ عدد موجب قطعاً يعني $2\sqrt{3} > 0$ إذن $2\sqrt{3} + 1 > 0 + 1$ أي $a > 1$

و $2\sqrt{3} < 3\sqrt{2}$ إذن $2\sqrt{3} + 1 < 3\sqrt{2} + 1$ أي $a < b$

لنا و $\begin{cases} a > 1 \\ a < b \end{cases}$ يعني $1 < a < b$

التمرين ع2- عدد (2002)

(1) أ- $(2\sqrt{2})^2 = 8$ و $3^2 = 9$ و $8 < 9$

إذن $(2\sqrt{2})^2 < 3^2$ ولنا $2\sqrt{2}$ و 3 موجبان فإن $2\sqrt{2} < 3$

ب- بما أن $2\sqrt{2} < 3$ فإن $2\sqrt{2} - 3 < 0$ أي $2\sqrt{2} - 3$ عدد سالب

و بالتالي $a = |2\sqrt{2} - 3|$

$$= -(2\sqrt{2} - 3)$$

$$= -2\sqrt{2} + 3$$

إذن $a = 3 - 2\sqrt{2}$

(2) $b = \sqrt{2}(\sqrt{2} - 1) + \sqrt{18} + 1$

$$= 2 - \sqrt{2} + \sqrt{9 \times 2} + 1$$

$$= 2 + 1 - \sqrt{2} + 3\sqrt{2}$$

$$b = 3 + 2\sqrt{2} \quad \text{إذن} \quad = 3 + 2\sqrt{2}$$

$$ab = (3 - 2\sqrt{2})(3 + 2\sqrt{2}) \quad \text{أ} \quad (3) \\ = 3^2 - (2\sqrt{2})^2$$

$$ab = 1 \quad \text{إذن} \quad = 9 - 8 = 1$$

بما أن $ab = 1$ فإن a و b مقلوبان وبالتالي a هو مقلوب b

$$\text{ب. بما أن } a \text{ هو مقلوب } b \text{ فإن } \frac{1}{a} = b \text{ و } \frac{1}{b} = a$$

$$\frac{1}{a} + \frac{1}{b} = b + a \quad \text{وبالتالي}$$

$$= (3 + 2\sqrt{2}) + (3 - 2\sqrt{2})$$

$$= 3 + 2\sqrt{2} + 3 - 2\sqrt{2}$$

$$\frac{1}{a} + \frac{1}{b} = 6 \quad \text{إذن} \quad = 6$$

و بما أن 6 عدد صحيح طبيعي فإن $\frac{1}{a} + \frac{1}{b}$ عدد صحيح طبيعي

التمرين 3 - عدد (2003)

$$a = \sqrt{125} - \sqrt{20} - 1 \quad \text{أ} \quad (1)$$

$$= \sqrt{25 \times 5} - \sqrt{4 \times 5} - 1$$

$$= 5\sqrt{5} - 2\sqrt{5} - 1$$

$$a = 3\sqrt{5} - 1 \quad \text{إذن} \quad = 3\sqrt{5} - 1$$

$$\text{ب. } (3\sqrt{5})^2 = 45 \text{ و } 1^2 = 1 \text{ و } 1 < 45$$

$$\text{إذن } 1^2 < (3\sqrt{5})^2 \text{ و لا } 3\sqrt{5} \text{ و } 1 \text{ موجبان فإن } 1 < 3\sqrt{5}$$

وبالتالي $3\sqrt{5} - 1 > 0$ و منه $3\sqrt{5} - 1$ عدد موجب أي أن **عدد موجب**

$$ab = (3\sqrt{5} - 1)(6 + 4\sqrt{5}) \quad (2)$$

$$= 3\sqrt{5} \times 6 - 1 \times 6 + 3\sqrt{5} \times 4\sqrt{5} - 1 \times 4\sqrt{5}$$

$$= 18\sqrt{5} - 6 + 60 - 4\sqrt{5}$$

$$ab = 14\sqrt{5} + 54 \quad \text{إذن} \quad = 14\sqrt{5} + 54$$



$$(b - a)^2 = [(6 + 4\sqrt{5}) - (3\sqrt{5} - 1)]^2 \quad \text{ب -}$$

$$= [6 + 4\sqrt{5} - 3\sqrt{5} + 1]^2$$

$$= (7 + \sqrt{5})^2$$

$$= 7^2 + 2 \times 7 \times \sqrt{5} + (\sqrt{5})^2$$

$$= 49 + 14\sqrt{5} + 5$$

$$(b - a)^2 = 54 + 14\sqrt{5} \quad \text{إذن} \quad = 54 + 14\sqrt{5}$$

$$(b - a)^2 = ab \quad \text{إذن} \quad \begin{cases} ab = 14\sqrt{5} + 54 \\ (b - a)^2 = 54 + 14\sqrt{5} \end{cases} \quad \text{و لدينا}$$

$$\frac{1}{a} - \frac{1}{b} = \frac{b}{ab} - \frac{a}{ab} \quad \text{ج -}$$

$$= \frac{b - a}{ab}$$

$$= \frac{b - a}{(b - a)^2}$$

$$= \frac{(b - a)}{(b - a)(b - a)}$$

$$= \frac{1}{b - a}$$

$$\frac{1}{a} - \frac{1}{b} = \frac{1}{b - a} \quad \text{إذن}$$

التمرين 4 عدد (2004)

(1)

$$a - 5 = (3 + 2\sqrt{2}) - 5$$

$$= 3 + 2\sqrt{2} - 5$$

$$= 2\sqrt{2} - 2$$

$$= 2\sqrt{2} - 2 \times 1$$

$$= 2(\sqrt{2} - 1)$$

$$a - 5 = 2(\sqrt{2} - 1)$$

ب -

$$a = \sqrt{9} + \sqrt{98} - \sqrt{50}$$

$$= 3 + \sqrt{49 \times 2} - \sqrt{25 \times 2}$$

$$= 3 + 7\sqrt{2} - 5\sqrt{2}$$

$$= 3 + 2\sqrt{2}$$

$$a = 3 + 2\sqrt{2}$$

إذن

إذن

ج - بما أن $\sqrt{2} > 1$ ($\sqrt{2} = 1, \dots, \dots$) فإن $\sqrt{2} - 1 > 0$ و 2 عند موجب قطعاً

وبالتالي $2(\sqrt{2} - 1) > 0$ وعنه $a - 5 > 0$ يعني $a > 5$



$$(1 + \sqrt{2})^2 = 1 + 2\sqrt{2} + 2 \quad \text{ا- (2)}$$

$$a = (1 + \sqrt{2})^2 \quad \text{إذن} \quad = 3 + 2\sqrt{2} = a$$

ب- بما ان $a > 5$ فلن $(1 + \sqrt{2})^2 > 5$ اي $(1 + \sqrt{2})^2 > (\sqrt{5})^2$

ولنا $1 + \sqrt{2}$ و $\sqrt{5}$ موجبان إذن $1 + \sqrt{2} > \sqrt{5}$

التمرين 5 - عدد (2005)

$$a = 3 + \sqrt{162} - 10\sqrt{2} \quad \text{ا- (1)}$$

$$= 3 + \sqrt{81 \times 2} - 10\sqrt{2}$$

$$= 3 + 9\sqrt{2} - 10\sqrt{2}$$

$$= 3 + (9 - 10)\sqrt{2}$$

$$a = 3 - \sqrt{2} \quad \text{إذن} \quad = 3 - \sqrt{2}$$

ب- بما ان $(\sqrt{2})^2 = 2$ و $3^2 = 9$ و $2 < 9$

فان $(\sqrt{2})^2 < 3^2$ ولنا $\sqrt{2}$ و 3 موجبان إذن $\sqrt{2} < 3$

و بالتالي $3 - \sqrt{2} > 0$ ومنه a عدد موجب قطعاً

$$b = (1 + \sqrt{3})(2 - \sqrt{3}) + 1 \quad \text{ج-}$$

$$= 2 + 2\sqrt{3} - \sqrt{3} - 3 + 1$$

$$b = \sqrt{3} \quad \text{إذن} \quad = \sqrt{3}$$

$$a^2 - b^2 = (3 - \sqrt{2})^2 - (\sqrt{3})^2 \quad \text{ا- (2)}$$

$$= 3^2 - 2 \times 3\sqrt{2} + (\sqrt{2})^2 - 3$$

$$= 9 - 6\sqrt{2} + 2 - 3$$

$$= 8 - 6\sqrt{2}$$

$$= 2 \times 4 - 2 \times 3\sqrt{2}$$

$$a^2 - b^2 = 2(4 - 3\sqrt{2}) \quad \text{إذن} \quad = 2(4 - 3\sqrt{2})$$

ب- بما ان $(3\sqrt{2})^2 = 18$ و $4^2 = 16$ و $16 < 18$



إذن $4^2 < (3\sqrt{2})^2$ ولنا $3\sqrt{2}$ و 4 موجبان فإن $4 < 3\sqrt{2}$

ج- بما أن $4 < 3\sqrt{2}$ فإن $4 - 3\sqrt{2} < 0$ وعند موجب قطعاً فإن $2(4 - 3\sqrt{2}) < 0$

ومنه $a^2 - b^2 < 0$ يعني $a^2 < b^2$ وبما أن a و b موجبان فإن $a < b$

التمرين 6 - عدد (2006)

$$a = 2\sqrt{75} - 4\sqrt{12} \quad (1)$$

$$= 2\sqrt{25 \times 3} - 4\sqrt{4 \times 3}$$

$$= 2 \times 5\sqrt{3} - 4 \times 2\sqrt{3}$$

$$= (10 - 8)\sqrt{3}$$

$$a = 2\sqrt{3}$$

$$\text{إذن} \quad = 2\sqrt{3}$$

$$a - b = 2\sqrt{3} - (2 + \sqrt{3}) = 2\sqrt{3} - 2 - \sqrt{3} = \sqrt{3} - 2 \quad (2) \quad \text{أ-}$$

بما أن $\sqrt{3} < 2$ ($\sqrt{3} = 1, \dots, \dots$) فإن $\sqrt{3} - 2 < 0$

وبالتالي $a - b < 0$ يعني $a < b$

$$\text{ب-} \quad (2 - \sqrt{3})b = (2 - \sqrt{3})(2 + \sqrt{3})$$

$$= 2^2 - (\sqrt{3})^2$$

$$= 4 - 3$$

$$= 1$$

بما أن $(2 - \sqrt{3})b = 1$ فإن $2 - \sqrt{3}$ و b عدنان مقلوبان ومنه $2 - \sqrt{3}$ هو مقلوب b

ج- لدينا $a < b$ و a و b لهما نفس العلامة (موجبان) إذن $\frac{1}{a} > \frac{1}{b}$

ولنا $2 - \sqrt{3}$ هو مقلوب b أي $\frac{1}{b} = 2 - \sqrt{3}$ و $\frac{1}{a} = \frac{1}{2\sqrt{3}}$

إذن $2 - \sqrt{3} < \frac{1}{2\sqrt{3}}$ يعني $\frac{1}{2\sqrt{3}} > 2 - \sqrt{3}$

التمرين 7 - عدد (2007)

$$a = \sqrt{50} - \sqrt{8}(\sqrt{2} + 1) \quad (1) \quad \text{أ-}$$

$$= \sqrt{25 \times 2} - \sqrt{4 \times 2}(\sqrt{2} + 1)$$



$$\begin{aligned}
&= 5\sqrt{2} - 2 \times \sqrt{2}(\sqrt{2} + 1) \\
&= 5\sqrt{2} - 2\sqrt{2} \times \sqrt{2} - 2\sqrt{2} \times 1 \\
&= 5\sqrt{2} - 4 - 2\sqrt{2} \\
&= (5 - 2)\sqrt{2} - 4 \\
&= 3\sqrt{2} - 4
\end{aligned}$$

$$a = 3\sqrt{2} - 4 \quad \text{إذن}$$

ب. بما أن $(3\sqrt{2})^2 = 18$ و $4^2 = 16$ و $16 < 18$

فإن $4^2 < (3\sqrt{2})^2$ ولذا $3\sqrt{2}$ و 4 موجبان إذن $4 < 3\sqrt{2}$

بما أن $4 < 3\sqrt{2}$ فإن $3\sqrt{2} - 4 > 0$ وبالتالي a عدد موجب قطعاً

$$x - y = \frac{7}{\sqrt{2}+1} - \frac{1}{\sqrt{2}-1} \quad \text{أ- (2)}$$

$$= \frac{7(\sqrt{2}-1)}{(\sqrt{2}+1)(\sqrt{2}-1)} - \frac{\sqrt{2}+1}{(\sqrt{2}-1)(\sqrt{2}+1)}$$

$$= \frac{7(\sqrt{2}-1) - (\sqrt{2}+1)}{(\sqrt{2}-1)(\sqrt{2}+1)}$$

$$= \frac{7\sqrt{2} - 7 - \sqrt{2} - 1}{(\sqrt{2})^2 - 1^2}$$

$$= \frac{6\sqrt{2} - 8}{2 - 1}$$

$$= \frac{2 \times 3\sqrt{2} - 2 \times 4}{1}$$

$$= 2(3\sqrt{2} - 4)$$

$$x - y = 2a \quad \text{إذن}$$

$$= 2a$$

ب. بما أن $x - y = 2a$ و a عدد موجب قطعاً و 2 عدد موجب قطعاً

فإن $x - y > 0$ يعني $x > y$

التمرين 8 - عدد (2008)

$$a = 2\sqrt{5}(\sqrt{5} - 1) - 4 \quad \text{أ- (1)}$$

$$= 2\sqrt{5} \times \sqrt{5} - 2\sqrt{5} - 4$$

$$= 10 - 2\sqrt{5} - 4$$

$$a = 6 - 2\sqrt{5} \quad \text{إذن} \quad = 6 - 2\sqrt{5}$$

ب- بما أن $(2\sqrt{5})^2 = 20$ و $6^2 = 36$ و $20 < 36$

فإن $(2\sqrt{5})^2 < 6^2$ ولنا $2\sqrt{5}$ و 6 موجبان إذن $2\sqrt{5} < 6$

ج- بما أن $2\sqrt{5} < 6$ أي $6 > 2\sqrt{5}$ فإن $6 - 2\sqrt{5} > 0$ وبالتالي a عدد موجب قطعاً

$$(2) \quad (\sqrt{5} - 1)^2 = 5 - 2\sqrt{5} + 1$$

$$= 6 - 2\sqrt{5}$$

$$a = (\sqrt{5} - 1)^2 \quad \text{إذن} \quad = a$$

$$(3) \quad a - 1 \quad b = \sqrt{49 \times 5} - \sqrt{9 \times 5}$$

$$= 7\sqrt{5} - 3\sqrt{5}$$

$$= (7 - 3)\sqrt{5}$$

$$b = 4\sqrt{5} \quad \text{إذن} \quad = 4\sqrt{5}$$

$$\text{ب-} \quad \frac{b-a}{\sqrt{5}-1} = \frac{4\sqrt{5} - (6 - 2\sqrt{5})}{\sqrt{5}-1}$$

$$= \frac{4\sqrt{5} - 6 + 2\sqrt{5}}{\sqrt{5}-1}$$

$$= \frac{6\sqrt{5} - 6}{\sqrt{5}-1} = \frac{6(\sqrt{5}-1)}{\sqrt{5}-1} = 6$$

إذن $\frac{b-a}{\sqrt{5}-1} = 6$ وبالتالي $\frac{b-a}{\sqrt{5}-1}$ عدد صحيح طبيعي

التمرين عودد (2009)

$$(1) \quad a = 5\sqrt{2} - 7$$

بما أن $(5\sqrt{2})^2 = 50$ و $7^2 = 49$ و $50 > 49$

فإن $(5\sqrt{2})^2 > 7^2$ ولنا $5\sqrt{2}$ و 7 موجبان إذن $5\sqrt{2} > 7$

ب- بما أن $5\sqrt{2} > 7$ فإن $5\sqrt{2} - 7 > 0$ وبالتالي a عدد موجب قطعاً



$$b = \sqrt{200} - \sqrt{50} + \sqrt{49} \quad \text{أ- (2)}$$

$$= \sqrt{100 \times 2} - \sqrt{25 \times 2} + 7$$

$$= 10\sqrt{2} - 5\sqrt{2} + 7$$

$$b = 5\sqrt{2} + 7 \quad \text{إنن}$$

$$= 5\sqrt{2} + 7$$

$$ab = (5\sqrt{2} - 7)(5\sqrt{2} + 7) \quad \text{ب-}$$

$$= (5\sqrt{2})^2 - 7^2$$

$$= 50 - 49$$

$$= 1$$

بما أن $ab = 1$ فإن a و b مقلوبان و بالتالي b هو مقلوب a

$$[b(a-1) - 1] + b = ba - b - 1 + b \quad \text{ج-}$$

$$= 1 - b - 1 + b$$

$$= 0$$

بما أن $[b(a-1) - 1] + b = 0$ فإن b و $b(a-1) - 1$ عدنان متقابلان

التمرين 10 - سنة (2010)

(1)

$$B = 3 + \sqrt{32} - 3\sqrt{8}$$

$$= 3 + \sqrt{16 \times 2} - 3\sqrt{4 \times 2}$$

$$= 3 + 4\sqrt{2} - 3 \times 2\sqrt{2}$$

$$= 3 + 4\sqrt{2} - 6\sqrt{2}$$

$$= 3 - 2\sqrt{2}$$

$$b = 3 - 2\sqrt{2} \quad \text{إنن}$$

$$A = 1 + \sqrt{2}(2 + \sqrt{2})$$

$$= 1 + 2\sqrt{2} + \sqrt{2} \times \sqrt{2}$$

$$= 1 + 2\sqrt{2} + 2$$

$$= 3 + 2\sqrt{2}$$

$$a = 3 + 2\sqrt{2} \quad \text{إنن}$$

$$AB = (3 + 2\sqrt{2})(3 - 2\sqrt{2}) = 3^2 - (2\sqrt{2})^2 = 9 - 8 = 1$$

ب- بما أن $AB = 1$ فإن A و B مقلوبان و بالتالي B هو مقلوب A

ج- بما أن B هو مقلوب A فإن A و B مختلفان لصفري و لهما نفس العلامة

و لنا $A = 1 + \sqrt{2}(2 + \sqrt{2})$ عدد موجب قطعاً إنن B أيضاً عدد موجب قطعاً