

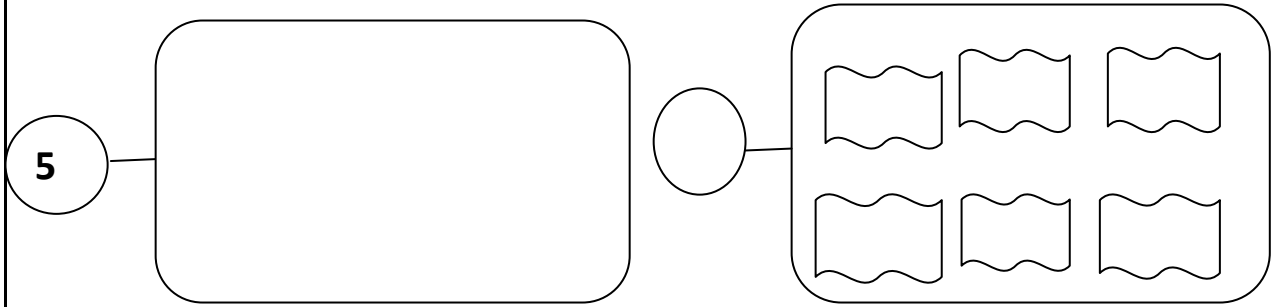
الاسم واللقب:	اختبار الرياضيات الثلاثي الثاني 2016/2015	المدرسة:..... القسم: السنة الأولى
---------------------------------	--	--

السند

الأطفال يرتبون البيت. صفف رفيق مجموعة من الكتب في أعلى رف وأخرى في أسفل رف.

التعليم 1-ة :

أتمم بما يناسب



مع 1 أ

مع
ب1

التعليم 2-ة :
أحسب العدد الجملي للكتب :

$$\cdot = \cdot + \cdot$$

مع 2 أ

مع
ب2

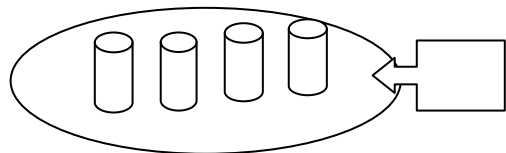
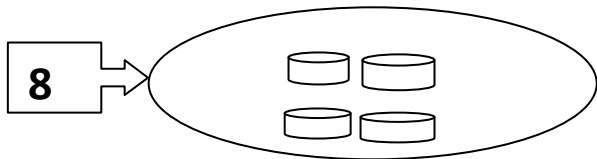
التعليم 3-ة :

أرتب الأعداد من الأصغر الى الأكبر



مع 2 ج

السند 2: سندس ترتب الكؤوس.



مع 1 أ

التعليم 1: أتمم المجموعات بما يناسب:

التعليم 2: أحسب العدد الجملي للكؤوس :

$$\cdot = \cdot + \cdot$$

مع
1ب

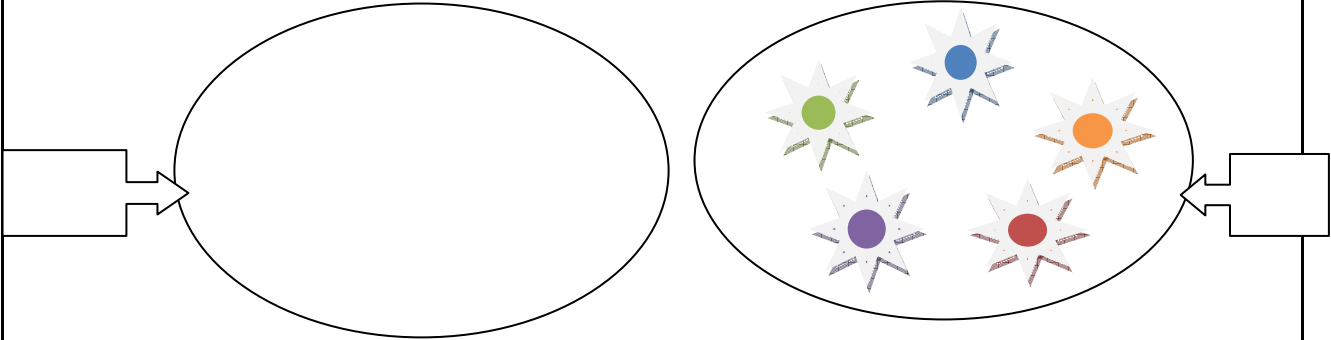
التعليم 3: أرتب أعداد العملية تنازليا :

.....

مع 2
أ
مع
2ب

السند 3 :
قُطفت عفاف باقة أزهار ملونة من الحديقة:

مع 2ج



التعليم:

1 أحسب كم مجموعة الأزهار الملونة .

2 أرسم مجموعة أزهار حمراء أصغر من مجموعة الأزهار الملونة

3 أحسب العدد الجملي لأزهار :

$$\cdot = \cdot + \cdot$$

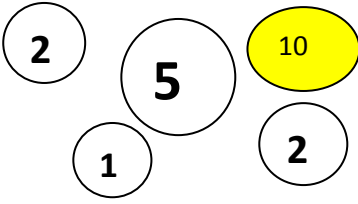
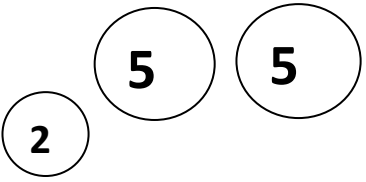
مع 1أ
مع 1ب
مع 2أ

4 أرتب أعداد العملية حسب اختياري :

.....

مع 2ب
مع 2ج

السند بقدمت الأم لكل واحد مبلغاً مالياً :

عفاف	سندس	رفيق
		
13 مي	15ميمي

التعليمة:

أحسب مبلغ رفيق
أحيط بخط معلق مبلغ سندس
أمثل مبلغ عفاف بأقل قطع نقدية

مع 3

السند: أراد كل طفل شراء بسكويتا ب 14مي.

أضع علامة تحت اسم الطفل الذي سيشتري البسكويت

مع 5

عفاف	سندس	رفيق
<input type="checkbox"/>	<input type="checkbox"/>	<input type="checkbox"/>

لأن

مع 5

جدول اسناد الأعداد

مع 5	مع 3	مع 2 ج	مع 2 ب	مع 2 أ	مع 1 ب	مع 1 أ	المعايير
0	0	0	0	0	0	0	(-)
	0,5	0,5	0,5	0,5	1	1	(+)
2	1	1	1	1	2	2	(++)
3	2	1,5	2	1,5	3	3	(+++)