

الاسم اللقب	امتحان الرياضيات الثلاثي الأول س 4 أ ديسمبر 2018	المدرسة الابتدائية مركز والي
		<u>السند 1</u> بمناسبة المولد النبوي الشريف جمع تلاميذ مدرستنا تبرعات للعائلات الفقيرة . جمع تلاميذ السنة الثالثة 42500 أما تلاميذ السنة الرابعة فقد جمعوا 19850 مي . أما تلاميذ السنة الخامسة فقد جمعوا 22700 مي.
	<u>التعليمية 1</u> أمثل المبلغ الذي جمعه تلاميذ السنة الرابعة بأقل ما يمكن من القطع النقدية و الأوراق المالية.	<input type="checkbox"/> مع 3
1	<u>التعليمية 2</u> أبحث عن المبلغ الذي جمعه تلاميذ السنة الثالثة و الرابعة معا و أمثله بأقل ما يمكن من القطع النقدية و الأوراق المالية.	<input type="checkbox"/> مع 1 <input type="checkbox"/> مع 2 <input type="checkbox"/> مع 3
1	<u>التعليمية 3</u> أبحث عن المبلغ الذي جمعه تلاميذ السنوات الثالثة و الرابعة و الخامسة و أمثله.	<input type="checkbox"/> مع 1 <input type="checkbox"/> مع 2 <input type="checkbox"/> مع 3
	<u>السند 2</u> اشترى تلاميذ السنة الثالثة 3 كغ من الزقوقو ب 12700 مي الكغ الواحد . و اشترى تلاميذ السنة الرابعة 4 كغ من الفواكه الجافة ب 3850 مي الكغ الواحد و اشترى تلاميذ السنة الخامسة 6 علب من الحليب ب 1550 مي العلبة الواحدة .	
1	<u>التعليمية 4</u> أحسب المبلغ المتبقي لتلاميذ السنة الثالثة.	<input type="checkbox"/> مع 1 <input type="checkbox"/> مع 2

مكتبة و عطورات مريم
لبيع الوثائق - كتابة النصوص - تصنيع البطاقات
طريق الأهران كلم 7.5 - صفاقس
الهاتف: 97 740 634

مكتبة و عطورات مريم
لبيع الوثائق - كتابة النصوص - تصنيع البطاقات
طريق الأهران كلم 7.5 - صفاقس
الهاتف: 97 740 634

1

التعليمة 5: أحسب المبلغ المتبقي لتلاميذ السنة الرابعة.

1 مع

2 مع

مكتبة وعضوات مريم
نسخ الورائق - كتابة النصوص - نسخ البلاغات
طريق الأفران كلم 7.5 - صفاقس
الهاتف: 97 740 634

1

التعليمة 6: أحسب المبلغ المتبقي لتلاميذ السنة الخامسة.

1 مع

2 مع

1

التعليمة 7: أحسب المبلغ المتبقي لجميع التلاميذ و أمثله بأقل مل يمكن من القطع النقدية و الأوراق المالية.

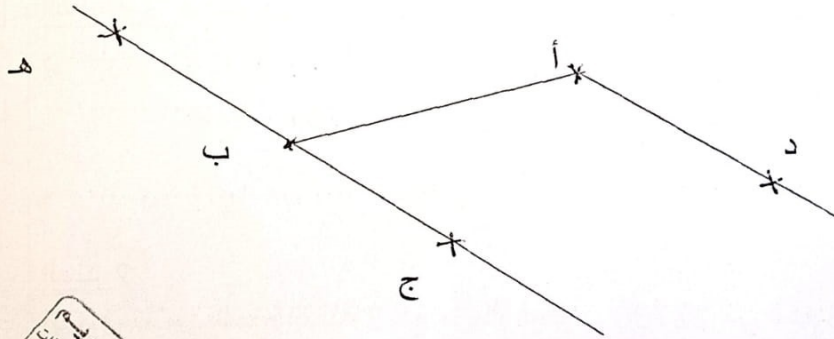
1 مع

2 مع

3 مع

السند 3:

أثناء توزيع الاعانات سلكت الحافلة التي استأجرها التلاميذ الطرقات التالية:



1

التعليمة 8:

أسمي 3 قطع مستقيم.

4 مع

مكتبة وعضوات مريم
نسخ الورائق - كتابة النصوص - نسخ البلاغات
طريق الأفران كلم 7.5 - صفاقس
الهاتف: 97 740 634

1

1	التعليمة 9 : أسمى 3 أنصاف مستقيمت.	مع 4
	التعليمة 10 : أسمى جميع المستقيمت.	مع 4
2	السند 4 : لشراء بعض الحلويات بـ 25600 مي و ملابس بـ 36700 مي ساهم المعلمون بالمبلغ الذي ينقص التلاميذ . أطرح سؤالاً مناسباً للوضعية يتطلب حله انجاز عمليتين.	مع 5 عتبة 1
2	السؤال : الجواب:	مع 5 عتبة 2

جدول اسناد الأعداد

مع 5	مع 4	مع 3	مع 2	مع 1	
0	0	0	0	0	---
2	1	1	1	1	--+
2	2	2	2	2	-++
4	3	3	3	3	+++

المدرسة الابتدائية: مركز والي
المعلمة: نهى الكشو العفاس

امتحان الثلاثي الأول
مادة: الرياضيات

السنة الرابعة
السنة الدراسية: 2018/9

الاسم و اللقب: العدد: 20/

السند 1:

قرّر تلاميذ قسمننا و عددهم 33 القيام بزيارة إلى نادي الفروسية فذهبت المعلمة لتتفق مع صاحب النادي فأقدم لها الأسعار التالية

* فطور الصباح ب7000 مي للتلميذ الواحد

* ركوب الخيل ب7000 مي للتلميذ الواحد

* الكلفة الجمالية لهذه الزيارة (فطور صباح و ركوب الخيل و فطور الغداء) 24 ديناراً

التعليمة 1-1

أحسب الكلفة الجمالية لفطور الصباح بالدينار لكل التلاميذ؟

1 مع

⌋

2 مع

⌋

التعليمة 2-1

أحسب الكلفة الجمالية لركوب الخيل لكل التلاميذ؟

1 مع

⌋

2 مع

⌋

التعليمة 3-1

أحسب ثمن فطور الغداء للتلميذ الواحد

2 مع

التعليمة 1-3

ما هو ثمن المشتريات؟

مكتبة وخطوط مرسومة
نسخ الوثائق - كتابة الصور - نسخ الملاحظات
طريق الأفران كلم 7.5 - سقاية
الهاتف: 97 740 634

المسند 4:

عند الوصول إلى المكان لم تستطع الحافلة المرور في الشارع لأنه ضيق فقررنا إكمال المسافة على الأرجل. قال صديقي تبلغ هذه المسافة 3 م و 9 صم و قالت صديقتي لا بل هي 30 دسم فقال السائق المسافة هي 256 صم و 440 مم

التعليمة 1-4

أحوّل الأطوال إلى الوحدة المطلوبة في كل مرة

3 م و 9 صم = مم

30 دسم = مم

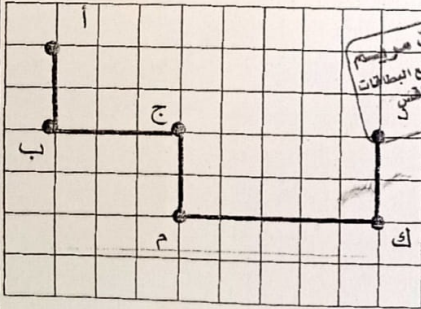
256 صم و 440 مم = م

التعليمة 2-4

أي الطفلين إجابته صحيحة؟ أعلل إجابتي

المسند 5:

في اليوم الموعد انطلقت الحافلة من أمام المدرسة "أ" متجهة إلى النادي متبعة المسلك المرسوم على الشبكة



مكتبة وخطوط مرسومة
نسخ الوثائق - كتابة الصور - نسخ الملاحظات
طريق الأفران كلم 7.5 - سقاية
الهاتف: 97 740 634

التعليمة 1-5: أعتبر عن المسلك:

التعليمة 2-5: أختصره و أعتبر عنه بزوجين فقط

مع 3
لل

مع 3
لل

مع 4
لل

مع 4
لل

التعليمة 3-5: أكتب عمودي أو موازي

(أ ب) (ج م)

(م ج) (ك م)

(د ك) (ج م)

السند 6:

قرّر صاحب النادي منح قسمنا تخفيضا على المبلغ الجملي لكافة فطور الصباح و ركوب الخيل فدفعنا 400 دينار فقط.

أطرح سوالا و أجيب عنه



مع 5

مع 5	مع 4	مع 3	مع 2	مع 1	
0	0	0	0	0	انعدام التملك
2	1,5 1 0,5	1,5 1 0,5	3 2 1	1	دون التملك الأدنى
3	2	2	4	2	التملك الأدنى
5	3 2,5	3 2,5	6 5	3	التملك الأقصى

مدرسة
مركز
والبي

اختبار كثنائي الأول في مادة
الكيمياء
السنة: 2013 ولا 2016
المسئلة: تيسمة الحلواني.

الكيمياء
الكثافة
القيم: 4 ب

السند 1: استعدّد عيّني وعقّاكه كما دتّم لهم للعمل
والحدّد بنسبة حلول موسم جني الزيتون
جني في الفترة الأولى 37 562 كغ من الزيتون
أمّا الفترة الثانية حتى أفلح من الفترة
الأولى ب 10 849 كغ

1.00
0.15
مع 2 ب
0.15

التعليمة 1.1: احسب كمية الزيتون التي جناها
في الفترة الثانية.

التعليمة 1.2: احسب كمية الزيتون التي جناها
في الفترة الثانية.

1.00
0.15

السند 2: باع لصاحب معصرة 15 015 كغ ووزن
12 027 كغ على الأسواق الداخلية

التعليمة 2.1: احسب كمية الزيتون التي باعها
في الحملة

1.00
0.15
مع 2 ب
0.15

التعليمة 2.2: احسب كمية الزيتون العتيقبة

1.00
0.15
مع 2 ب
0.15

السند 3: باع في السوق الأسبوعية كمية من الزيتون
مجموعة في 6 صناديق يجعل الصندوق الواحد 5 كغ
بـ 820 مبي الكغ الواحد

مردج
0,1

التعليمة 1-3: اجث عن ثمن بيع الصناديق الجمالية

مردج
0,1

السند 4: وبيع كمية أخرى مجموعة في 4 كبايس
ثمن الكبايس الواحد بـ 430 15 مبي
التعليمة 1-4: اجث عن ثمن بيع الكبايس

مردج
0,1

مكتبة وخدمات مرجع
لبيع الوثائق - كتابة النصوص - نسخ المطبوعات
طريق الأهران كلم 7.5 - صفائس
الهاتف: 97 740 634

التعليمة 2-4: أمثل ثمن بيع الكبايس بأقل عدد
ممكن من القطع النقدية والأوراق المالية


مردج
1

التعليمة 3-4: كم قبض في الجملة

مردج
0,1

التعليمة 4-4: أمثل المبلغ بـ 3 أوراق مالية و
5 قطع نقدية

مردج
1



السند 5: ذهب جارنا إلى ضيعة عتي واشترى منه
كمية من الزيتون بـ 55 د عند التفتح منحة عتي
نخف بظاهري 4500 مبي
التعليمة 1-5: كم دفع الجار ؟


مردج
0,1

مكتبة وخدمات مرجع
لبيع الوثائق - كتابة النصوص - نسخ المطبوعات
طريق الأهران كلم 7.5 - صفائس
الهاتف: 97 740 634

التعليمة 5.1: أمثل العبلغ بورقة مالية و3 قطع نقدية

عدد 3

1



السند 6: أثناء عودته اشترى جارنا 3 حاجات ثمن الواحدة ب 9520 م وكمية من العسل ب 35 د

التعليمة 6.1: أ طوِّع سؤالاً يتطلب حلماً بنجار عمليتين

عدد 5

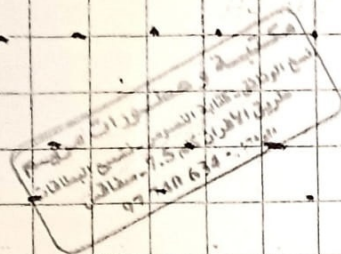
2

السؤال:

الإجابة:

عدد 5

2



السند 7: أثناء تنقل الجار من المنزل "م" إلى الضيعة "ض" اتبع المسلك المرسوم على الشبكة التعليمة 7.1: أعرِّب بالأسماء عن المسلك المرسوم على الشبكة عقدة انطلاق "م" وعقدة الوصول "ض"

عدد 4

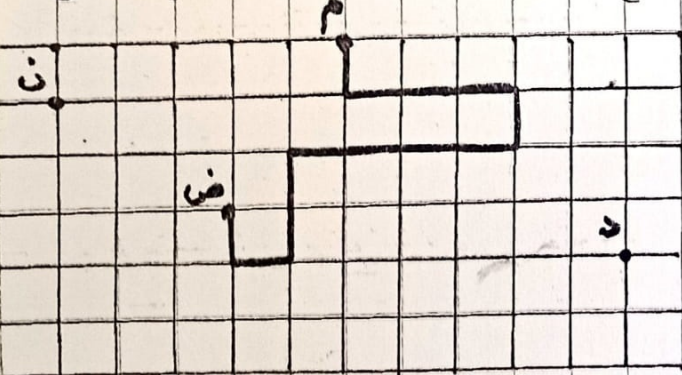
1

التعليمة 7.2: ابحث عن المسلك المختصر ثم عرِّبه على الشبكة

عدد 4

1

التعليمة 7.3: أعين زوج العقدة "د" بالنسبة لـ "م" أعين زوج العقدة "ن" بالنسبة لـ "ض"



د ()


عدد 4

1

ن ()

عدد 4

1



الاسم:
اللقب:

امتحان رياضيات
الثلاثي الأول 14

مركز والي

السند 1: باع تاجر 6 أقمصة بـ 7500 م.
القميص الواحد وسر والاب 19800 م.
1) ما هو ثمن بيع الأقمصة؟

لا
مع 1
لا
مع 2

2) كم قيف في الجملة؟

لا
مع 1
لا
مع 2

3) أمثل المبلغ الذي نحصل عليه التاجر بأقل عدد من الأوراق المائبة والقطع النقدية.

السند 2: بمناسبة عيد ميلادها جمعت
سوسن المبالغ التالية 12500 م.
9800 م و 15750 م.
4) كم جمعت سوسن في الجملة؟

لا
مع 1
لا
مع 2

5) اشترت سوسن من طيبة بـ 18500 م.
كم بقيت عندها؟

لا
مع 1
لا
مع 2

مكتبة و مطبعة
لبيع الرقائق - كتابة النصوص - نسخ البلاستيك
طريق الأفران كلم 7.5 - صفاقس
الهاتف: 97 740 634

السند 3. تُوجّه أبي إلى السوق ويحوز به
 5 د فأشترى 4 شجيرات بـ 6500
 الواحدة وأشهدة بـ 14800
 (6) أبحث عن ثمن الشجيرات

لا
 مع
 لا
 مع

1

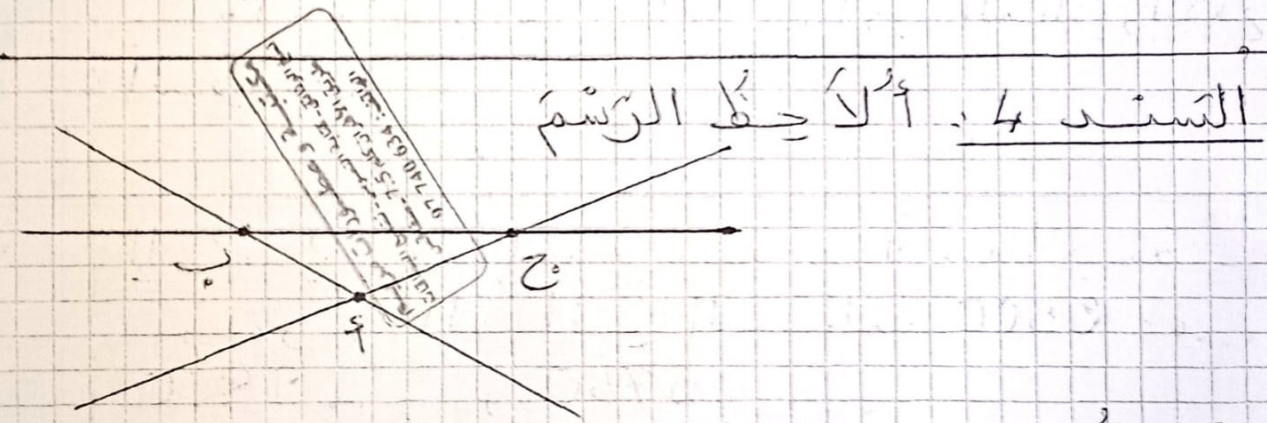
(7) أبحث عن المبلغ المتبقى

لا
 مع
 لا
 مع

2

(8) أمثل المبلغ المتبقى بأقل عدد
 من الأوراق المالية والقطع النقدية

لا
 مع
 لا
 مع



(9) أسمي 3 مستقيمتين

لا
 مع

3

أسمي 3 أنصاف مستقيمتين

لا
 مع

أسمي 3 قطع مستقيمتين

لا
 مع

السند 5: لِجَمِيلٍ 6 مِيدَعَاتٍ اشْتَرَتْ
 خِاطَةَ 4 م مِنَ السَّفِيحَةِ تَتَلَبَّبُ
 مِيدَعَةً وَاحِدَةً دَسَمَ و 15 م م
 مِنَ السَّفِيحَةِ
 10 مَاهُوَ طَوَّلُ السَّفِيحَةِ الْمَتَّبِقَةِ
 بَعْدَ اِتِّمَامِ الْعَمَلِ؟

1.5
3.00

مكتبة وعطورات مريم
 بيع الودائع - كتابة النصوص - نسخ البطاقات
 طريق الأهران كلم 7.5 - سفانس
 الهاتف: 07 741 634

السند 6: حَيْدِيْقَةٌ مَرِيْقَةٌ الشَّكْلِ قَبَسُ
 مَحِيْطَةً 650 م قَامَ مَا حِيْبَهَا
 بِتَسْبِيْحَتَا بِ 4 مَقُوْبٍ مِيْنِ
 الْأَشْلَاقِ الشَّائِكَةِ مَعَ تَرْكِ مَدْخَلِ
 عَرِيْقَةٍ 7 م
 11 أَطْرَحُ سَوَالِدًا مَنَاسِبًا لِلْوَضْعَةِ
 تَتَطَلَّبُ إِلَاجَانَةً عَنْهُ مَرَحَلَتَيْنِ

1.5
3.00
1.5
3.00

1.5
1.5

12 أَجِيبْ عَنِ السُّؤَالِ

5.00	4.00	3.00	2.00	1.00	
0	0	0	0	0	---
1.5	1	1	1	1	---+
1.5	2	1	2	2	-++
3	3	2	4	4	+++

مكتبة وعطورات مريم
 بيع الودائع - كتابة النصوص - نسخ البطاقات
 طريق الأهران كلم 7.5 - سفانس
 الهاتف: 07 741 634

ديسمبر 2015

الإسم واللقب

السند 1 قرّر المعلم وتلاميذه إنجاز مشروع لتربية النحل
فبادروا بجمع الأموال وضبط اللوازم
هذه مساهمة التلاميذ

المتجموعات	عدد المساهمين	المتبلغ الذي ساهم به كل تلميذ
المتجموعة الأولى	7	
المتجموعة الثانية	8	
المتجموعة الثالثة	9	

أحسب مساهمة كل متجموعة

مكتبة وعضوات مربية
اسم الوفاق - كتابة النصوص - تنظيم المطالبات
طريق الأملان كلم 7.5 مطافس
الهاتف: 97 740 634

0,5

معدون

0,5

معدون

0,5

معدون

السند 2 تكلف رضا وقاسم بجمع معلومات حول لوازم
المشروع فزار كل منهما متجرانم قدم لأصدقائه قائمة
في أسعار هذه اللوازم

قائمة قاسم

قائمة رضا

قناع من الأشلاك العسبكية	2900 مبي	قناع من الأشلاك العسبكية	2950 مبي
قناع من الأشلاك العسبكية	1550 مبي	قناع من الأشلاك العسبكية	1450 مبي
قناع من الأشلاك العسبكية	3690 مبي	قناع من الأشلاك العسبكية	3860 مبي

ماهي القائمة الأقل ثمنا ؟

0,5

1,20

0,2

1,20

مكتبة وعضوات مربية
اسم الوفاق - كتابة النصوص - تنظيم المطالبات
طريق الأملان كلم 7.5 مطافس
الهاتف: 97 740 634

ديسمبر 2015

الاسم واللقب

مكتبة وعصا
 شارع البراق - كتابة النسيب - تاسع البطانات
 طريق الاوران رقم 7.5 - مطاقيس
 الهاتف: 97 740 634

0,1 ① - ضِعْفُ 75 =

0,1 ② - نِصْفُ 90 =

0,1 ③ أَفْكَرُ إِلَى الصِّغَةِ الْقَانُونِيَّةِ

= 90763

0,1 ④ أَفْكَرُ إِلَى عَشْرَاتِ الْأَلْفِ كَامِلَةً وَالتَّبَاقِي

= 78364

0,1 ⑤ مَا هُوَ عَدَدُ الصِّمَانِ فِي الْعَدَدِ

← 63053

0,1 ⑥ تَمَلِّكُ عِنْدَ 25 دُ بُرْبُ سِرَاةً لِعَدَدِ 50 دُ

كَمْ يَنْقُصُ

0,1 ⑦ = 9 × 8

مكتبة وعصا
 شارع البراق - كتابة النسيب - تاسع البطانات
 طريق الاوران رقم 7.5 - مطاقيس
 الهاتف: 97 740 634

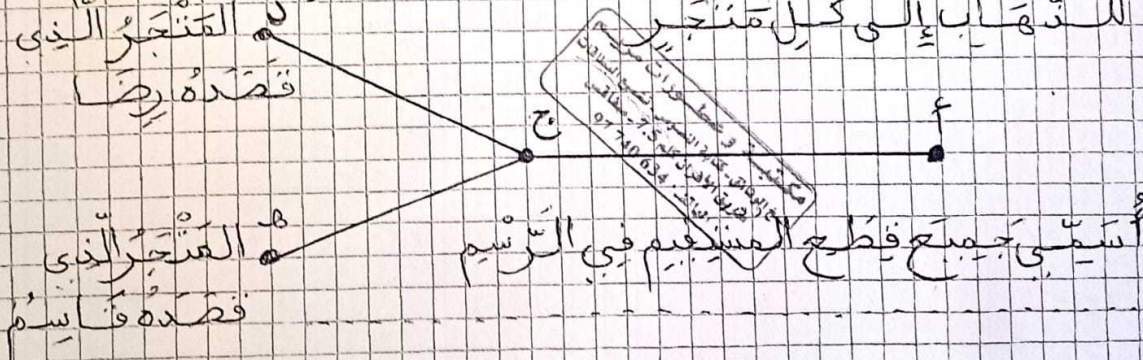
0,1 ⑧ = 5 م و 6 ص

السند 3: قَالَ عِصَامٌ نُمِدَّكَ 13050 صِي يُمَكِّنُ أَنْ تَكُونَ
 اللُّوَارِمَ بِأَقْلٍ تَمَنِّي مُمَكِّنِي لَوْ تَشْتَرِي بَعْضَهَا مِنَ الشَّجَرِ
 الْأَوَّلِ وَالْبَعْضَ الْآخِرَ مِنَ الشَّجَرِ الثَّانِي
 تَرَى كَمْ يَبْنِي لَهُم بَيْنَ الصَّبْحِ وَاللَّيْلِ الَّذِي حَمَعُوهُ فِي
 هَذِهِ الْحَالَةِ؟

السند 4: فَاسَّ تَجَسَّوْكَ مِنَ التَّلَامِيذِ الْبِيوتِ الَّتِي تَسْبِرُوتُونَ
 فِيهَا النَّخْلَ وَهِيَ كَمَا دَبَّقَ خَشِيْبَةً مِنْ صُنْعِهِمْ
 أَتَسَاعِدُهُمْ عَلَى مَعْرِفَةِ أَفْسَسِيْنَهَا بِالصَّمِّ

قَيْسٌ طُولُ الصَّنْدُوقِ (1)	5 دسم و 3 صم =	صم
قَيْسٌ طُولُ الصَّنْدُوقِ (2)	1 م و 2 دسم =	صم
قَيْسٌ طُولُ الصَّنْدُوقِ (3)	1 م و 3 دسم و 5 صم =	صم

السند 5: هَذَا رَسْمٌ لِلطَّرْفِ الَّتِي قَطَعَهَا رِضًا وَقَاسِمٌ
 لِلشَّهَابِ إِلَى كُلِّ مَشْجَرٍ



أَسْتَحْسِنُ الْمَعْلَمَ مَا قَامَ بِهِ تَلَامِيذُهُ فَمَدَّهُمْ
 بِوَقْفِهِ نَقْدِيَّةً تَأْتِ 10 د لَشْرَاءِ الْأَدْوَاتِ الْأَزْمِيَّةِ
 لِأَسْتَخْرَاجِ الْعَسَلِ
 هَذَا جَدْوَلُ الْأَدْوَاتِ وَتَمَنِّيْهَا

الأدوات	ثمنها
الميكسج	2500 م
القرآن	5000 م
المصق	3500 م

كَمْ يَبْقَى لَهُمْ أَوْ كَمْ يَنْفُسُهُمْ لِشِرَاءِ هَذِهِ الْأَدَوَاتِ؟

0,5

1,5

0,7

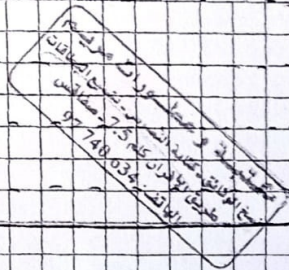
1,2

0,7

3,2

السؤال 6: قَرَّرَ الْأَطْفَالُ شِرَاءَ 4 مَجْمُوعَاتٍ تَحْتِ كُلِّ مَجْمُوعَةٍ تَحْتَوِي 3 أَنْوَاعِ النَّجَلَاتِ الْعَامِلَاتِ بِ 3000 مِي دُكُورِ النَّجَلِ بِ 1580 مِي الْقَلَكَةُ بِ 5000 مِي

أَكْتُبْ سَوَائِلَ مِمَّا يَسْبِقُ لِمُعْطِيَاتِ هَذِهِ الْمَسْأَلَةِ
يَبْتَطَلُ كُلٌّ مِنْهَا إِذَا جَاءَ عَمَلِيَّةً وَاحِدَةً
السؤال الأول
السؤال الثاني



م 4	م 3	م 2	م 1	م 2	م 3	م 1
ع 1 - 2	0	0	0	0	0	0
ع 2 - 2	0,5	1	1	0,5	0,5	0,5
ع 2 - 2	1	2	2	1	1	1
4	1,5	3	3	1,5	1,5	1,5

المدرسة الابتدائية
مركز والي

تقييم مكنتسيات التلاميذ في نهاية الثلاثي الأول

رياضيات

ديسمبر 2014

السنة الدراسية
2015 / 2014

الاسم:

اللقب:

السنة الرابعة ب

السند 1: بمناسبة عيد ميلاد الأم، اتفق الابناء وليد، أكرم وبشينة على القيام بحفل وشراء بعض الهدايا. كسر كل واحد حصالة فكانت المبالغ كالتالي:

مكتسية وعضورات مريم
نسخ الوثائق - كتابة النصوص - نسخ البطاقات
طريق الأفران كلم 7.5 - ضفاف
الهاتف: 97 740 634

وليد	أكرم	بشينة
	10 د	10 د 10 د 5 د 5 د
		1 د 1 د 1 د 1 د 2 د 20 د 100 د
36875 بي	28840 بي بي

تعليمية 1-1: أمثل المبلغ الذي يملكه وليد.

تعليمية 2-1: أتم تعبيل المبلغ الذي يملكه أكرم.

تعليمية 3-1: أبحث عن المبلغ التي تملكه بشينة.

السند 2: اقتنى وليد 6 اشربة زيتية ب 3620 بي الواحد ومجموعه
بالونات ب 5940 بي.

تعليمية 1-2: ما هو ثمن مقننات وليد؟

مكتسية وعضورات مريم
نسخ الوثائق - كتابة النصوص - نسخ البطاقات
طريق الأفران كلم 7.5 - ضفاف
الهاتف: 97 740 634


تعليمية 2-2: كم بقي له؟

السند 3: استعمل أكرم نصف المبلغ لشراء مرطبة واشترى أيضا

شموعا ب 4750 بي

تعليمية 1-3: ما هو ثمن المرطبة؟

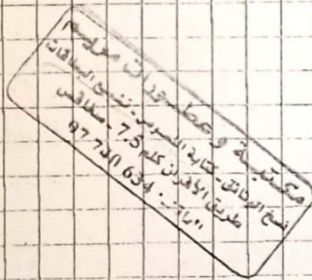
تعليمية 2-3 : ماهو ثمن مشتريات أكرم ؟



تعليمية 3-3 كم بقي لأكرم ؟

السند 4 : أما بثينة فقد اشترت 5 قوارير مشروبات غازية بـ 2635
الواحدة و مجموعة أكواب بـ 7400 بي
تعليمية 1-4 : ماهو ثمن المشروبات الغازية ؟

تعليمية 2-4 ماهو ثمن مشتريات بثينة ؟

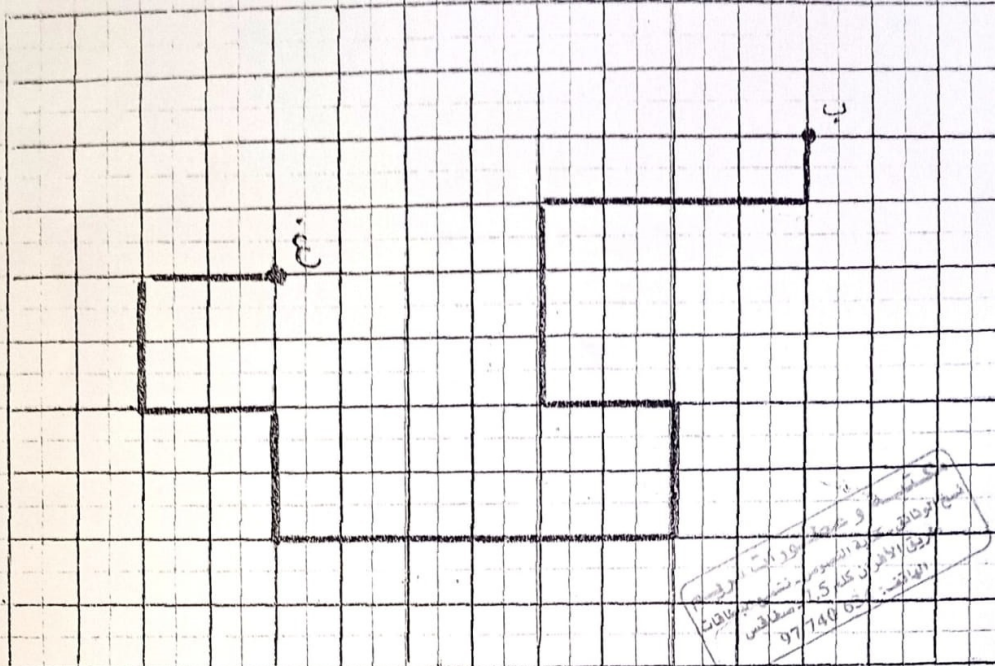


تعليمية 3-4 كم يبقى لبثينة ؟

السند 5 : جمع الأطفال ما تبقى لديهم وانفقوا على شراء هدية
لأمهم بـ 25800 بي
اطرح سؤالاً للوضعية وأجيب عنه

السؤال:

الجواب:



مجلس التعليم العالي
 وزارة التربية والتعليم
 دمشق - سورية
 رقم الاذن على 5
 الهاتف: 9774066

السند 6: خرج الأطفال من بيتهم (ب) وذهبوا في البداية إلى المغارة (ع)
 ثم التفتوا إلى محل بيع المربطيات (م)
 أقام كل المسلك الذي يربط بين البيت (ب) والمغارة (ع)
 أمبر عنه بالاسهم:

أختصره:

يقع محل بيع المربطيات (م) ← 4 ← بداية من البيت (ب)
 أحده على الشبكة.

مبار التغير	معايير الحد الأدنى					
5	4	3	2	1	0	0
ع	1	0	0	0	0	0
	0.5	1	0.5	0.5	0.5	1
ع	ع	1	ع	1	1	ع
	1.5	3	1.5	1.5	1.5	3

الاسم:
اللقب:

امتحان رياضيات
أ 4
2014

مركز والي
الثلثي الأول

السند 1: اشترت أمي 6 صُحُوفَ بِدَ 3500
الصُحُفَ الْوَاحِدَ وَتَلَاعَقَ بِدَ 400 = 8
التعليمة 1: أبحث عن ثمن الصُحُوفِ

لا
مع 1

مكتبة وعطورات بروم
نسخ الوثائق - كتابة النصوص - تجميع البطاقات
طريق الأفران كلم 7.5 - صفاء
الهاتف: 97 740 634

لا
مع 2

التعليمة 2: أبحث عن ثمن المشتريات

1

لا
مع 2

التعليمة 3: أمثل ثمن المشتريات
بأقل عددٍ مِنَ الْأَوْزُقِ الْبَالِغِ وَالْقِطْعِ
النَّقْدِيَّةِ.

1

لا
مع 3

السند 2: جمع سامي مئتين وخمسة عشر مِلاِدِه
المبلغ الثالِثَ، 11500 بي 15 دز 7500 بي
التعليمة 3: أبحث عن المبلغ الذي
جمعه سامي

1

مكتبة وعطورات بروم
نسخ الوثائق - كتابة النصوص - تجميع البطاقات
طريق الأفران كلم 7.5 - صفاء
الهاتف: 97 740 634

لا
مع 4

التعليمة 4: أنفق سامي 18600 بي
كم بقي له؟

1

لا
مع 4

السند 3، يَوْمَ الحَقْلِ، اشْتَرَتْ الأُمُّ
 مَرطِبَةً بِـ 12500 مِ و 5 قَوَارِيرَ مَشْرُوبَاتٍ
 غَائِبَةً بِـ 1650 مِمَّا مِنَ القَارُورَةِ الوَاحِدَةِ
 وَحَلَوَى تَمَنُّهَا أَقْلٌ مِنْ تَمَنِّي
 المَرطِبَةِ بِـ 3500 مِمَّا
 التعلیمة 5، مَا هُوَ تَمَنِّي قَوَارِيرَ
 المَشْرُوبَاتِ الغَائِبَةِ؟

مكتبة وعضوية كتاب النور - دمشق
 شارع الأوقاف - رقم 75 - هاتف 97 740 034

1

لا
 مع 1
 لا
 مع 2

التعلیمة 6، مَا هُوَ تَمَنِّي الحَلَوَى؟

1

لا
 مع 1
 لا
 مع 2

التعلیمة 7، مَا هُوَ تَمَنِّي المَشْرُوبَاتِ؟

0,15

لا
 مع 2

التعلیمة 8، أَمْتَلِ تَمَنِّي المَشْرُوبَاتِ
 بِأَقْلٍ عَدَدٍ مِنْ الأُوقافِ المَالِيَةِ
 وَالقَطْعِ التَّقْدِيمِ.

0,15

لا
 مع 2

السند 4، لِلذُّمَابِ إِلَى المَعَارَةِ اثْبَعَتِ الأُمُّ
 المَسْئَلَةَ التَّالِيَةَ

1



التعلیمة 9، ارسم هَذَا المَسْئَلَةَ
 عَلَى الشَّبَكَةِ وَعَيِّنِ النُّقْطَةَ
 (ع) التَّالِيَةَ تَمَثُّلَ المَعَارَةِ.

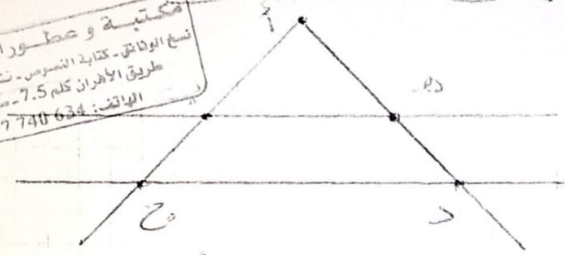
لا
 مع 4

مكتبة وعضوية كتاب النور - دمشق
 شارع الأوقاف - رقم 75 - هاتف 97 740 034

التعليمة 10: حدّد بزوج من الأعداد مَوْجَع الفَقْدَة "ع" بالنسبة لـ "م"

السند 5: لتربس القيدية زببت الأم السكّل التالي:

مكتبة وعضوات مريم
نسخ الوثائق - كتابة النصوص - نسخ البطاقات
طريق الأهران كلم 7.5 - صفاقس
الهاتف: 97 740 634



التعليمة 11: أعبّر الجدول حسب المطلوب

1	جميع المُستقيمات	نمقي مُستقيم	قِطعتي مُستقيم	11
1				4
4				

السند 6: توجّه الأب إلى السّاعة ويحوّزها 72 هـ فأشترى خبزا بـ 13500 هـم ولاحقا وبقي له 6500 هـم
التعليمة 12: أخرج سؤالاً يتطلّب حله
إنّجان عليلين

التعليمة 13: أجب عن السؤال

5	4	3	2	1	
0	0	0	0	0	---
1	2	0,5	2	0,5	--+
2	2	0,5	2	0,5	--++
3	5	1,5	5	1,5	+++

مكتبة وعضوات مريم
نسخ الوثائق - كتابة النصوص - نسخ البطاقات
طريق الأهران كلم 7.5 - صفاقس
الهاتف: 97 740 634