

الاسم:..... اللقب:.....	تقييم مكتسبات المتعلمين بداية السنة في مادة الرياضيات	المدرسة:..... السنة الرابعة
----------------------------	---	--------------------------------

السند 1:

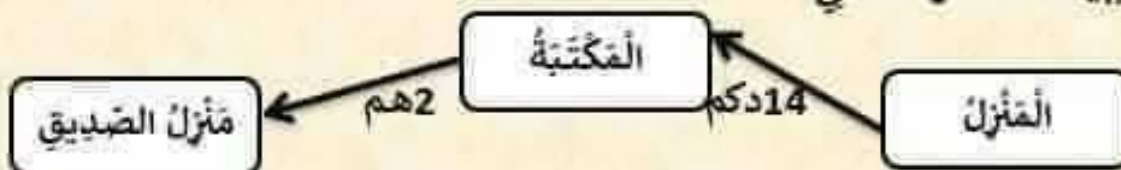
كَسَّرَ مُحَمَّدٌ وَابْتِسَامٌ وَحَسَنَاءُ حَصَالَاتِهِمْ وَهَذِهِ مَدَّخِرَاتُ كُلِّ مِنْهُمْ.

حسناء	ابتسام	محمد
		
4000 م	4570 م م

معاً
لأ

- التعليمة 1-1: أَحْسَبُ مَدَّخِرَاتِ مُحَمَّدٍ بِالْمَلِيمِ.
التعليمة 2-1: أَكْمَلُ بِأَقْلٍ عَدَدٍ مُمَكِّنٍ مِنَ الْقِطْعِ النَّقْدِيَّةِ مَا تَمَلِكُهُ حَسَنَاءُ.
التعليمة 3-1: أَرْسُمُ الْقِطْعَ النَّقْدِيَّةَ الَّتِي تُمَثِّلُ مَدَّخِرَاتِ ابْتِسَامِ.

السند 2: تَوَجَّهَ الْأَطْفَالُ مِنَ الْمَنْزِلِ إِلَى الْمَكْتَبَةِ ثُمَّ إِلَى مَنْزِلِ صَدِيقِهِمْ كَمَا يُبَيِّنُهُ الْجَدْوَلُ التَّالِي:



أ) أَحْوَلُ إِلَى الْمِترِ

مع3ب

14 دكم = م

لانا

2 هم = م

ب) أَحْسَبُ الْمَسَافَةَ الْمَقْطُوعَةَ مِنْ الْمَنْزِلِ إِلَى مَنْزِلِ الصَّدِيقِ مُرُورًا
بِالْمَكْتَبَةِ بِحِسَابِ الْمِترِ ثُمَّ بِحِسَابِ الدِّيكَامِترِ.

..... = م

السند3: شَرَى مُحَمَّدٌ لِصَدِيقِهِ 3 قِصَصٍ بِ600 مِي الْقِصَّةِ الْوَاحِدَةِ .

مع2ج

التعلیمة1-3: أبحثُ عَنْ ثَمَنِ الْقِصَصِ

لا

.....

مع1

التعلیمة2-3: أبحثُ عَنْ الْمَبْلَغِ الْمَتَبَقِيِّ لِ مُحَمَّدٍ.

لا

.....

مع2ب

لا

السند4: أَمَا ابْتِيسَامٌ فَقَدْ شَرَتْ 4 كُرَاسَاتٍ بِ 460 مِي الْكُرَاسِ الْوَاحِدِ وَأُورَاقًا

مُلَوَّنَةً بِ 230 مِي.

مع1

لا

التعلیمة1-4: أَحْسَبُ ثَمَنَ الْكُرَاسَاتِ.

مع2ج

.....

لا

التعلیمة2-4: أَحْسَبُ ثَمَنَ مُشْتَرِيَاتِ ابْتِيسَامِ.

مع2أ

.....

لا

التعلیمة3-4: أبحثُ عَنْ الْمَبْلَغِ الْمَتَبَقِيِّ لِابْتِيسَامِ.

مع2ب

.....

لا

السند5: وَشَرَتْ حَسَنَاءُ 5 أَقْلَامٍ بِ 265 مِ الْقَلَمِ الْوَاحِدِ وَخَافِظَةُ أَقْلَامٍ

تَمَنُّهَا يَفُوقُ تَمَنِّ الْأَقْلَامِ بِ 290 مِ.

التعليمية 5-1: أَحْسَبُ تَمَنِّ الْأَقْلَامِ.

التعليمية 5-2: أَحْسَبُ تَمَنِّ خَافِظَةَ الْأَقْلَامِ.


التعليمية 5-3: أَحْسَبُ تَمَنِّ مُشَارَاتِ حَسَنَاءُ.

التعليمية 5-4: أَحْسَبُ الْمَبْلَغِ الْمُتَبَقَّى لِحَسَنَاءُ.

السند6:

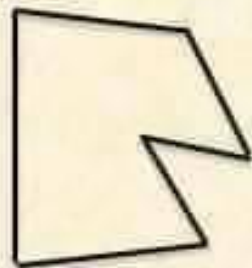
مَرَّ الْأَطْفَالُ أَثْنَاءَ التَّوَجُّهِ إِلَى مَنَزْلِ صَدِيقِهِمْ بِهَذِهِ الْحَدَائِقِ الثَّلَاثَةِ.

الحديقة 3




31م

الحديقة 2



35م

الحديقة 1



28م

التعليمية 6-1: أَحْسَبُ قَيْسِ مَحِيطِ الْحَدِيقَةِ 1.

التعليمية 6-2: أَحْسَبُ قَيْسِ مَحِيطِ الْحَدِيقَةِ 3.

معج

لا

مع1

لا

مع2أ

لا

مع2أ

لا

مع2ب

لا

مع4

لا لا

التعليمة 3-6: احدد زاوية منفرجة في الحديقة 3 والونها.

السند 7: رغب الأطفال في شراء محفظة لصديقيهم ثمنها 5400 م بما بقي لهم.

التعليمة 1-7: امتاز السؤال الذي يتطلب الإجابة عنه مرحلتين.

السؤال:

مع

التعليمة 2-7: اجيب عن السؤال.

لا

.....
.....
.....
.....
.....

حساب ذهني	5مع	4مع	3مع	3مع	2مع	2مع	1مع	1مع	
		0	0	0	0	0	0	0	---
		1	0.5	0.5	0.5	0.5	0.5	0.5	--+
		2	1	1	1	1	1	1	-++
4	4	3	1.5	1.5	1.5	1.5	1.5	1.5	+++