


حساب ذهني - الثلاثي الثاني

سنة أولى

الحساب الذهني

السنة الأولى


1- أَحْسَبُكُمْ لِكُلِّ مَجْمُوعَةٍ:



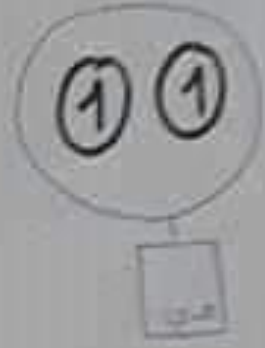
2- أُحِيطُ مَجْمُوعَةً عَدَدُهَا 8:



3- أَرْسُمُ نِقَاطًا عَلَى قَدْرِ الْعَدَدِ الْعَكُوبِ



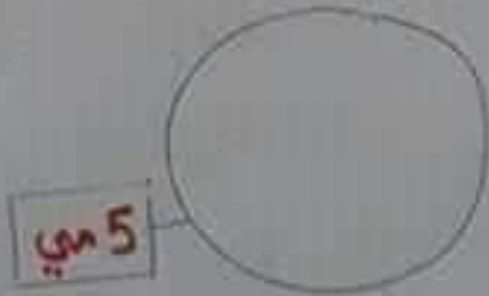
## 5- أَحْسَبُ الْمَبَالِغَ التَّالِيَةَ :



6 \* أُقْبِلُ **5 مِي** بِأَقْلٍ مَا يُعِينُ  
مِنَ الْقِطْعِ :



\* أُقْبِلُ **5 مِي** بِأَكْثَرِ مَا يُعِينُ  
مِنَ الْقِطْعِ :



# 4- أوّصل العدّ:

9 - - - - - 0

9 - - - - - 5

8 - - - - - 2 - 0

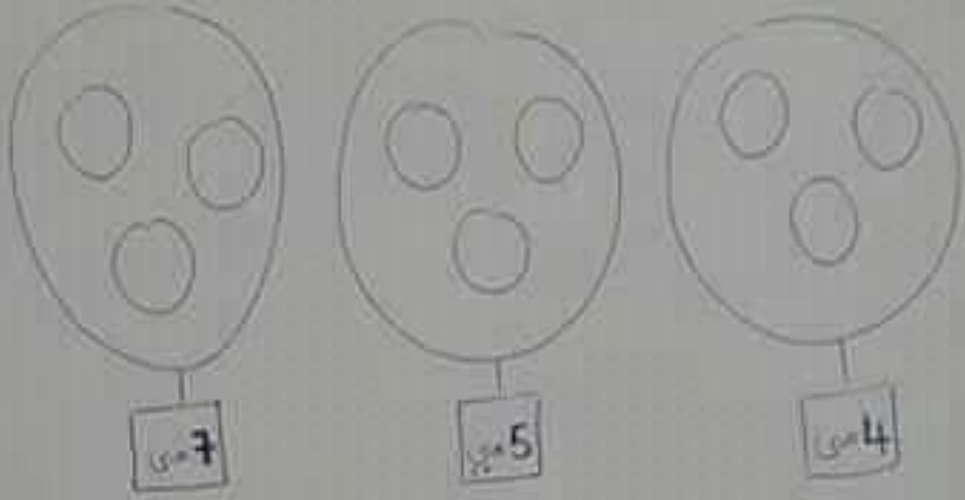
- - - - - 3 - 0

1 - - - - - 8 - 9

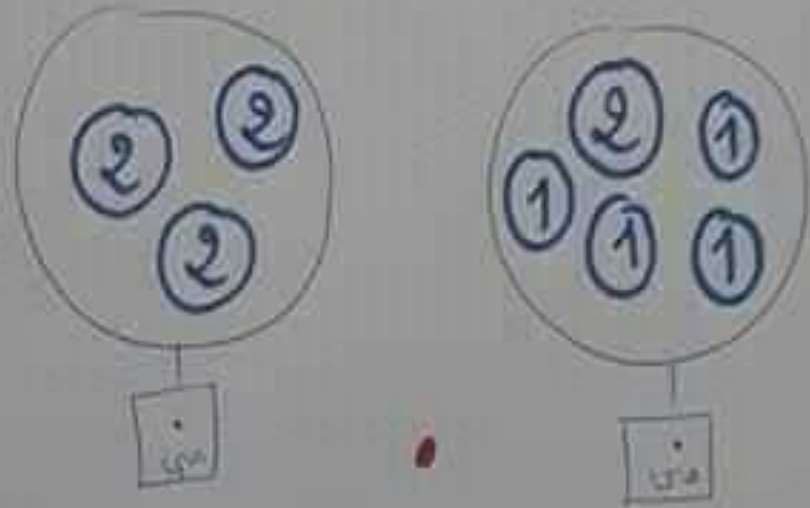
0 - - - - - 6 - 8

0 - - - - - 4 - 5

7- أمثل المقايح التالية :



8- أحسب الصلغتين وأقارن فيما بينهما :



9. أَقَارِنُ بِأَسْتَعْمَالِ (<, >, =)

2	.	9		4	.	0		6	.	5
5	.	8		3	.	6		2	.	1
9	.	9		4	.	4		1	.	3

10. أَكْتُبُ الْعَدَدَ الْمُنَاقِصَ :

.	= 8		2 <		.	> 8
.	> 6		3 >		.	> 5
.	= 1		7 <		.	7 =

11. أَكْتُبُ الْعَدَدَ الَّذِي يَلْبِغُ مُبَاشَرَةً  
وَالَّذِي نَلِيهِ مُبَاشَرَةً :

.	> 3	>		.	> 5	>		.	> 7	>
.	> 1	>		.	> 8	>		.	> 2	>

\* أرتب الأعداد التالية تنازليًا ↓ :

1 - 7 - 4 - 9 - 5

\* أرتب الأعداد التالية تصاعديًا ↗ :

3 - 5 - 1 - 2 - 8

\* أو امل الخد :


تنازليًا ↓

تصاعديًا ↗

رَتِّبِ الأَعْدَادَ التَّالِيَةَ تَمَاعُديًا =

7 - 9 - 8 - 2 - 6


9raya.tn



موقع

رَتِّبِ الأَعْدَادَ التَّالِيَةَ تَمَاعُديًا =

7 - 9 - 8 - 2 - 6



9raya.tn



موقع