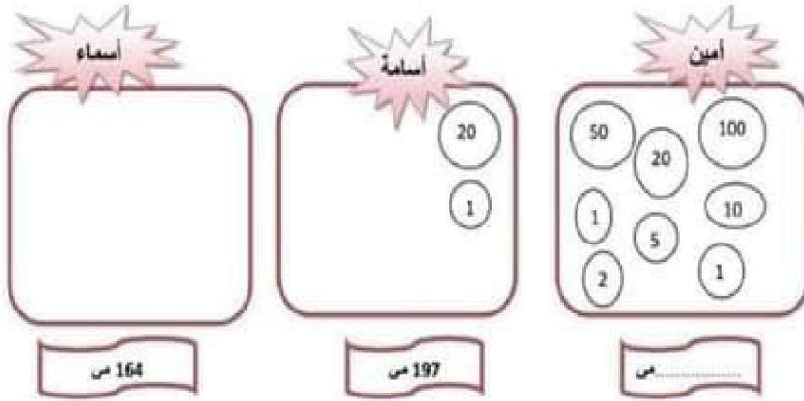


### الوضعية 1 :

السند 1 : كافر الاب ابتداء لتفوقهم في الدراسة فاعطاهم المبالغ المالية التالية




التعليمة 1 : احسب نقود امين

التعليمة 2 : اكمل تمثيل المبلغ الذي يملكه اسامة

التعليمة 3 : امثل المبلغ الذي تملكه أسماء بالقل عدد من القطع النقدية

السند 2 : قصد الاطفال المتجر القريب من المنزل لشراء بعض الحاجيات



\* اشترى امين غنية باغورت بـ 110 م و خلوى بـ 52 م

التعليمة 1 : ماهو ثمن مشتريات امين؟

التعليمة 2 : كم بقي له ؟

\* اشترى اسامة عصير بـ 50 م و شكلاطة بـ 100 م

التعليمة 3 : كم دفع اسامة؟

تمارين مراجعة رياضيات سنة ثانية ثلاثي 2 اعداد سناء الزاوش

الوضعية:

السند 1

خرج الاعداء الثلاثة احمد و وفاء و هشام يتجولون في الحديقة العمومية وبعد ذلك توجهوا نحو بائع المشروبات و الحلويات.

\* اخرج احمد حافظة نقوده فوجد فيها :



..... م.

التعليمة 1-1: احسب المبلغ الذي وجده احمد في حافظة نقوده :

\* ووجد في جيبه 185 م.

التعليمة 2-1: املأ المبلغ المالي 185 م بخمس قطع نقدية :



التعليمة 3-1: احسب المبلغ المالي الذي يملكه احمد بالمى

يملك احمد .....

السند 2: تملك وفاء 475 م.

التعليمة 1-2: املأ المبلغ الذي تملكه وفاء:

السند 3 اشترى احمد كأس عصير بترتال ب 250 م وقطعة مرطبات ب 175 م.

التعليمة 1-3: ماهو المبلغ الذي دفعه احمد لبائع المرطبات بالمى؟

الوضعية 4:

مزيم وعمر وشيماء ثلاثة أطفال يحبون أمهم كثيرا. فكر كل واحد منهم في شراء هدية يقدمها لها ويقاسمها بها يزم جيد الأمهات.

السند 1:

كشرت مزيم حصلتها فوجدت فيها هذه القطع النقدية:



التعليمة 1: أخصب نقود مزيم وأكتب مقدارها في الألف.

السند 2:


فرز الأطفال أن تكون هدية كل واحد منهم مفاجأة لأخر فالتجته مزيم إلى المغارة سالكة طريقا مستقيمة

التعليمة 2: أمتلئ الطريق بين منزل الإخوة والمغارة بخط مستقيم:

المنزل \* \* المغارة

السند 3: اشترت مزيم من المغارة قبلاة بـ 105 م و امرأة صغيرة بـ 47 م.

التعليمة 1-3: أخصب ثمن الهدية:



التعليمة 2-3: أخصب المبلغ المتبقى لمزيم:



السند 4:

أما عمر فقد كسرت حصلتها وعد نقودا فوجد 189 م

التعليمة 4: أمتلئ نقود عمر بالقطع النقدية داخل الإطار:



تعاريف مراجعة رياضيات سنة ثانية، ثلاثي 2 اعداد سناء الزاوش

التعليمة 4-2: ماهو المبلغ الذي بقي لأبيس؟

التعليمة 5-2: كم دفع مازن للتاجر؟

التعليمة 6-2: ماهو المبلغ الذي بقي لمامن؟

السند الثالث: بقي للأطفال الثلاثة 192 سي. فأرادوا شراء موزة بـ 205 سي لأن القردة تحب أكل الموز كثيرا.

التعليمة 1-3: اقرأ الأسئلة التالية و أضع العلامة (X) امام ما يناسب الوضعية:

- ماهو ثمن الموزة؟ ( )

- هل يمكن للأطفال شراء الموزة؟ ( )

- كم بقي للأطفال الثلاثة معا؟ ( )

التعليمة 2-3: أجب عن السؤال الذي اخترته:

السند الرابع: أثناء تجولهم بين الأقباص لاحظ الأطفال وجود أشكال حديثة مختلفة على واجهة الأقباص كما هو مبين بالرسم:

التعليمة 1-4: أذكر نوع المضلع الأول والمضلع الثاني و أرسم المضلع الثالث

خماسي الأضلاع

تعاريف مراجعة رياضيات سنة ثالثة. ثلاثي 2 اعداد سناء الزاوش

## الوضعية 2:

السند 1 : بعد عطلة الثلاثي الاول عدنا الى المدرسة بكل نشاط و حيوية. يضم قسما 17 ولدا و عدد من البنات يقل عن الاولاد ب 6

التعليمية 1: احسب عدد البنات

التعليمية 2: احسب عدد التلاميذ في القسم

التعليمية 3: ارتب الاعداد تصاعديا

السند 2 : تغيب صديقنا مراد عن الدرس لانه مريض .. فقررنا زيارته و الاطمئنان على صحته و شراء هدايا له

\* هذه نقود كل من احمد و نور و لينة

 	 	 
147 مر	183 مر	..... مر

التعليمية 1 : احسب نقود احمد

التعليمية 2: اكمل تمثيل المبلغ الذي تملكه نور

التعليمية 3: امثل المبلغ الذي تملكه لينة بالعدد من القطع النقدية



تمارين مراجعة رياضيات سنة ثانية- ثلاثي 2 اعداد سناء الزاوش

\* اشترى احمد قصتان ب 77 سي الواحدة

التعليمة 4 : ماهو ثمن مشتريتك احمد؟

التعليمة 5 : كم بقي له ؟


\* اشترت نور باقة ورد ب 152 سي

التعليمة 6 : احسب المبلغ الذي بقي عند نور

\* اما لينة فقد اشترت له مرطبة ب 93 سي و شكلاطة ب 42 سي

التعليمة 7 : احسب ثمن مشتريتك لينة

التعليمة 8 : ماهو المبلغ الذي بقي للينة؟

 **السند:** في طريق العودة من منزل صديقهم . شاهد الاطفال ولدا صغيرا يبكي لانه اضاع نقوده في غلظة منه و هو يريد شراء حلوى ب 46 سي.. لجمع الصغار ما بقي لهم من نقود و اعطوها للولد

التعليمة 1 : احسب جملة المبلغ المتبقى لدى الاطفال

التعليمة 2 : هل تكفي النقود لشراء الحلوى للولد المسكين

لان.....

تمارين مراجعة رياضيات سنة ثانية ثلاثي 2 اعداد سناء الزاوش

التعليمة 2-3 : ماهو المبلغ الذي بقي لأحمد بالمي؟

السند 4 : اشترت وفاء مرطبة ب255سي و كأس عصير ب185سي .

التعليمة 1-4 : احسب ثمن ما اشترته وفاء بالمي :

التعليمة 2-4 : احسب المبلغ المتبقى لوفاء بالمي ؟

السند 5 : كان مع هشام 440سي فاشترى علية بسكويت ب300سي

التعليمة 1-5 : احسب المبلغ المتبقى لهشام بالمي :

التعليمة 2-5 : هل يمكن لهشام شراء علية شكلاطة ثمنها 180سي

بما تبقى لديه من نقود ؟ (اشطب الخطأ)

لا

نعم

\* اطل لجابتي .

السند 6 : افترق الأطفال الثلاثة وأخذ كل واحد طريقه إلى منزله . فسلك أحمد طريقه حسب خط ملحن  
و سلكت وفاء طريقها حسب خط مستقيم . و سلك هشام طريقه حسب خط منكسر

اعداد سناء الزاوش

سنة ثانية- ثلاثي 2

تعارين مراجعة رياضيات

التعليمة 4: ماهو المبلغ الذي بقي لأسامة؟

\* اشترت اسامة حلوى بـ 38 م. و شكلاطة بـ 116 م.

التعليمة 1: ماهو ثمن مشتريات أسماء؟

التعليمة 2: كم ارجع لها البائع؟



المسند 3: جمع الصغار ما تبقى لديهم من نقود لشراء مرطبة هدية لامهم بـ 73 م.

التعليمة 1: أحسب جملة المبلغ المتبقي للأطفال الثلاثة معا:

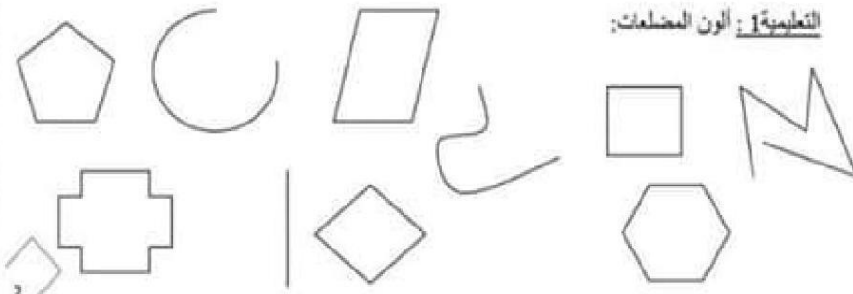
التعليمة 2: اقرأ الأسئلة التالية و أضع العلامة (X) أمام ما يناسب الوضعية:

- ماهو ثمن الهدية؟
- هل يمكن للأطفال شراء الهدية؟
- كم يملك الأطفال الثلاثة معا؟

التعليمة 3: أجب عن السؤال الذي اخترته

المسند 4: شاهد الأطفال على واجهة المحل عدة اشكال و رسومات

التعليمة 1: ألون المضلعات:



2