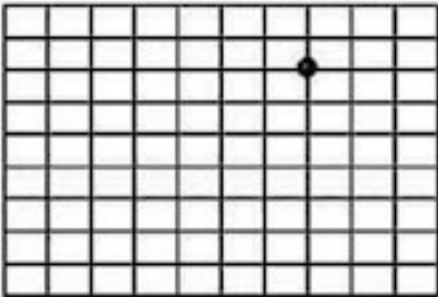
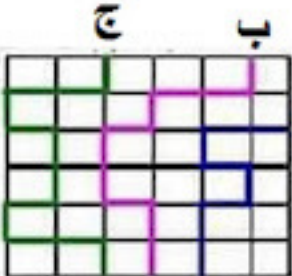
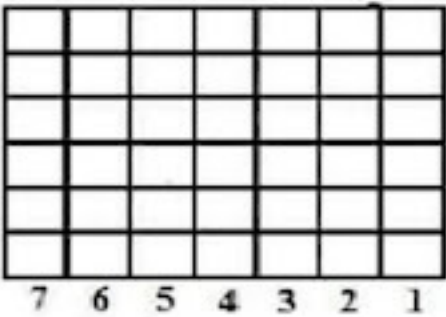



الرياضيات	الشبكة- العقدة- التريبعة- الخطوة- المسلك	وزارة التربية المدربية الجهوية للتربية بسوسة دائرة سوسة 3 اللغة العربية
-----------	--	---

4

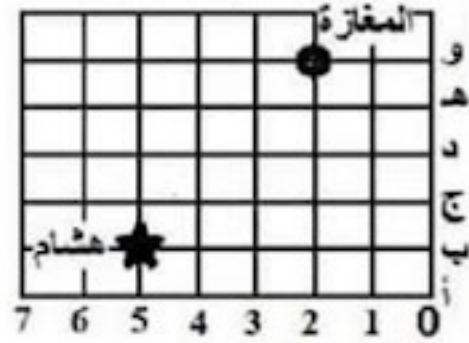
<p>* ستذهب فاطمة إلى المغازة انطلاقا من العقدة على الشبكة حسب الخطوات التالية:</p> <p>↓ ↓ ← ← ← ↓ ↓ ↓</p>  <p>- أحدد موقع المغازة على الشبكة. - أرسم باللون الأخضر مسلكا مكافئا له. - أعبر عن هذا المسلك المرسوم بالسهم.</p>	<p>1م</p>
 <p>أتمثل كل مسلك مرسوم بالمتنهام</p> <p>.....</p> <p>.....</p> <p>.....</p>	<p>2م</p>
 <p>* أرسم طفلا في التريبعة (1، ج) * أرسم شجرة في التريبعة (4، هـ) * أرسم زهرة في التريبعة (7، د)</p>	<p>3م</p>

أكتب زوج كل عقدة محددة على الشبكة :



م-2-1

* ذهب هشام إلى المغارة متبعًا مسلكًا.
أرسم على الشبكة مسلكًا يوصل الولد إلى المغارة .



م-2-2

أمثل المسلك بالمتنهام:

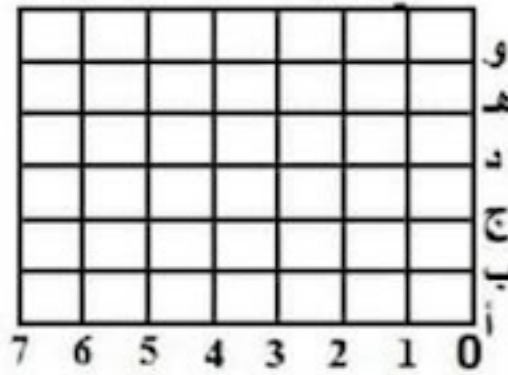
* أعين على الشبكة العقد التالية:

ن (8, هـ)

ك (1, ب)

س (4, و)

ص (5, ج)



م-2-3