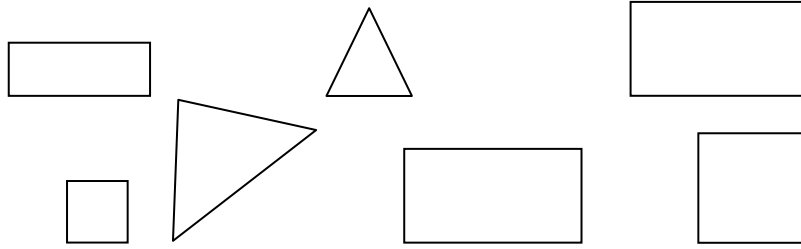


التاريخ :

الرياضيات

1- ألون الأشكال المتشابهة بنفس اللون


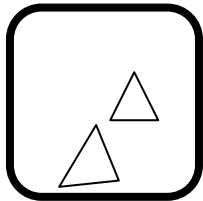


2- ألون السيارة الأولى باللون الأحمر و السيارة الأخيرة باللون الأصفر



3- أكتب بالأرقام عدد عناصر كل مجموعة

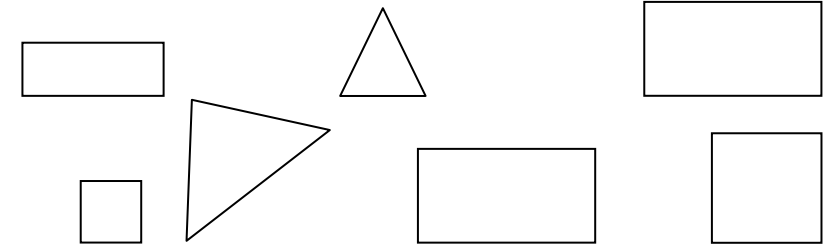
وقفكم الله



التاريخ :

الرياضيات

1- ألون الأشكال المتشابهة بنفس اللون



2- ألون السيارة الأولى باللون الأحمر و السيارة الأخيرة باللون الأصفر



3- أكتب بالأرقام عدد عناصر كل مجموعة

وقفكم الله

