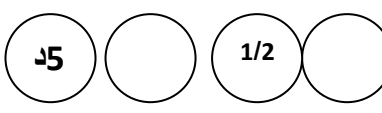
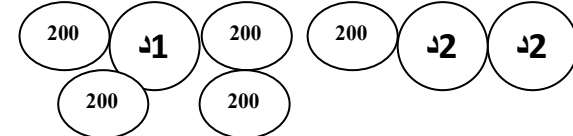


يملك الأطفال الثلاثة المبالغ المالية التالية:

سمير 8000مي	ريمة.....	أحمد: 5450مي
		

أرتب المبالغ ترتيبا تنازليا :
قصد الأطفال المكتبة فاشترى أحمد قصة بـ 3870مي.

سأبحث عن :

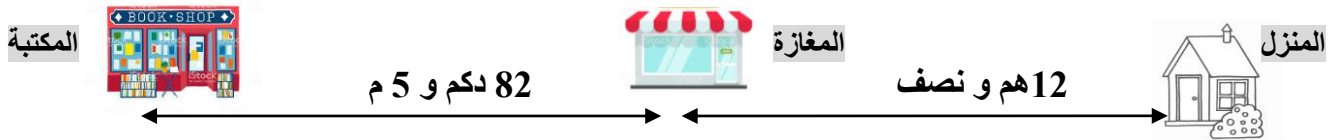
و اشترت ريمة إطارا فضيئا ثمنه يقل عن ثمن القصة بـ 850مي
أحسب المبلغ المتبقي لريمة في عملية مزدوجة :

.....
.....

في طريق العودة توقف الأطفال عند المغازة. اشترى سمير 5 كغ من السكر ثمن الكغ الواحد 1000مي و
12 قطعة من الحلوى ثمن الواحدة 100مي أحسب ثمن السكر و الحلوى

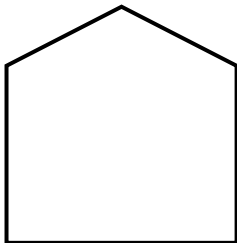
.....*
.....
.....*
.....

هذا الرسم البياني يمثل الطريق الذي سلكه الأطفال



أحسب المسافة الفاصلة بين المنزل و المكتبة بحساب المتر

.....
.....



هذه صورة الإطار الذي اشترته ريمة

ما نوع هذا المضلع؟

- عدد رؤوسه..... / - أسميه و ألون محيطه / - أحدد الزوايا

